

Semestrální zkouška ISS/ISSk, 2. opravný termín, 31.1.2024, skupina A

Login: Příjmení a jméno: Podpis:
(prosím čitelně!)

Příklad 1 Dokažte, že jsou báze diskrétní Fourierovy transformace (DFT) pro $k_1 = 2$ a $k_2 = 3$ ortogonální. Můžete pracovat pro obecný nebo jakýkoliv zvolený počet vzorků N .

$\sum_N \text{báze}_1[n] \text{báze}_2^*[n]$ musí být 0.

$$\sum_N e^{j2\pi \frac{2}{N}n} e^{-j2\pi \frac{3}{N}n} = \sum_N e^{j2\pi \left(\frac{2-3}{N}\right)n} = \sum_N e^{j2\pi \frac{-1}{N}n}$$

jedna otočka komplex. exp. součta je nula

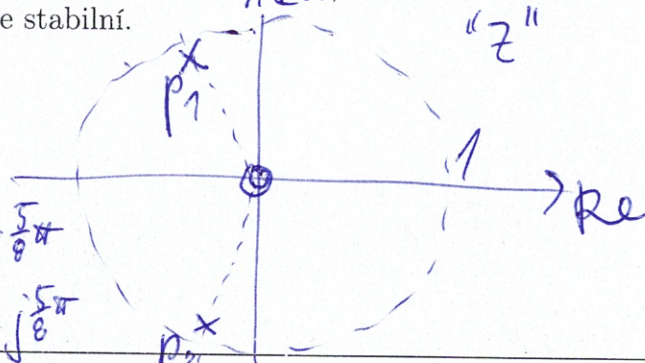
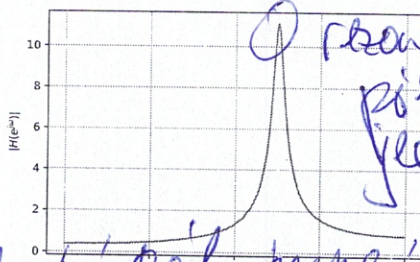
DOKÁZANO

Příklad 2 Napište kód v jazyce C (ne v Pythonu, ne pseudokód) pro implementaci IIR filtru 2. řádu s přenosovou funkcí $H(z) = \frac{b_0 + b_1 z^{-1} + b_2 z^{-2}}{1 + a_1 z^{-1} + a_2 z^{-2}}$. Filtr musí být implementován jako funkce, jejímž vstupem je jeden vstupní vzorek $x[n]$ a výstupem jeden výstupní vzorek $y[n]$. Koefficienty jsou již v proměnných b_0, b_1, b_2, a_1, a_2 .

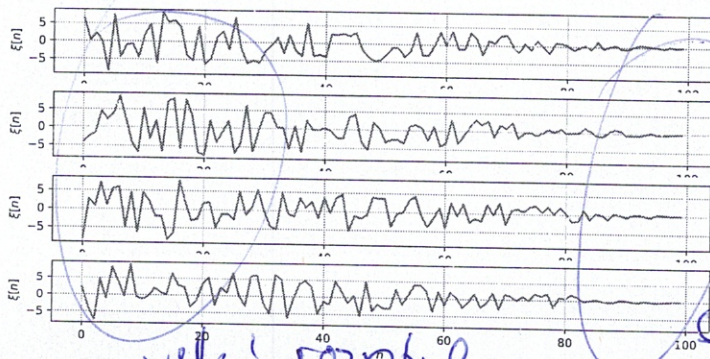
```
float filter(float xm) {
    static float x1=0.0, x2=0.0, y1=0.0, y2=0.0;
    float ym = b0*xm + b1*x1 + b2*x2 - a1*y1 - a2*y2;
    y2 = y1; y1 = ym; x2 = x1; x1 = xm;
    return ym;
}
```

lze řešit i dvěma cykly.

Příklad 3 Na obrázku je modul frekvenční charakteristiky IIR filtru 2. řádu s přenosovou funkcí $H(z) = \frac{1 + b_1 z^{-1} + b_2 z^{-2}}{1 + a_1 z^{-1} + a_2 z^{-2}}$. Víte, že oba dva nulové body tohoto filtru jsou nulové body $\omega = 0$. Odhadněte hodnoty pólů $p_{1,2}$ a zakreslete je do komplexní roviny z . Filtr je stabilní.



Příklad 4 Na obrázcích jsou čtyři realizace náhodného signálu. Určete, zda je signál stacionární a krátce zdůvodněte.



NENÍ STACIONÁRNÍ

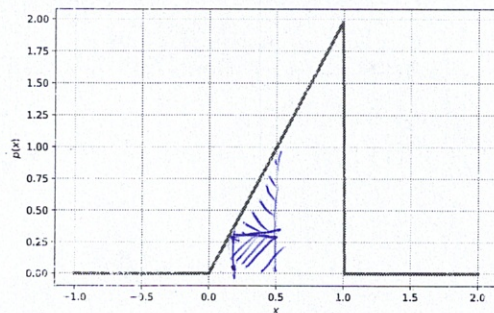
velký rozptyl / klero nulový rozptyl

Příklad 5 Stacionární náhodný signál má diskrétní obor hodnot: $X_1 = -5, X_2 = -4, X_3 = -3, X_4 = -2, X_5 = -1$ s s pravděpodobnostmi $p(X_1) = 0.1, p(X_2) = 0.1, p(X_3) = 0.6, p(X_4) = 0.1, p(X_5) = 0.1$. Určete jeho střední hodnotu.

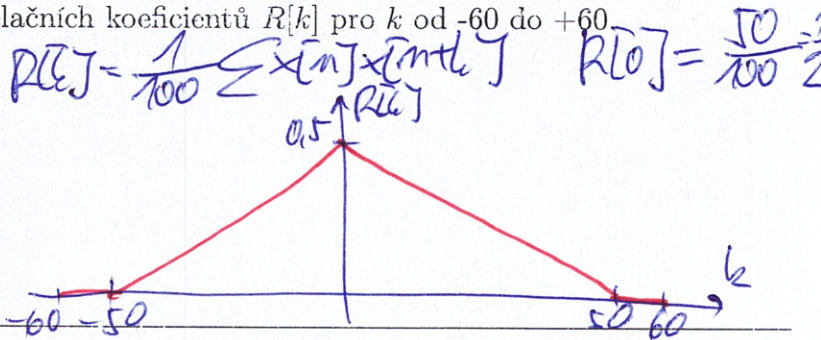
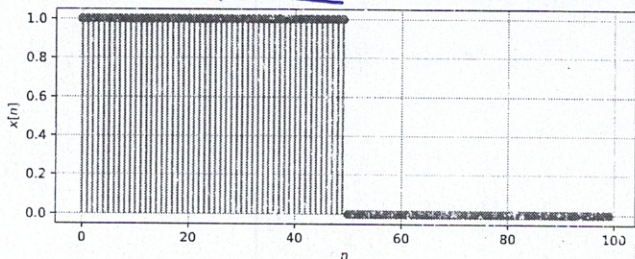
$$a = \sum X_i P(X_i) = -0,5 - 0,4 - 1,8 - 0,2 - 0,1 = \underline{\underline{-3}}$$

Příklad 6 Na obrázku je funkce hustoty rozdělení pravděpodobnosti stacionárního náhodného signálu. Určete následující pravděpodobnost:

$$P(0.2 < \xi[n] < 0.5) = 0.3 \times 0.25 + \frac{0.3 \times 0.75}{2} = 0.075 + 0.12 = 0.2$$



Příklad 7 Na obrázku je průběh náhodného signálu $x[n]$ o délce $N = 100$ vzorků (nenulových vzorků je 50). Nakreslete vychýlený odhad jeho autokorelačních koeficientů $R[k]$ pro k od -60 do $+60$.



Příklad 8 Ve vektoru x o délce $N = 200$ jsou vzorky ergodického náhodného signálu. Napište kód v C, Python/NumPy nebo pseudokód pro odhad spektrální hustoty výkonu $G_x(e^{j\omega})$ přímo ze signálu pomocí DFT. Výsledek generujte pro normované kruhové frekvence ω od 0 rad do π rad.

$$X = \text{mp. fft}(x)$$

$$X = X[0:(N/2+1)] \leftarrow \text{krácení na požadované frekvence}$$

$$G = X * \text{mp. conj}(X) / N$$

nebo

$$G = \text{mp. power}(\text{mp. abs}(X), 2) / N$$

$$G(e^{j\omega}) = \frac{|X[k]|^2}{N}$$

$$\frac{1000}{100000} = \frac{2.5 \cdot 10^{-3}}{a}$$

Příklad 9 Na $\Omega = 4000$ realizací náhodného procesu byla naměřena tabulka (sdružený histogram) hodnot mezi vzorky n_1 a n_2 . Převedte ji na sdruženou funkci hustoty rozdělení pravděpodobnosti $p(x_1, x_2, n_1, n_2)$. Hodnoty můžete psát do stejné tabulky.

intervaly x_1 v n_1	intervaly x_2 v n_2			
	[-20, -10]	[-10, 0]	[0, 10]	[10, 20]
[10, 20]	0	0	0	1000 a
[0, 10]	0	1000 a	0	0
[-10, 0]	0	1000 a	1000 a	0
[-20, -10]	0	0	0	0

① count \rightarrow proba = dělení Ω

② proba \rightarrow PDF: dělení plochy "čtverku" $\left. \frac{1}{10000} \cdot \frac{1}{100} = \frac{1}{100000} \right\}$

Příklad 10 $x[n]$ o délce N vzorků je ergodický náhodný signál. Napište jakoukoliv formou (matematicky, pseudokód), jak ověříte, že se jedná o bílý šum.

- ① odhad autokorelačních koeficientů $R[k]$
- ② kontrola, že jen $R[0] \neq 0$, ostatní jsou u nula (nebo blízko nule)
- případně odhadem $G(e^{j\omega})$ a kontrola, zda je konstantní!

Příklad 11 Periodický signál s diskretním časem s periodou $N_1 = 20$ vzorků má vždy 10 vzorků s hodnotou +1, pak 10 vzorků s hodnotou -1. K tomuto signálu je přimíchán šum se středním výkonem $P_e = 0.1$. Určete poměr signálu k šumu (SNR) v dB.

$$P_{sig} = \frac{1}{N} \sum x^2[n] = \frac{1}{20} (10 \cdot 1 + 10 \cdot 1) = 1$$

$$P_e = 0.1$$

$$SNR = 10 \log_{10} \frac{P_{sig}}{P_e} = 10 \log_{10} \frac{1}{0.1} = 10 \log_{10} 10 = 10 \text{ dB}$$

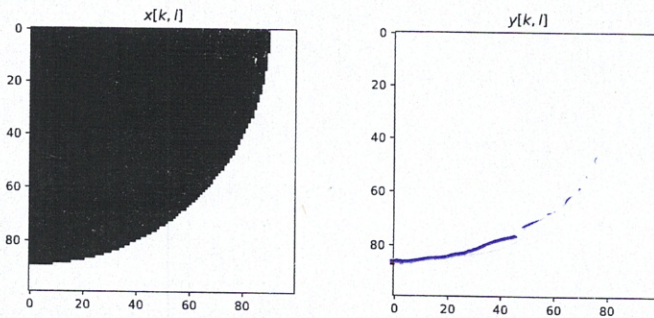
Příklad 12 Obrázek $x[k, l]$ má 2D-DFT $X[m, n]$. Napište, jak se změní hodnoty 2D-DFT, pokud v obrázku zvětšíme kontrast: $y[k, l] = c x[k, l]$, kde $c > 1$. Předpokládejte, že žádná z hodnot $y[k, l]$ nebude "klipována" na maximální úroveň.

všechny FT jsou lineární, takže

$$Y[m, n] = c \cdot X[m, n]$$

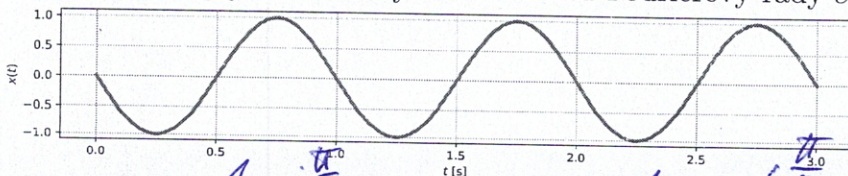
(ze i velmi jednoduché odvodit z definice 2D-DFT)

Příklad 13 Je dán 2D filtr (maska, konvoluční jádro): $h[k, l] = \frac{1}{3} \begin{bmatrix} -1 & -1 & -1 \\ 0 & 0 & 0 \\ +1 & +1 & +1 \end{bmatrix}$. Pro obrázek $x[k, l]$ nakreslete výsledek operace $y = |x[k, l] * h[k, l]|$ (tedy 2D konvoluce a absolutní hodnota). Pixely s hodnotou 0 jsou zde bílé a s hodnotou 1 černé.



detekce vodorovných hran

Příklad 14 Na obrázku je cosinusovka se spojitým časem $x(t)$ s periodou $T_1 = 1$. Napište indexy a hodnoty všech jejích nenulových koeficientů Fourierovy řady c_k .



$$c_1 = \frac{1}{2} e^{j\frac{\pi}{2}}$$

$$c_{-1} = \frac{1}{2} e^{-j\frac{\pi}{2}}$$

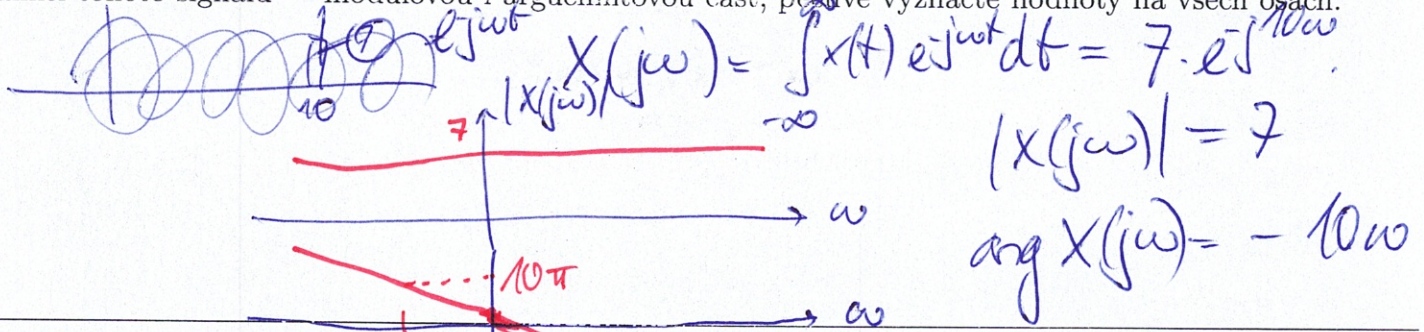
$$x(t) = \cos\left(2\pi t + \frac{\pi}{2}\right)$$

Příklad 15 Periodický signál se spojitým časem má pět nenulových koeficientů Fourierovy řady: $c_0 = 5$, $c_1 = 4e^{-\frac{1}{3}j}$, $c_2 = 2e^{-\frac{1}{2}j}$, $c_{-1} = c_1^*$, $c_{-2} = c_2^*$. Určete střední výkon tohoto signálu.

Parsevalův teorém

$$P_s = \sum |c_k|^2 = 5^2 + 4^2 + 2^2 + 4^2 + 2^2 = 65$$

Příklad 16 Signál se spojitým časem je posunutý Diracův impuls $x(t) = 7\delta(t-10)$. Nakreslete spektrální funkci tohoto signálu — modulovou i argumentovou část, pečlivě vyznačte hodnoty na všech osách.




Příklad 17 Chování systému se spojitým časem je popsáno rovnicí: $y(t) = x(t+3)$. Napište, zda se jedná o kauzální nebo nekauzální systém a krátce zdůvodněte.

system "vidi" vstup v budoucnosti
 \Rightarrow NEJENI KAUZALNI


Příklad 18 Přenosová funkce systému se spojitým časem je $H(s) = \frac{0.5s-1}{0.5s+1}$. Napište diferenciální rovnici popisující tento systém.

$$0,5 \frac{dx(t)}{dt} - x(t) = 0,5 \frac{dy(t)}{dt} + y(t)$$

Příklad 19 Systém se spojitým časem má dva nulové body: $n_1 = 0$ a $n_2 = 0$ a dva póly: $p_1 = -1 - 1000j$ a $p_2 = -1 + 1000j$. Určete modul jeho frekvenční charakteristiky na kruhové frekvenci $\omega_1 = 1000$ rad/s.



Příklad 20 Signál se spojitým časem se bude vzorkovat na vzorkovací frekvenci $F_s = 16$ kHz, ale nevíme, zda je jeho spektrum frekvenčně omezené, bude tedy potřeba použít anti-aliasingový filtr. Nakreslete frekvenční charakteristiku tohoto filtru — na frekvenční ose můžete použít buď kruhové frekvence v rad/s nebo běžné frekvence v Hz.



Semestrální zkouška ISS/ISSk, 2. opravný termín, 31.1.2024, skupina B

Login: Příjmení a jméno: Podpis:
(prosím čitelně!)

Příklad 1 Dokažte, že jsou báze diskretní Fourierovy transformace (DFT) pro $k_1 = 2$ a $k_2 = 4$ ortogonální. Můžete pracovat pro obecný nebo jakýkoliv zvolený počet vzorků N .

viz A

$$\sum_N e^{2\pi i \frac{2-4}{N} m} = \sum_N e^{-\frac{2 \cdot 2\pi}{N} m}$$

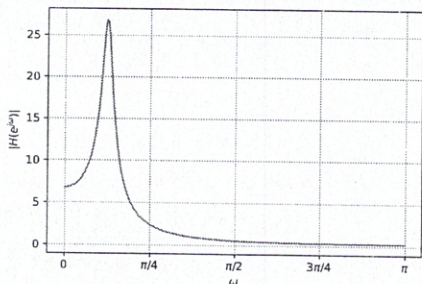
DOKÁZANO

2 otázky komplex. exp
suma je nula

Příklad 2 Napište kód v jazyce C (ne v Pythonu, ne pseudokód) pro implementaci IIR filtru 2. řádu s přenosovou funkcí $H(z) = \frac{b_0 + b_1 z^{-1} + b_2 z^{-2}}{1 + a_1 z^{-1} + a_2 z^{-2}}$. Filtr musí být implementován jako funkce, jejímž vstupem je jeden vstupní vzorek $x[n]$ a výstupem jeden výstupní vzorek $y[n]$. Koeficienty jsou již v proměnných b_0, b_1, b_2, a_1, a_2 .

viz A

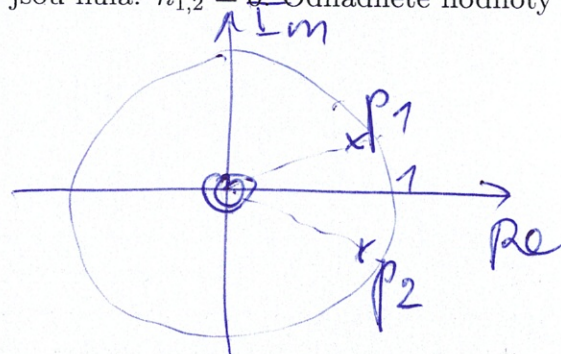
Příklad 3 Na obrázku je modul frekvenční charakteristiky IIR filtru 2. řádu s přenosovou funkcí $H(z) = \frac{1 + b_1 z^{-1} + b_2 z^{-2}}{1 + a_1 z^{-1} + a_2 z^{-2}}$. Víte, že oba dva nulové body tohoto filtru jsou nula: $n_{1,2} = 0$. Odhadněte hodnoty pólů $p_{1,2}$ a zakreslete je do komplexní roviny z . Filtr je stabilní.



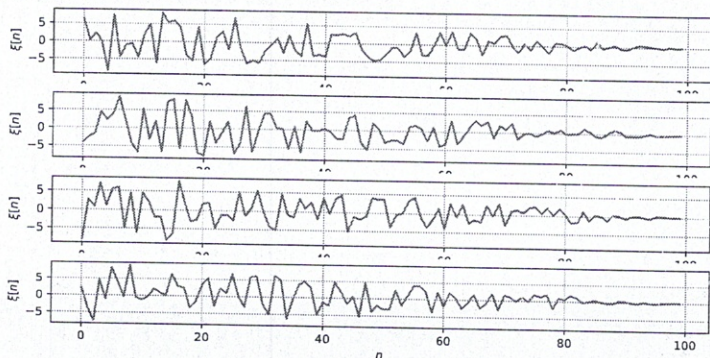
viz A

$$p_1 = 0,9 e^{j\frac{\pi}{8}}$$

$$p_2 = 0,9 e^{-j\frac{\pi}{8}}$$



Příklad 4 Na obrázcích jsou čtyři realizace náhodného signálu. Určete, zda je signál stacionární a krátce zdůvodněte.



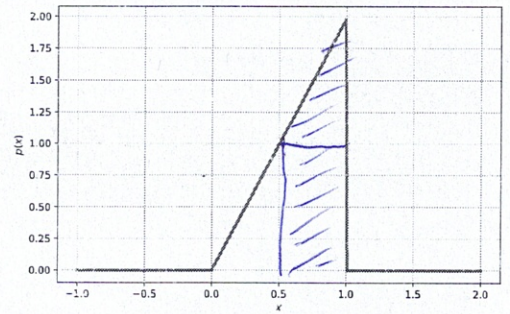
viz A

Příklad 5 Stacionární náhodný signál má pět diskretní obor hodnot: $X_1 = -5, X_2 = -4, X_3 = -3, X_4 = -2, X_5 = -1$ s s pravděpodobnostmi $p(X_1) = 0.1, p(X_2) = 0.1, p(X_3) = 0.1, p(X_4) = 0.1, p(X_5) = 0.6$. Určete jeho střední hodnotu.

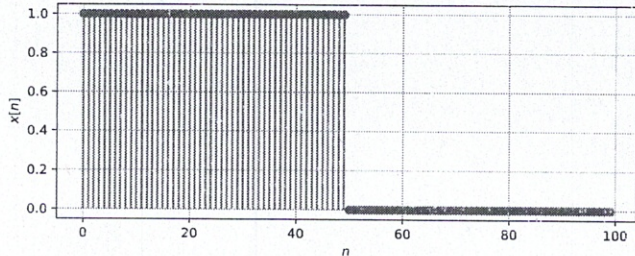
$$a = \sum X_i P(X_i) = -0,5 - 0,4 - 0,3 - 0,2 - 0,6 = \underline{\underline{-2}}$$

Příklad 6 Na obrázku je funkce hustoty rozdělení pravděpodobnosti stacionárního náhodného signálu. Určete následující pravděpodobnost:

$$P(\xi[n] > 0.5) = \int_{0.5}^1 p(x) dx = 0.5 \times 1 + \frac{0.5 \times 1}{2} = \underline{\underline{0.75}}$$



Příklad 7 Na obrázku je průběh náhodného signálu $x[n]$ o délce $N = 100$ vzorků (nenulových vzorků je 50). Nakreslete vychýlený odhad jeho autokorelačních koeficientů $R[k]$ pro k od -60 do $+60$.



viz A

Příklad 8 Ve vektoru x o délce $N = 200$ jsou vzorky ergodického náhodného signálu. Napište kód v C, Python/Numpy nebo pseudokód pro odhad spektrální hustoty výkonu $G_x(e^{j\omega})$ přímo ze signálu pomocí DFT. Výsledek generujte pro normované kruhové frekvence ω od 0 rad do π rad.

viz A

Příklad 9 Na $\Omega = 4000$ realizacích náhodného procesu byla naměřena tabulka (sdružený histogram) hodnot mezi vzorky n_1 a n_2 . Převedte ji na sdruženou funkci hustoty rozdělení pravděpodobnosti $p(x_1, x_2, n_1, n_2)$. Hodnoty můžete psát do stejné tabulky.

intervaly x_1 v n_1	intervaly x_2 v n_2			
	[-20, -10]	[-10, 0]	[0, 10]	[10, 20]
[10, 20]	0	0	0	1000
[0, 10]	0	1000	0	0
[-10, 0]	0	1000	1000	0
[-20, -10]	0	0	0	0

viz A

Příklad 10 $x[n]$ o délce N vzorků je ergodický náhodný signál. Napište jakoukoliv formou (matematicky, pseudokód), jak ověříte, že se jedná o bílý šum.

viz A

Příklad 11 Periodický signál s diskrétním časem s periodou $N_1 = 20$ vzorků má vždy 10 vzorků s hodnotou +1, pak 10 vzorků s hodnotou -1. K tomuto signálu je přimíchán šum se středním výkonem $P_e = 10$. Určete poměr signálu k šumu (SNR) v dB.

viz A

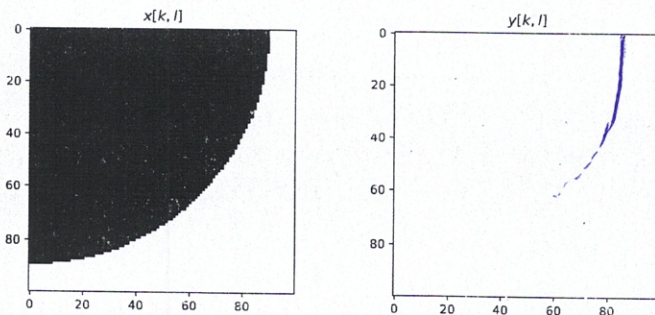
$$SNR = 10 \log_{10} \frac{10}{10} = 10 \log_{10} 1 = 0 \text{ dB}$$

0,1

Příklad 12 Obrázek $x[k, l]$ má 2D-DFT $X[m, n]$. Napište, jak se změní hodnoty 2D-DFT, pokud v obrázku zvětšíme kontrast: $y[k, l] = c x[k, l]$, kde $c > 1$. Předpokládejte, že žádná z hodnot $y[k, l]$ nebude "klipována" na maximální úroveň.

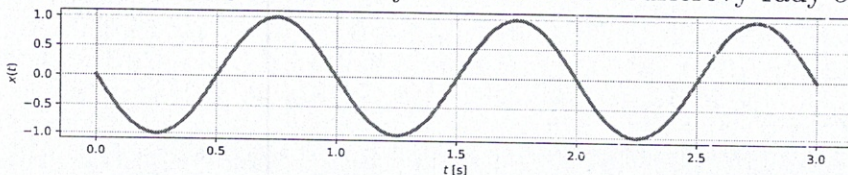
viz A

Příklad 13 Je dán 2D filtr (maska, konvoluční jádro): $h[k, l] = \frac{1}{3} \begin{bmatrix} -1 & 0 & +1 \\ -1 & 0 & +1 \\ -1 & 0 & +1 \end{bmatrix}$. Pro obrázek $x[k, l]$ nakreslete výsledek operace $y = |x[k, l] * h[k, l]|$ (tedy 2D konvoluce a absolutní hodnota). Pixely s hodnotou 0 jsou zde bílé a s hodnotou 1 černé.



debetor existují hran

Příklad 14 Na obrázku je cosinusovka se spojitým časem $x(t)$ s periodou $T_1 = 1$. Napište indexy a hodnoty všech jejích nenulových koeficientů Fourierovy řady c_k .



viz A

Příklad 15 Periodický signál se spojitým časem má pět nenulových koeficientů Fourierovy řady: $c_0 = 5$, $c_1 = 4e^{-\frac{1}{3}j}$, $c_2 = 2e^{-\frac{1}{2}j}$, $c_{-1} = c_1^*$, $c_{-2} = c_2^*$. Určete střední výkon tohoto signálu.

$P_s = 65$

viz A

Příklad 16 Signál se spojitým časem je posunutý Diracův impuls $x(t) = 7\delta(t-10)$. Nakreslete spektrální funkci tohoto signálu — modulovou i argumentovou část, pečlivě vyznačte hodnoty na všech osách.

nic A

Příklad 17 Chování systému se spojitým časem je popsáno rovnicí: $y(t) = x(t-3)$. Napište, zda se jedná o kauzální nebo nekauzální systém a krátce zdůvodněte.

systém "vidí" vstup v minulosti
 \Rightarrow JE KAUZÁLNÍ

Příklad 18 Přenosová funkce systému se spojitým časem je $H(s) = \frac{s-1}{0.5s+1}$. Napište diferenciální rovnici popisující tento systém.

$$\frac{dx(t)}{dt} - x(t) = 0,5 \frac{dy(t)}{dt} + y(t)$$

Příklad 19 Systém se spojitým časem má dva nulové body: $n_1 = 0$ a $n_2 = 0$ a dva póly: $p_1 = -1 - 1000j$ a $p_2 = -1 + 1000j$. Určete modul jeho frekvenční charakteristiky na kruhové frekvenci $\omega_1 = 1000$ rad/s.

nic A

$$|H(j\omega_1)| = \dots\dots\dots$$

Příklad 20 Signál se spojitým časem se bude vzorkovat na vzorkovací frekvenci $F_s = 16$ kHz, ale nevíme, zda je jeho spektrum frekvenčně omezené, bude tedy potřeba použít anti-aliasingový filtr. Nakreslete frekvenční charakteristiku tohoto filtru — na frekvenční ose můžete použít buď kruhové frekvence v rad/s nebo běžné frekvence v Hz.

nic A