

Login: Příjmení a jméno: Podpis:
 (čitelně!)

Příklad 1 Periodický signál se spojitým časem je dán: $x(t) = 4 + 3 \cos(1000\pi t + \frac{\pi}{3})$.
 Napište indexy a hodnoty všech nenulových koeficientů jeho Fourierovy řady (FR). Pomůcka: nenulové koeficienty FR jsou tři.

$$c_0 = 4$$

$$c_1 = 1,5 e^{j\frac{\pi}{3}}$$

$$c_{-1} = 1,5 e^{-j\frac{\pi}{3}}$$


c_0 $c_{\pm 1}$

Příklad 2 Periodický signál se spojitým časem má základní kruhovou frekvenci $\omega_1 = 16000\pi$ rad/s a jediný nenulový koeficient FR: $c_1 = -2 - 2j$. Napište výraz pro odpovídající signál. Dobře zvažte, zda bude reálný nebo komplexní.


$x(t) = 18 e^{-j\frac{3}{4}\pi} e^{j16000\pi t}$

Wona' c_{-1} , signál bude komplexní
 lze ukehat i v pruvodum tvaru $-2-2j$

Příklad 3 Signál se spojitým časem je dán jako součet dvou Diracových impulsů: $x(t) = 2\delta(t) + 2\delta(t-1)$. Napište výraz pro jeho spektrální funkci.



$$X(j\omega) = 2e^{j\omega 0} + 2e^{j\omega 1} = 2 + 2e^{j\omega}$$




Příklad 4 Spektrální funkce signálu se spojitým časem $x(t)$ má na kruhové frekvenci $\omega_1 = 8000\pi$ rad/s hodnotu $X(j\omega_1) = 3e^{-j\frac{3\pi}{4}}$. Signál $y(t)$ je zpožděná verze $x(t)$: $y(t) = x(t - \frac{1}{16000})$. Napište hodnotu spektrální funkce signálu $y(t)$ na stejné kruhové frekvenci.

$$x(t) \rightarrow X(j\omega), y = x(t - \tau) \rightarrow Y(j\omega) = X(j\omega) e^{-j\omega\tau}$$

$$Y(j\omega_1) = 3e^{-j\frac{3\pi}{4}} \cdot e^{-j8000\pi \cdot \frac{1}{16000}} = 3e^{-j\frac{3\pi}{4}} \cdot e^{-j\frac{\pi}{2}} = 3e^{-j\frac{5\pi}{4}}$$

Příklad 5 Spektrální funkce signálu se spojitým časem má tvar obdélníka:
 $X(j\omega) = \begin{cases} 5 & \text{pro } -200\pi \text{ rad/s} \leq \omega \leq +200\pi \text{ rad/s} \\ 0 & \text{jinde} \end{cases}$


Pomocí inverzní Fourierovy transformace spočítejte odpovídající signál $x(t)$: zapíšte jej výrazem a nakreslete. na osách označte důležité hodnoty.



$$x(t) = \frac{1}{2\pi} \int_{-\infty}^{\infty} X(j\omega) e^{j\omega t} d\omega = \text{Sebestova} = \text{parabola}$$

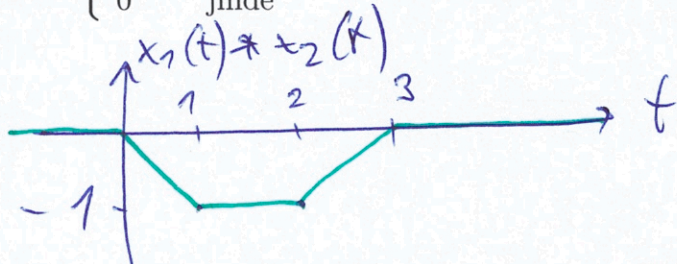
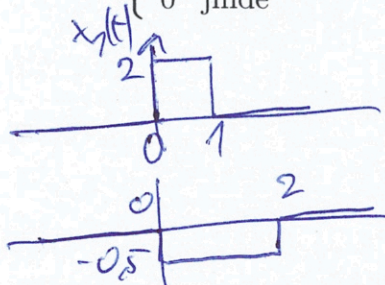
$$= \frac{A}{2\pi} \cdot 2\omega_c \text{sinc}(\omega_c t) = \frac{A\omega_c}{\pi} \text{sinc}(\omega_c t)$$

$$x(t) = \frac{5 \cdot 200\pi}{\pi} \text{sinc}(200\pi t) = 1000 \text{sinc}(200\pi t)$$



Příklad 6 Nakreslete výsledek konvoluce dvou signálů se spojitým časem: $y(t) = x_1(t) * x_2(t)$.

$$x_1(t) = \begin{cases} 2 & \text{pro } 0 \leq t \leq 1 \\ 0 & \text{jinde} \end{cases} \quad \text{a} \quad x_2(t) = \begin{cases} -0.5 & \text{pro } 0 \leq t \leq 2 \\ 0 & \text{jinde} \end{cases}$$



Příklad 7 Systém se spojitým časem je zadán diferenciální rovnicí:

$$\left(\frac{d^2 x(t)}{dt^2} + 0.5 \frac{dx(t)}{dt} + 0.4x(t) \right) = \frac{d^2 y(t)}{dt^2} - 2 \frac{dy(t)}{dt} + y(t).$$

$$H(s) = \frac{Y(s)}{X(s)}$$

Určete přenosovou funkci systému.

Laplaceova transformace

$$X(s)s^2 + 0.5X(s)s + 0.4X(s) = Y(s)s^2 - 2Y(s)s + Y(s)$$

$$X(s)(s^2 + 0.5s + 0.4) = Y(s)(s^2 - 2s + 1)$$

$$H(s) = \frac{s^2 + 0.5s + 0.4}{s^2 - 2s + 1}$$

Příklad 8 Systém se spojitým časem omezuje ("klipuje") vstupní signál:

$$y(t) = \begin{cases} x(t) & \text{pro } -1 \leq x(t) \leq 1 \\ -1 & \text{pro } x(t) < -1 \\ 1 & \text{pro } x(t) > 1 \end{cases}$$

Určete, zda je systém lineární. Vaše tvrzení zdůvodněte.

Podmínka linearity musí platit: $ax_1(t) + bx_2(t) \rightarrow ay_1(t) + by_2(t)$

Příklad pro $x_1(t) = 2$ a $x_2(t) = 3 \rightarrow y_1(t) = 1, y_2(t) = 1$

$a=1, b=1 \dots$ pro vstup $1 \cdot 2 + 1 \cdot 3$ má být výstup $1 + 1 = 2$. Výstup je $1 \neq 2 \Rightarrow$ nelineární

Příklad 9 Máte písničku nahranou se vzorkovací frekvencí $F_s = 48$ kHz. Senior se starým mobilem ji chce jako vyzvánění, mobil ale podporuje jen $F_s = 8$ kHz. Blokovým schématem nebo slovně uveďte, jak budete postupovat. Očekávám seriózní odpověď, ne "použiju Audacity...".

1) filtrováním anti-alias filtrem s mezní frekvencí 4 kHz

2) podvzorkováním (výběr každého 6. vzorku)

nebo viz přík. 7

Příklad 10 Spektrální funkce signálu se spojitým časem $x(t)$ má na kruhové frekvenci $\omega_1 = 8000\pi$ rad/s hodnotu $X(j\omega_1) = \frac{1}{32000} e^{j\frac{\pi}{4}}$. Signál je vzorkován na $F_s = 32$ kHz. Nedošlo k aliasingu. Uveďte, zda je možné určit spektrální funkci navzorkovaného signálu $X_s(j\omega)$ na kruhové frekvenci $\omega_1 = 72000\pi$ rad/s. Pokud ano, napište její hodnotu.

výsledná spektr. funkce je periodická s $2\pi F_s$

a dělí se T (násobí $\sqrt{F_s}$)

$8000\pi + 2\pi \cdot 32000 = 72000\pi = 8000\pi + 1$ perioda kruhové vzork. frekv.

$$X_s(j72000\pi) = \frac{32000}{32000} \cdot \frac{1}{32000} \cdot e^{j\frac{\pi}{4}} = \underline{\underline{e^{j\frac{\pi}{4}}}}$$

Příklad 11 Diskrétní signál $x[n]$ má délku $N = 8$ vzorků, jeho hodnoty jsou v tabulce. Napište hodnoty signálu získaného pomocí $y[n] = R_8[n]x[\text{mod}_8(n-4)]$, kde $R_8[n]$ je okénková funkce a mod_8 je funkce modulo. **Pojmenujte** operaci, kterou jste provedli.

n	0	1	2	3	4	5	6	7
$x[n]$	1	-3	2	5	9	-5	-7	1
$y[n]$	9	-5	-7	1	1	-3	2	5

kruhové zpoždění
nebo
kruhové posunutí

Příklad 12 Napište, jaké je rozlišení Fourierovy transformace s diskretním časem DTFT (teoretické, ne při numerickém výpočtu) na ose normovaných kruhových frekvencí. Pomůcka: Neptám se na DFT.

$$\tilde{X}(e^{j\omega}) = \sum_{n=-\infty}^{\infty} x[n] e^{-j\omega n}$$

Nekonečné rozlišení, ω je reálné číslo.

Příklad 13 Diskrétní signál $x[n]$ je reálný a má na normované kruhové frekvenci $\omega_1 = \frac{\pi}{8}$ rad hodnotu DTFT $\tilde{X}(e^{j\omega_1}) = 4 + 4j$. Určete hodnotu DTFT na normované kruhové frekvenci $\omega_2 = \frac{15\pi}{8}$ rad. Pokud to nejde, jasně to napište.

Symetrie DTFT $\tilde{X}(e^{j\omega_2}) = \tilde{X}^*(e^{j(2\pi - \omega_1)})$
 $\frac{15\pi}{8} = 2\pi - \frac{\pi}{8}$
 komplexní sdružení.

$$\tilde{X}(e^{j\frac{15\pi}{8}}) = 4 - 4j$$

Příklad 14 Je dán signál s diskretním časem o délce $N = 8$, vzorky $x[0] \dots x[7]$ jsou $g = \frac{1}{\sqrt{2}}$ -1, 0, 1, 0, -1, 0, 1, 0. Vypočítejte první koeficient jeho Diskrétní Fourierovy transformace (DFT).

$$X[1] = \sum_{n=0}^7 x[n] e^{-j\frac{2\pi}{8} \cdot 1 \cdot n} = \sum_{n=0}^7 x[n] e^{-j\frac{\pi}{4} n}$$

n	0	1	2	3	4	5	6	7
$x[n]$	-1	0	1	0	-1	0	1	0
$e^{-j\frac{\pi}{4} n}$	1	$g - jg$	-j	$-g - jg$	-1	$-g + jg$	j	$g + jg$

$$X[1] = -1 - j + 1 + j = \underline{\underline{0}}$$

Příklad 15 DFT diskrétního signálu $x[n]$ o délce $N = 128$ vzorků je $X[k]$. DFT diskrétního signálu $y[n]$ o stejné délce je dána: $Y[k] = X[k]e^{-j\frac{2\pi}{128}k^3}$ Popište matematicky nebo slovně, jaký je vztah mezi signály $x[n]$ a $y[n]$. Pomůcka: u DFT se vše děje v bufferu $0 \dots N - 1$, nikde jinde.

signál $y[n]$ je kruhově zpožděný $x[n]$
o 3 vzorky

$$y[n] = R_{128}[n] x[\text{mod}_{128}(n-3)]$$

Příklad 16 Číslicový filtr je dán diferenční rovnicí
 $y[n] = x[n] - 0.2x[n-1] + 0.2x[n-2] + 0.1y[n-1] - 0.1y[n-2]$. Napište jeho přenosovou funkci $H(z)$.

$$Y(z) = X(z) - 0.2X(z)z^{-1} + 0.2X(z)z^{-2} + 0.1Y(z)z^{-1} - 0.1Y(z)z^{-2}$$

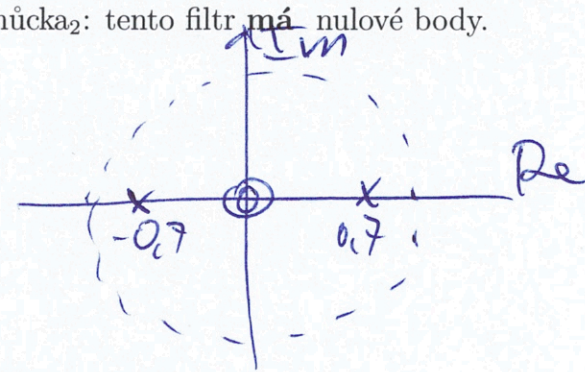
$$Y(z)[1 - 0.1z^{-1} + 0.1z^{-2}] = X(z)[1 - 0.2z^{-1} + 0.2z^{-2}]$$

$$H(z) = \frac{1 - 0.2z^{-1} + 0.2z^{-2}}{1 - 0.1z^{-1} + 0.1z^{-2}}$$

Příklad 17 Číslicový filtr IIR druhého řádu má přenosovou funkci $H(z) = \frac{1}{1 - 0.49z^{-2}}$.
 Určete jeho nulové body a póly, zapište je a nakreslete do komplexní roviny "z". Pomůcka₁: řešení kvadratické rovnice $ax^2 + bx + c = 0$ jsou $x_{1,2} = \frac{-b \pm \sqrt{b^2 - 4ac}}{2a}$. Pomůcka₂: tento filtr má nulové body.

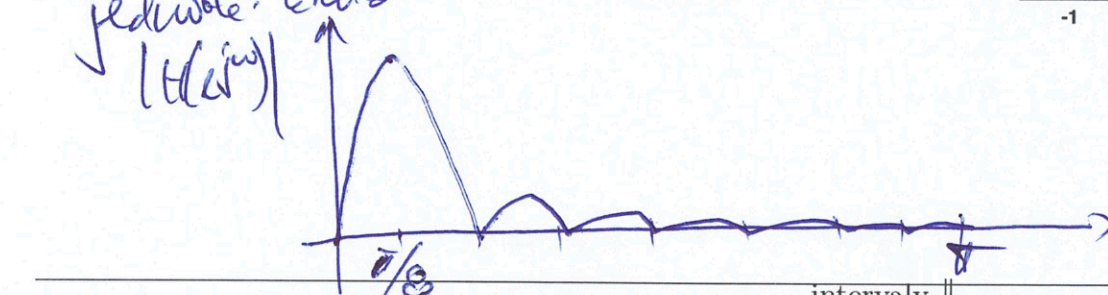
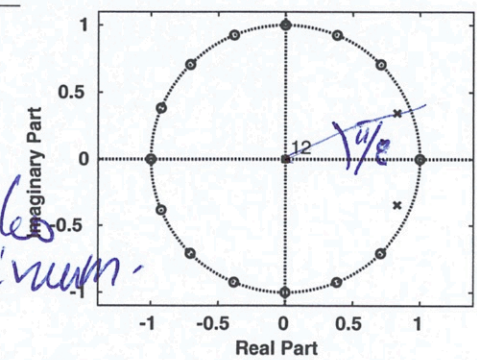
$$H(z) = \frac{z^2}{z^2 - 0.49} = \frac{(z-0)(z-0)}{(z-0.7)(z+0.7)}$$

nulové body: dvojitý v 0
 póly: 0.7, -0.7



Příklad 18 Na obrázku jsou nulové body a póly číslicového filtru (v počátku je 12 pólů). Nakreslete přibližně modul jeho frekvenční charakteristiky $H(e^{j\omega})$ pro interval normovaných kruhových frekvencí ω od 0 do π rad.

Nulové body na 1. typu křivky "kill" pole blíže k jednotce křivka ztlumena maximum.



Příklad 19 Na $\Omega = 4000$ realizacích náhodného procesu byla naměřena tabulka (sdružený histogram) hodnot mezi vzorky n_1 a n_2 . Převeďte je na odhad sdružené funkce hustoty rozdělení pravděpodobnosti $p(x_1, x_2, n_1, n_2)$.

intervaly x_1	intervaly x_2			
	[-20, -10]	[-10, 0]	[0, 10]	[10, 20]
[10, 20]	0	0	0	0
[0, 10]	0	0.0025	0.0025	0
[-10, 0]	0	0.0025	0.0025	0
[-20, -10]	0	0	0	0

normalizace 1: počtem realizací

normalizace 2: plocha 2D intervalu $\frac{1000}{4000 \cdot 10 \cdot 10} = 0.0025$

Příklad 20 Korelační koeficienty stacionárního náhodného signálu jsou $R[0] = 10$, $R[1] = 5$, $R[-1] = 5$. Ostatní jsou nulové. Určete, zda je tento signál bílý šum, své tvrzení zdůvodněte.

Bílý šum má pouze $R[0]$ nenulový, ostatní jsou nulové → není bílý šum.

Semestrální zkouška ISS/VSG, řádný termín, 17.1.2022, skupina B

Login: Příjmení a jméno: Podpis:
(čitelně!)

Příklad 1 Periodický signál se spojitým časem je dán: $x(t) = 3 + 2 \cos(1000\pi t - \frac{\pi}{3})$.

Napište indexy a hodnoty všech nenulových koeficientů jeho Fourierovy řady (FŘ). Pomůcka: nenulové koeficienty FŘ jsou tři.

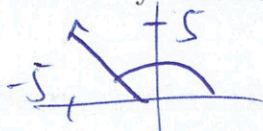
$$c_0 = 3$$

$$c_1 = 1 \cdot e^{-j\frac{\pi}{3}}$$

$$c_{-1} = 1 \cdot e^{+j\frac{\pi}{3}}$$

Příklad 2 Periodický signál se spojitým časem má základní kruhovou frekvenci $\omega_1 = 16000\pi$ rad/s a jediný nenulový koeficient FŘ: $c_1 = -5 + 5j$. Napište výraz pro odpovídající signál. Dobře zvažte, zda bude reálný nebo komplexní.

viz A



$$x(t) = \sqrt{50} \cdot e^{j\frac{3\pi}{4}} e^{j16000\pi t}$$

Příklad 3 Signál se spojitým časem je dán jako součet dvou Diracových impulsů:

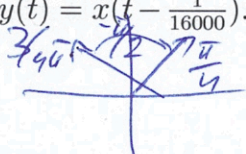
$x(t) = 2\delta(t) + \delta(t - 1)$. Napište výraz pro jeho spektrální funkci.

viz A

$$X(j\omega) = 2 + e^{-j\omega}$$

Příklad 4 Spektrální funkce signálu se spojitým časem $x(t)$ má na kruhové frekvenci $\omega_1 = 8000\pi$ rad/s hodnotu $X(j\omega_1) = 3e^{j\frac{3\pi}{4}}$. Signál $y(t)$ je zpožděná verze $x(t)$: $y(t) = x(t - \frac{1}{16000})$. Napište hodnotu spektrální funkce signálu $y(t)$ na stejné kruhové frekvenci.

viz A



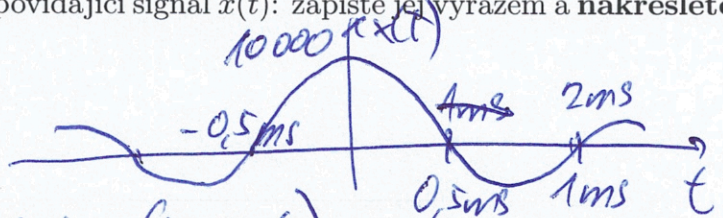
$$Y(j\omega_1) = 3e^{j\frac{3\pi}{4}} \cdot e^{-j\frac{\pi}{2}} = 3e^{j\frac{\pi}{4}}$$

Příklad 5 Spektrální funkce signálu se spojitým časem má tvar obdélníka:

$$X(j\omega) = \begin{cases} 5 & \text{pro } -2000\pi \text{ rad/s} \leq \omega \leq +2000\pi \text{ rad/s} \\ 0 & \text{jinde} \end{cases}$$

Pomocí inverzní Fourierovy transformace spočítejte odpovídající signál $x(t)$: запиšte jej výrazem a nakreslete. na osách označte důležité hodnoty.

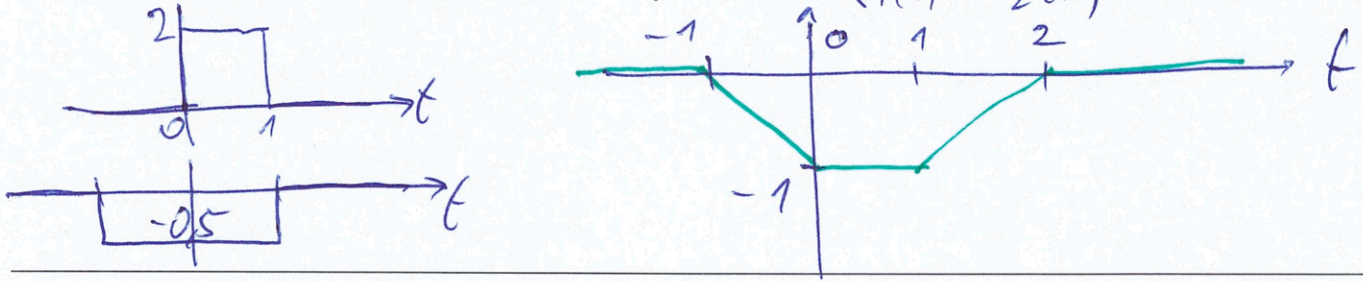
viz A



$$x(t) = \frac{5 \cdot 2000\pi}{\pi} \text{sinc}(2000\pi t) = 10000 \text{sinc}(2000\pi t)$$

Příklad 6 Nakreslete výsledek konvoluce dvou signálů se spojitým časem: $y(t) = x_1(t) * x_2(t)$.

$$x_1(t) = \begin{cases} 2 & \text{pro } 0 \leq t \leq 1 \\ 0 & \text{jinde} \end{cases} \quad \text{a} \quad x_2(t) = \begin{cases} -0.5 & \text{pro } -1 \leq t \leq 1 \\ 0 & \text{jinde} \end{cases}$$



Příklad 7 Systém se spojitým časem je zadán diferenciální rovnicí:

$$\frac{d^2x(t)}{dt^2} + 0.5\frac{dx(t)}{dt} + 0.4x(t) = \frac{d^2y(t)}{dt^2} - 2\frac{dy(t)}{dt} + y(t).$$

Určete přenosovou funkci systému.

viz A

$$H(s) = \frac{s^2 + 0,5s + 0,4}{s^2 - 2s + 1}$$

Příklad 8 Systém se spojitým časem omezuje ("klipuje") vstupní signál:

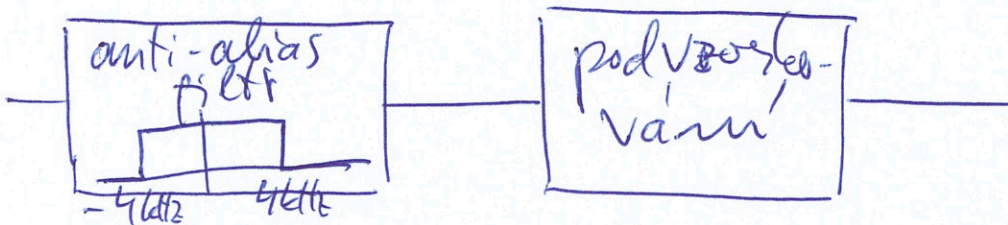
$$y(t) = \begin{cases} x(t) & \text{pro } -1 \leq x(t) \leq 1 \\ -1 & \text{pro } x(t) < -1 \\ 1 & \text{pro } x(t) > 1 \end{cases}$$

Určete, zda je systém lineární. Vaše tvrzení zdůvodněte.

viz A

Příklad 9 Máte písničku nahranou se vzorkovací frekvencí $F_s = 48$ kHz. Senior se starým mobilem ji chce jako vyzvánění, mobil ale podporuje jen $F_s = 8$ kHz. Blokovým schématem nebo slovně uveďte, jak budete postupovat. Očekávám seriózní odpověď, ne "použiju Audacity...".

nebo viz A



Příklad 10 Spektrální funkce signálu se spojitým časem $x(t)$ má na kruhové frekvenci

$$\omega_1 = 8000\pi \text{ rad/s} \text{ hodnotu } X(j\omega_1) = \frac{1}{32000} e^{-j\frac{\pi}{4}}$$

Signál je vzorkován na $F_s = 32$ kHz. Nedošlo k aliasingu. Uveďte, zda je možné určit spektrální funkci navzorkovaného signálu $X_s(j\omega)$ na kruhové frekvenci

$\omega_1 = 72000\pi$ rad/s. Pokud ano, napište její hodnotu.

viz A

$$X_s(j72000\pi) = e^{-j\frac{\pi}{4}}$$

Příklad 11 Diskrétní signál $x[n]$ má délku $N = 8$ vzorků, jeho hodnoty jsou v tabulce. Napište hodnoty signálu získaného pomocí $y[n] = R_8[n]x[\text{mod}_8(n - 3)]$, kde $R_8[n]$ je okénková funkce a mod_8 je funkce modulo. **Pojmenujte** operaci, kterou jste provedli.

n	0	1	2	3	4	5	6	7
$x[n]$	1	-3	2	5	9	-5	-7	1
$y[n]$	-5	-7	1	1	-3	2	5	9

kruhové zpoždění
nebo
kruhové posunutí

Příklad 12 Napište, jaké je rozlišení Fourierovy transformace s diskretním časem DTFT (teoretické, ne při numerickém výpočtu) na ose normovaných kruhových frekvencí. Pomůcka: Neptám se na DFT.

viz A

Příklad 13 Diskrétní signál $x[n]$ je reálný a má na normované kruhové frekvenci $\omega_1 = \frac{\pi}{8}$ rad hodnotu DTFT $\tilde{X}(e^{j\omega_1}) = 5 - 2j$. Určete hodnotu DTFT na normované kruhové frekvenci $\omega_2 = \frac{15\pi}{8}$ rad. Pokud to nejde, jasně to napište.

viz A

$\tilde{X}(e^{j\frac{15\pi}{8}}) = 5 + 2j$

Příklad 14 Je dán signál s diskretním časem o délce $N = 8$, vzorky $x[0] \dots x[7]$ jsou 1, -1, 1, -1, 1, -1, 1, -1. Vypočítejte první koeficient jeho Diskrétní Fourierovy transformace (DFT).

viz A

$x[n]$	1	-1	1	-1	1	-1	1	-1
$e^{-j\frac{\pi}{4}n}$	1	$9 - j9$	$-j$	$-9 - j9$	-1	$-9 + j9$	j	$9 + j9$

$X[1] = \dots$ #šedro se vyruší... = 0

Příklad 15 DFT diskretního signálu $x[n]$ o délce $N = 128$ vzorků je $X[k]$. DFT diskretního signálu $y[n]$ o stejné délce je dána: $Y[k] = X[k]e^{-j\frac{2\pi}{128}k^2}$ Popište matematicky nebo slovně, jaký je vztah mezi signály $x[n]$ a $y[n]$. Pomůcka: u DFT se vše děje v bufferu $0 \dots N - 1$, nikde jinde.

viz A

... 0 7 vzorků
(n - 7)

Příklad 16 Číslicový filtr je dán diferenční rovnicí

$y[n] = x[n] - 0.1x[n-1] + 0.2x[n-2] + 0.1y[n-1] + 0.1y[n-2]$. Napište jeho přenosovou funkci.

$$H(z) = \frac{1 - 0.1z^{-1} + 0.2z^{-2}}{1 - 0.1z^{-1} - 0.1z^{-2}}$$

Příklad 17 Číslicový filtr IIR druhého řádu má přenosovou funkci $H(z) = \frac{1}{1-0.81z^{-2}}$.

Určete jeho nulové body a póly, zapište je a nakreslete do komplexní roviny "z". Pomůcka₁: řešení kvadratické rovnice $ax^2 + bx + c = 0$ jsou $x_{1,2} = \frac{-b \pm \sqrt{b^2 - 4ac}}{2a}$. Pomůcka₂: tento filtr má nulové body.

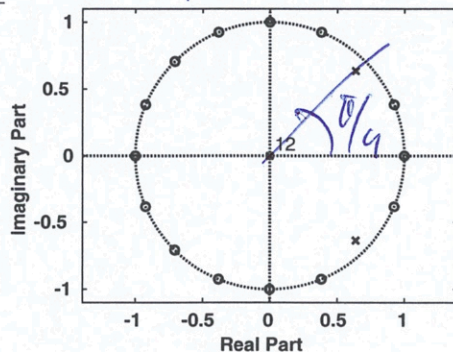
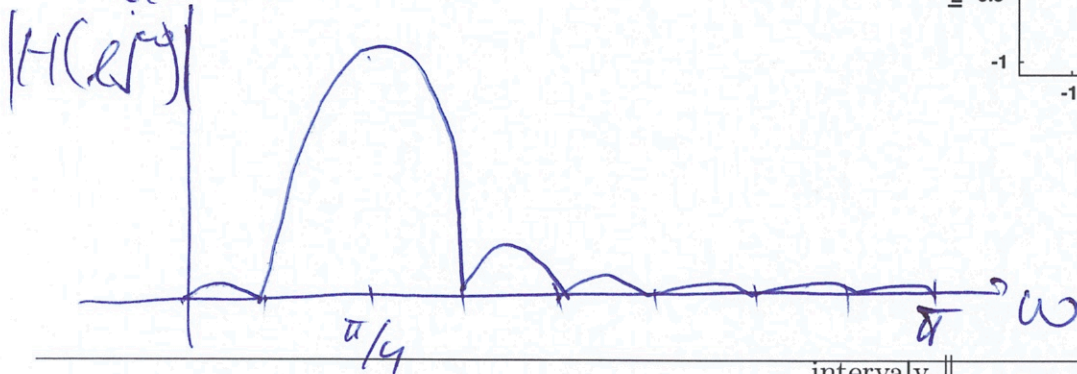
viz A

nul. body: dvojitý v0
póly: 0,9, -0,9



Příklad 18 Na obrázku jsou nulové body a póly číslicového filtru (v počátku je 12 pólů). Nakreslete přibližně modul jeho frekvenční charakteristiky $H(e^{j\omega})$ pro interval normovaných kruhových frekvencí ω od 0 do π rad.

viz A



Příklad 19 Na $\Omega = 4000$ realizacích náhodného procesu byla naměřena tabulka (sdružený histogram) hodnot mezi vzorky n_1 a n_2 . Převedte je na odhad sdružené funkce hustoty rozdělení pravděpodobnosti $p(x_1, x_2, n_1, n_2)$.

intervaly x_1	intervaly x_2			
	[-20, -10]	[-10, 0]	[0, 10]	[10, 20]
[10, 20]	0	0	0	0
[0, 10]	0	1000	1000	0
[-10, 0]	0	1000	1000	0
[-20, -10]	0	0	0	0

viz A

Příklad 20 Korelační koeficienty stacionárního náhodného signálu jsou

$R[0] = 10$, $R[1] = -5$, $R[-1] = -5$. Ostatní jsou nulové. Určete, zda je tento signál bílý šum, své tvrzení zdůvodněte.

viz A

Semestrální zkouška ISS/VSG, řádný termín, 17.1.2022, skupina C

Login: Příjmení a jméno: Podpis:
(čitelně!)

Příklad 1 Periodický signál se spojitým časem je dán: $x(t) = 1 + 2 \cos(1000\pi t + \frac{\pi}{4})$.

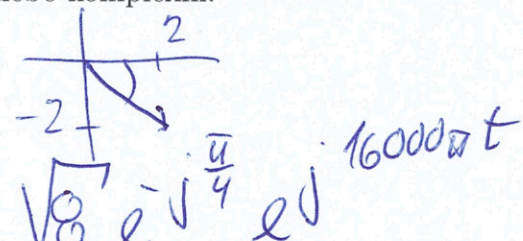
Napište indexy a hodnoty všech nenulových koeficientů jeho Fourierovy řady (FŘ). Pomůcka: nenulové koeficienty FŘ jsou tři.

$$c_0 = 1$$

$$c_1 = 1 \cdot e^{j\frac{\pi}{4}}$$

$$c_{-1} = 1 \cdot e^{-j\frac{\pi}{4}}$$

Příklad 2 Periodický signál se spojitým časem má základní kruhovou frekvenci $\omega_1 = 16000\pi$ rad/s a jediný nenulový koeficient FŘ: $c_1 = 2 - 2j$. Napište výraz pro odpovídající signál. Dobře zvažte, zda bude reálný nebo komplexní.



$$x(t) = \sqrt{8} e^{-j\frac{\pi}{4}} e^{j16000\pi t}$$

viz A

Příklad 3 Signál se spojitým časem je dán jako součet dvou Diracových impulsů:


$x(t) = 2\delta(t) + 2\delta(t+1)$. Napište výraz pro jeho spektrální funkci.

viz A

$$X(j\omega) = 2 + 2e^{+j\omega}$$

Příklad 4 Spektrální funkce signálu se spojitým časem $x(t)$ má na kruhové frekvenci $\omega_1 = 8000\pi$ rad/s hodnotu $X(j\omega_1) = 2e^{-j\frac{\pi}{4}}$. Signál $y(t)$ je zpožděná verze $x(t)$: $y(t) = x(t - \frac{1}{16000})$. Napište hodnotu spektrální funkce signálu $y(t)$ na stejné kruhové frekvenci.

viz A



$$Y(j\omega_1) = 2e^{-j\frac{\pi}{4}} \cdot e^{-j\frac{\pi}{2}} = 2e^{-j\frac{3\pi}{4}}$$

Příklad 5 Spektrální funkce signálu se spojitým časem má tvar obdélníka:

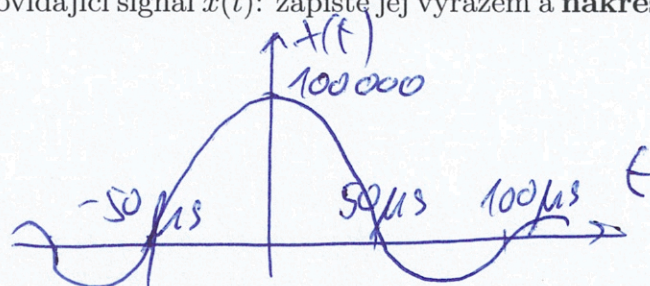
$$X(j\omega) = \begin{cases} 5 & \text{pro } -20000\pi \text{ rad/s} \leq \omega \leq +20000\pi \text{ rad/s} \\ 0 & \text{jinde} \end{cases}$$

viz A

Pomocí inverzní Fourierovy transformace spočítejte odpovídající signál $x(t)$: zapište jej výrazem a nakreslete. na osách označte důležité hodnoty.

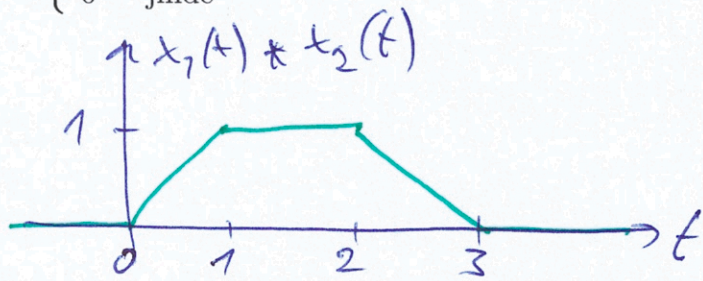
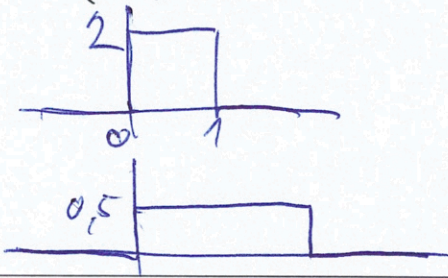
$$x(t) = \frac{5 \cdot 20000\pi}{\pi} \text{sinc}(20000\pi t)$$

$$x(t) = 100000 \text{sinc}(20000\pi t)$$



Příklad 6 Nakreslete výsledek konvoluce dvou signálů se spojitým časem: $y(t) = x_1(t) * x_2(t)$.

$$x_1(t) = \begin{cases} 2 & \text{pro } 0 \leq t \leq 1 \\ 0 & \text{jinde} \end{cases} \quad \text{a} \quad x_2(t) = \begin{cases} 0.5 & \text{pro } 0 \leq t \leq 2 \\ 0 & \text{jinde} \end{cases}$$



Příklad 7 Systém se spojitým časem je zadán diferenciální rovnicí:

$$\frac{d^2x(t)}{dt^2} + 0.5\frac{dx(t)}{dt} + 0.4x(t) = \frac{d^2y(t)}{dt^2} + 2\frac{dy(t)}{dt} + 1y(t). \quad \text{Určete přenosovou funkci systému.}$$

viz A

$$H(s) = \frac{s^2 + 0,5s + 0,4}{s^2 + 2s + 1}$$

Příklad 8 Systém se spojitým časem omezuje ("klipuje") vstupní signál:

$$y(t) = \begin{cases} x(t) & \text{pro } -1 \leq x(t) \leq 1 \\ -1 & \text{pro } x(t) < -1 \\ 1 & \text{pro } x(t) > 1 \end{cases}$$

Určete, zda je systém lineární. Vaše tvrzení zdůvodněte.

viz A

Příklad 9 Máte písničku nahranou se vzorkovací frekvencí $F_s = 48$ kHz. Senior se starým mobilem ji chce jako vyzvánění, mobil ale podporuje jen $F_s = 8$ kHz. Blokovým schématem nebo slovně uveďte, jak budete postupovat. Očekávám seriózní odpověď, ne "použiju Audacity...".

viz A nebo B

Příklad 10 Spektrální funkce signálu se spojitým časem $x(t)$ má na kruhové frekvenci

$\omega_1 = 8000\pi$ rad/s hodnotu $X(j\omega_1) = \frac{1}{32000}e^{j\frac{3\pi}{4}}$ Signál je vzorkován na $F_s = 32$ kHz. Nedošlo k aliasingu.

Uveďte, zda je možné určit spektrální funkci navzorkovaného signálu $X_s(j\omega)$ na kruhové frekvenci

$\omega_1 = 72000\pi$ rad/s. Pokud ano, napište její hodnotu.

viz A

$$X_s(j72000\pi) = e^{j\frac{3\pi}{4}}$$

Příklad 11 Diskrétní signál $x[n]$ má délku $N = 8$ vzorků, jeho hodnoty jsou v tabulce. Napište hodnoty signálu získaného pomocí $y[n] = R_8[n]x[\text{mod}_8(n - 2)]$, kde $R_8[n]$ je okénková funkce a mod_8 je funkce modulo. **Pojmenujte** operaci, kterou jste provedli.

n	0	1	2	3	4	5	6	7
$x[n]$	1	-3	2	5	9	-5	-7	1
$y[n]$	-7	1	1	-3	2	5	9	-5

kruhové zpoždění
nebo
kruhové posunutí

Příklad 12 Napište, jaké je rozlišení Fourierovy transformace s diskretním časem DTFT (teoretické, ne při numerickém výpočtu) na ose normovaných kruhových frekvencí. Pomůcka: Neptám se na DFT.

viz A

Příklad 13 Diskrétní signál $x[n]$ je reálný a má na normované kruhové frekvenci $\omega_1 = \frac{\pi}{8}$ rad hodnotu DTFT $\tilde{X}(e^{j\omega_1}) = 4 + 3j$. Určete hodnotu DTFT na normované kruhové frekvenci $\omega_2 = \frac{15\pi}{8}$ rad. Pokud to nejde, jasně to napište.

viz A

$$\tilde{X}(e^{j\frac{15\pi}{8}}) = 4 - 3j$$

Příklad 14 Je dán signál s diskretním časem o délce $N = 8$, vzorky $x[0] \dots x[7]$ jsou 0, 1, 0, 1, 0, 1, 0, 1. Vypočítejte první koeficient jeho Diskrétní Fourierovy transformace (DFT).

viz A a B

$$X[1] = \text{vše se vyruší} \dots = 0$$

Příklad 15 DFT diskretního signálu $x[n]$ o délce $N = 128$ vzorků je $X[k]$. DFT diskretního signálu $y[n]$ o stejné délce je dána: $Y[k] = X[k]e^{-j\frac{2\pi}{128}k \cdot 13}$. Popište matematicky nebo slovně, jaký je vztah mezi signály $x[n]$ a $y[n]$. Pomůcka: u DFT se vše děje v bufferu $0 \dots N - 1$, nikde jinde.

viz A

... 0 13 vzorků
... (n - 13)

Příklad 16 Číslicový filtr je dán diferenční rovnicí

$y[n] = x[n] + 0.2x[n-1] + 0.2x[n-2] + 0.1y[n-1] + 0.1y[n-2]$. Napište jeho přenosovou funkci.

viz A

$$H(z) = \frac{1 + 0.2z^{-1} + 0.2z^{-2}}{1 - 0.1z^{-1} - 0.1z^{-2}}$$

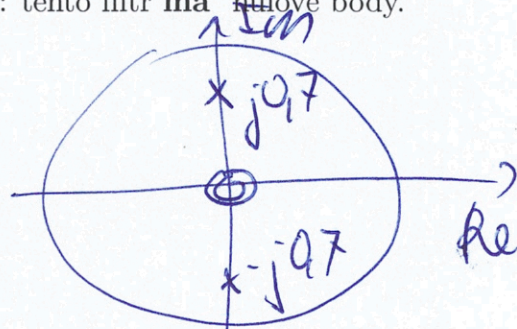
$$(z-0)(z-0) \rightarrow z^2$$

Příklad 17 Číslicový filtr IIR druhého řádu má přenosovou funkci $H(z) = \frac{1}{1+0.49z^{-2}} = \frac{z^2}{z^2+0.49}$. Určete jeho nulové body a póly, запиšte je a nakreslete do komplexní roviny "z". Pomůcka₁: řešení kvadratické rovnice $ax^2 + bx + c = 0$ jsou $x_{1,2} = \frac{-b \pm \sqrt{b^2 - 4ac}}{2a}$. Pomůcka₂: tento filtr má nulové body.

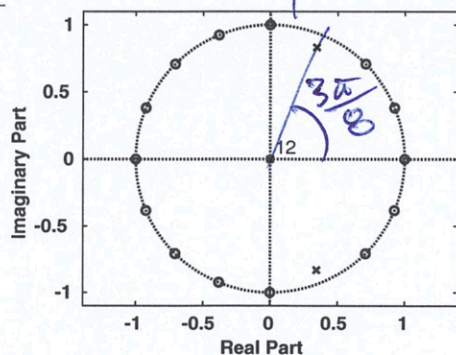
$$z^2 + 0.49 = 0$$

$$z_{1/2} = \frac{\pm \sqrt{-4 \cdot 0.49}}{2} = \pm \sqrt{0.49} = \pm j0.7$$

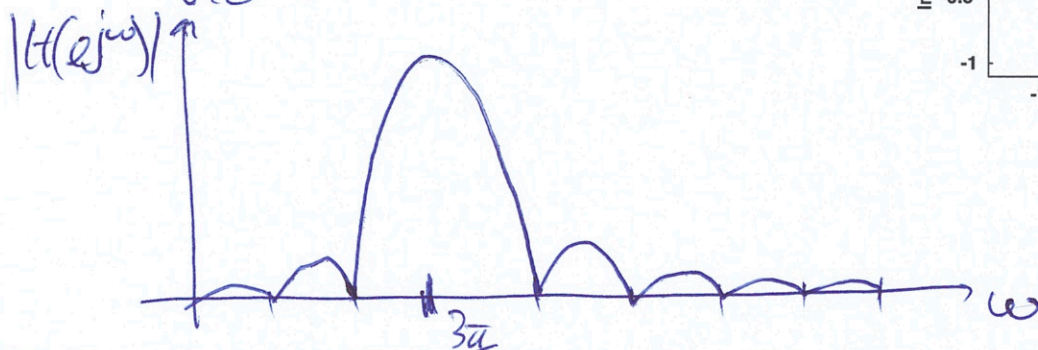
nul. body = dvojité v 0
póly: $j0.7, -j0.7$



Příklad 18 Na obrázku jsou nulové body a póly číslicového filtru (v počátku je 12 pólů). Nakreslete přibližně modul jeho frekvenční charakteristiky $H(e^{j\omega})$ pro interval normovaných kruhových frekvencí ω od 0 do π rad.



viz A



Příklad 19 Na $\Omega = 4000$ realizací náhodného procesu byla naměřena tabulka (sružený histogram) hodnot mezi vzorky n_1 a n_2 . Převeďte je na odhad sružené funkce hustoty rozdělení pravděpodobnosti $p(x_1, x_2, n_1, n_2)$.

intervaly	intervaly x_2			
x_1	[-20, -10]	[-10, 0]	[0, 10]	[10, 20]
[10, 20]	0	0	0	0
[0, 10]	0	1000	1000	0
[-10, 0]	0	1000	1000	0
[-20, -10]	0	0	0	0

viz A

Příklad 20 Korelační koeficienty stacionárního náhodného signálu jsou

$R[0] = 11, R[1] = 5, R[-1] = 5$. Ostatní jsou nulové. Určete, zda je tento signál bílý šum, své tvrzení zdůvodněte.

viz A

Semestrální zkouška ISS/VSG, řádný termín, 17.1.2022, skupina D

Login: Příjmení a jméno: Podpis:
(čitelně!)

Příklad 1 Periodický signál se spojitým časem je dán: $x(t) = 5 + 7 \cos(1000\pi t - \frac{\pi}{4})$.


Napište indexy a hodnoty všech nenulových koeficientů jeho Fourierovy řady (FŘ). Pomůcka: nenulové koeficienty FŘ jsou tři.

$$c_0 = 5$$

$$c_1 = 3,5 e^{-j \frac{\pi}{4}}$$

$$c_{-1} = 3,5 e^{+j \frac{\pi}{4}}$$

Příklad 2 Periodický signál se spojitým časem má základní kruhovou frekvenci $\omega_1 = 16000\pi$ rad/s a jediný nenulový koeficient FŘ: $c_1 = 5 + 5j$. Napište výraz pro odpovídající signál. Dobře zvažte, zda bude reálný nebo komplexní.



$$x(t) = \sqrt{50} e^{j \frac{\pi}{4}} e^{j 16000\pi t}$$

Příklad 3 Signál se spojitým časem je dán jako součet dvou Diracových impulsů:


$x(t) = \delta(t) + \delta(t + 1)$. Napište výraz pro jeho spektrální funkci.

viz A

$$X(j\omega) = 1 + e^{+j\omega}$$

Příklad 4 Spektrální funkce signálu se spojitým časem $x(t)$ má na kruhové frekvenci $\omega_1 = 8000\pi$ rad/s hodnotu $X(j\omega_1) = 3e^{j \frac{\pi}{4}}$. Signál $y(t)$ je zpožděná verze $x(t)$: $y(t) = x(t - \frac{1}{16000})$. Napište hodnotu spektrální funkce signálu $y(t)$ na stejné kruhové frekvenci.

viz A



$$Y(j\omega_1) = 3e^{j \frac{\pi}{4}} \cdot e^{-j \frac{\pi}{2}} = 3e^{-j \frac{\pi}{4}}$$

Příklad 5 Spektrální funkce signálu se spojitým časem má tvar obdélníka:


$$X(j\omega) = \begin{cases} 5 & \text{pro } -20\pi \text{ rad/s} \leq \omega \leq +20\pi \text{ rad/s} \\ 0 & \text{jinde} \end{cases}$$

viz A

Pomocí inverzní Fourierovy transformace spočítejte odpovídající signál $x(t)$: zapište jej výrazem a nakreslete. na osách označte důležité hodnoty.

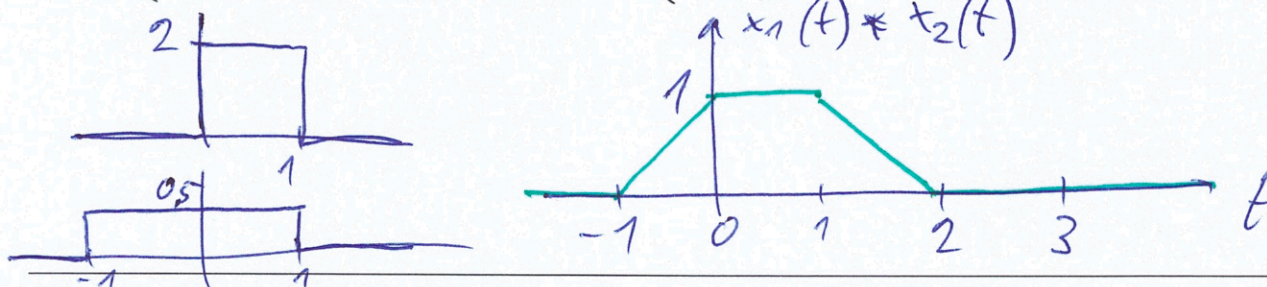
$$\frac{5 \cdot 20\pi}{\pi} \text{sinc}(20\pi t)$$

$$x(t) = 100 \text{sinc}(20\pi t)$$



Příklad 6 Nakreslete výsledek konvoluce dvou signálů se spojitým časem: $y(t) = x_1(t) * x_2(t)$.

$$x_1(t) = \begin{cases} 2 & \text{pro } 0 \leq t \leq 1 \\ 0 & \text{jinde} \end{cases} \quad \text{a} \quad x_2(t) = \begin{cases} 0.5 & \text{pro } -1 \leq t \leq 1 \\ 0 & \text{jinde} \end{cases}$$



Příklad 7 Systém se spojitým časem je zadán diferenciální rovnicí:

$$\frac{d^2x(t)}{dt^2} + 0.5\frac{dx(t)}{dt} + 0.4x(t) = \frac{d^2y(t)}{dt^2} + 2\frac{dy(t)}{dt} + 1y(t). \quad \text{Určete přenosovou funkci systému.}$$

viz A

$$H(s) = \frac{s^2 + 0,5s + 0,4}{s^2 + 2s + 1}$$

Příklad 8 Systém se spojitým časem omezuje ("klipuje") vstupní signál:

$$y(t) = \begin{cases} x(t) & \text{pro } -1 \leq x(t) \leq 1 \\ -1 & \text{pro } x(t) < -1 \\ 1 & \text{pro } x(t) > 1 \end{cases}$$

Určete, zda je systém lineární. Vaše tvrzení zdůvodněte.

viz A

Příklad 9 Máte písničku nahranou se vzorkovací frekvencí $F_s = 48$ kHz. Senior se starým mobilem ji chce jako vyzvánění, mobil ale podporuje jen $F_s = 8$ kHz. Blokovým schématem nebo slovně uveďte, jak budete postupovat. Očekávám seriózní odpověď, ne "použiju Audacity...".

viz A nebo B

Příklad 10 Spektrální funkce signálu se spojitým časem $x(t)$ má na kruhové frekvenci

$\omega_1 = 8000\pi$ rad/s hodnotu $X(j\omega_1) = \frac{1}{32000}e^{-j\frac{3\pi}{4}}$. Signál je vzorkován na $F_s = 32$ kHz. Nedošlo k aliasingu. Uveďte, zda je možné určit spektrální funkci navzorkovaného signálu $X_s(j\omega)$ na kruhové frekvenci $\omega_1 = 72000\pi$ rad/s. Pokud ano, napište její hodnotu.

viz A

$$X_s(j72000\pi) = e^{-j\frac{3\pi}{4}}$$

Příklad 11 Diskrétní signál $x[n]$ má délku $N = 8$ vzorků, jeho hodnoty jsou v tabulce. Napište hodnoty signálu získaného pomocí $y[n] = R_8[n]x[\text{mod}_8(n-1)]$, kde $R_8[n]$ je okénková funkce a mod_8 je funkce modulo. **Pojmenujte** operaci, kterou jste provedli.

n	0	1	2	3	4	5	6	7
$x[n]$	1	-3	2	5	9	-5	-7	1
$y[n]$	1	1	-3	2	5	9	-5	-7

kruhové zpoždění
 nebo
 kruhové posunutí

Příklad 12 Napište, jaké je rozlišení Fourierovy transformace s diskretním časem DTFT (teoretické, ne při numerickém výpočtu) na ose normovaných kruhových frekvencí. Pomůcka: Neptám se na DFT.

viz A

Příklad 13 Diskrétní signál $x[n]$ je reálný a má na normované kruhové frekvenci $\omega_1 = \frac{\pi}{8}$ rad hodnotu DTFT $\tilde{X}(e^{j\omega_1}) = 4 - 5j$. Určete hodnotu DTFT na normované kruhové frekvenci $\omega_2 = \frac{15\pi}{8}$ rad. Pokud to nejde, jasně to napište.

viz A

$$\tilde{X}(e^{j\frac{15\pi}{8}}) = 4 + 5j$$

Příklad 14 Je dán signál s diskretním časem o délce $N = 8$, vzorky $x[0] \dots x[7]$ jsou 1, 0, 1, 0, 1, 0, 1, 0. Vypočítejte první koeficient jeho Diskrétní Fourierovy transformace (DFT).

viz A a B

$$X[1] = \text{vše se vyruší} = \underline{\underline{0}}$$

Příklad 15 DFT diskretního signálu $x[n]$ o délce $N = 128$ vzorků je $X[k]$. DFT diskretního signálu $y[n]$ o stejné délce je dána: $Y[k] = X[k]e^{-j\frac{2\pi}{128}k \cdot 18}$. Popište matematicky nebo slovně, jaký je vztah mezi signály $x[n]$ a $y[n]$. Pomůcka: u DFT se vše děje v bufferu $0 \dots N - 1$, nikde jinde.

viz A

... 0 18 vzorků
 ... (n - 18)

Příklad 16 Číslicový filtr je dán diferenční rovnicí

$y[n] = x[n] + 0.1x[n-1] + 0.2x[n-2] + 0.1y[n-1] - 0.1y[n-2]$. Napište jeho přenosovou funkci.

viz A

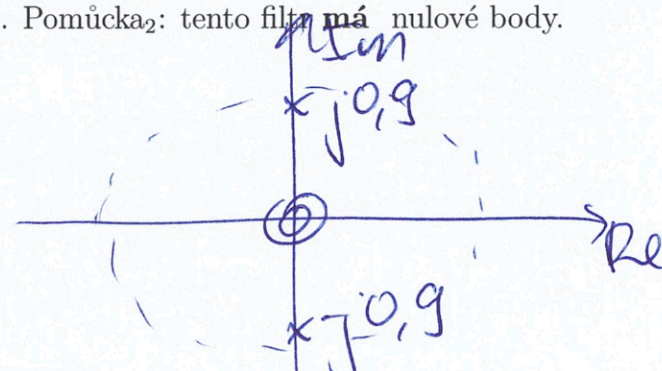
$$H(z) = \frac{1 + 0.1z^{-1} + 0.2z^{-2}}{1 - 0.1z^{-1} + 0.1z^{-2}}$$

Příklad 17 Číslicový filtr IIR druhého řádu má přenosovou funkci $H(z) = \frac{1}{1+0.81z^{-2}}$.

Určete jeho nulové body a póly, zapište je a nakreslete do komplexní roviny "z". Pomůcka₁: řešení kvadratické rovnice $ax^2 + bx + c = 0$ jsou $x_{1,2} = \frac{-b \pm \sqrt{b^2 - 4ac}}{2a}$. Pomůcka₂: tento filtr má nulové body.

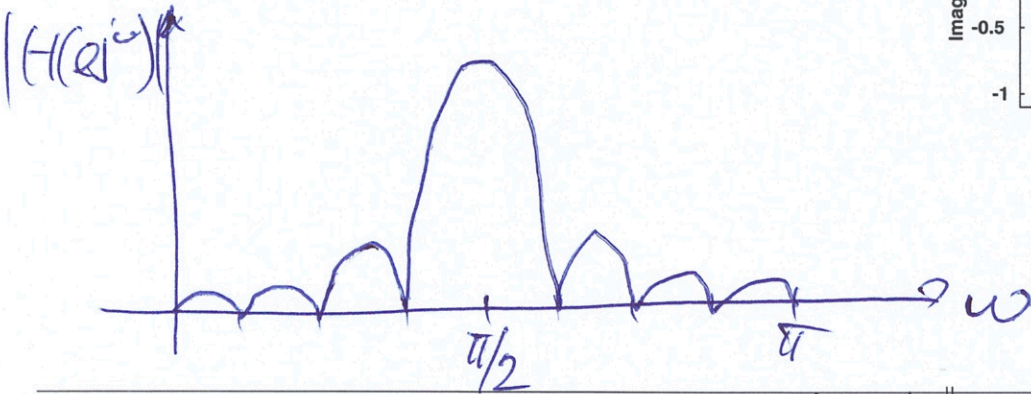
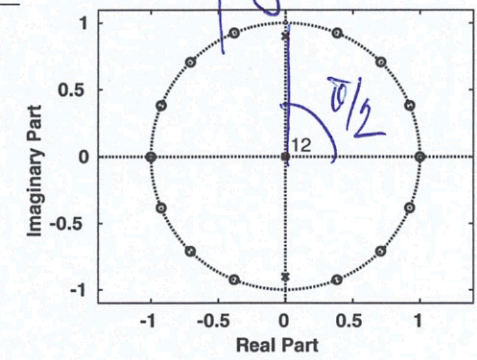
viz C

nul. body: dvojitý v 0
póly: $j0.9, -j0.9$



Příklad 18 Na obrázku jsou nulové body a póly číslicového filtru (v počátku je 12 pólů). Nakreslete přibližně modul jeho frekvenční charakteristiky $H(e^{j\omega})$ pro interval normovaných kruhových frekvencí ω od 0 do π rad.

viz A



Příklad 19 Na $\Omega = 4000$ realizacích náhodného procesu byla naměřena tabulka (sdružený histogram) hodnot mezi vzorky n_1 a n_2 . Převedte je na odhad sdružené funkce hustoty rozdělení pravděpodobnosti $p(x_1, x_2, n_1, n_2)$.

intervaly x_1	intervaly x_2			
	[-20, -10]	[-10, 0]	[0, 10]	[10, 20]
[10, 20]	0	0	0	0
[0, 10]	0	1000	1000	0
[-10, 0]	0	1000	1000	0
[-20, -10]	0	0	0	0

viz A

Příklad 20 Korelační koeficienty stacionárního náhodného signálu jsou

$R[0] = 10, R[1] = 6, R[-1] = 6$. Ostatní jsou nulové. Určete, zda je tento signál bílý šum, své tvrzení zdůvodněte.

viz A