

# Semestrální zkouška ISS/VSG, 1. opravný termín, 26.1.2022, skupina D

Login: ..... Příjmení a jméno: ..... Podpis: .....  
(čitelně!)

**Příklad 1** Periodický signál se spojitým časem má periodu  $T_1 = 1$  ms. Jedna jeho perioda je dána jako:

$$x(t) = \begin{cases} 50 & \text{pro } -\frac{T_1}{4} < t \leq \frac{T_1}{4} \\ 0 & \text{pro } -\frac{T_1}{2} < t \leq -\frac{T_1}{4} \text{ a pro } \frac{T_1}{4} < t \leq \frac{T_1}{2} \end{cases}$$

Určete koeficienty jeho Fourierovy řady (FŘ) od  $c_{-2}$  do  $c_2$ . Pomůcka:  $\text{sinc}(\frac{\pi}{2}) = 0.64$ .

---

$$c_{-2} = \qquad c_{-1} = \qquad c_0 = \qquad c_1 = \qquad c_2 =$$

---

**Příklad 2** Argumenty koeficientů FŘ pro periodický signál se spojitým časem  $x(t)$  se základní kruhovou frekvencí  $\omega_1 = 0.1\pi$  rad/s jsou pro  $k = 0, 1, 2, 3$  tyto:  $\arg c_{x0} = 0$ ,  $\arg c_{x1} = 0$ ,  $\arg c_{x2} = 0$ ,  $\arg c_{x3} = \pi$ . Signál byl v čase posunut:  $y(t) = x(t+2)$ . Napište hodnoty argumentů koeficientů FŘ posunutého signálu. Ve výsledcích můžete ponechat  $\pi$ .

---

$$\arg c_{y0} = \qquad \arg c_{y1} = \qquad \arg c_{y2} = \qquad \arg c_{y3} =$$

---

**Příklad 3** Signál se spojitým časem je dán:  $x(t) = 3\delta(t-1)$ , kde  $\delta(t)$  je Diracův impuls. Nakreslete průběh modulu a argumentu jeho spektrální funkce pro kruhové frekvence  $\omega$  od  $-3\pi$  rad/s do  $3\pi$  rad/s.

---

**Příklad 4** Jsou dány signály se spojitým časem  $x_1(t)$  a  $x_2(t)$  s následujícími spektrálními funkcemi:

$$X_1(j\omega) = \begin{cases} 5 & \text{pro } -\frac{\pi}{4} < \omega < \frac{\pi}{4} \\ 0 & \text{jinde} \end{cases} \qquad X_2(j\omega) = \begin{cases} 4 & \text{pro } -\frac{\pi}{8} < \omega < \frac{\pi}{8} \\ 0 & \text{jinde} \end{cases}$$

Určete a nakreslete spektrální funkci  $Y(j\omega)$  jejich konvoluce  $y(t) = x_1(t) \star x_2(t)$ .

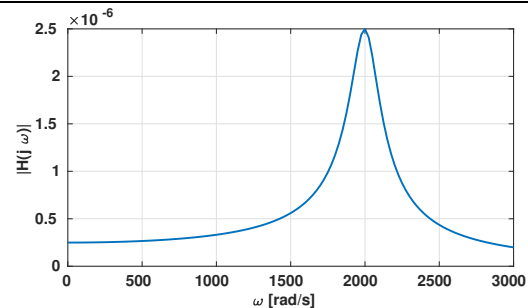
---

**Příklad 5** Jsou dány dva signály se spojitým časem, obdélník a posunutý Diracův impuls:

$$x_1(t) = \begin{cases} 1 & \text{pro } -1 < t < 1 \\ 0 & \text{jinde} \end{cases} \qquad x_2(t) = \delta(t+2). \text{ Nakreslete jejich konvoluci } y(t) = x_1(t) \star x_2(t).$$

**Příklad 6** Je zadána přenosová funkce systému se spojitým časem:  $H(s) = \frac{s + 1}{s^2 + 2s + 1}$ .  
Popište tento systém diferenciální rovnicí.

**Příklad 7** Na obrázku je průběh modulu frekvenční charakteristiky  $H(j\omega)$  systému se spojitým časem. Víte, že systém má jeden nulový bod  $n_1 = 0$  a dva komplexně sdružené póly  $p_{1,2}$ . Napište tyto póly ve složkovém tvaru, jejich reálná složka může být přibližně, imaginární složka co nejpřesněji. Zakreslete je do komplexní roviny “s”.



$p_1 =$  \_\_\_\_\_  $p_2 =$  \_\_\_\_\_

**Příklad 8** Systém se spojitým časem je filtr typu dolní propustě, modul jeho přenosové funkce je dán:

$$|H(j\omega)| = \begin{cases} 100 & \text{pro } -16000\pi < \omega < 16000\pi \\ 0 & \text{jinde} \end{cases} \quad \text{a argument: } \arg H(j\omega) = -\frac{\omega}{10000}.$$

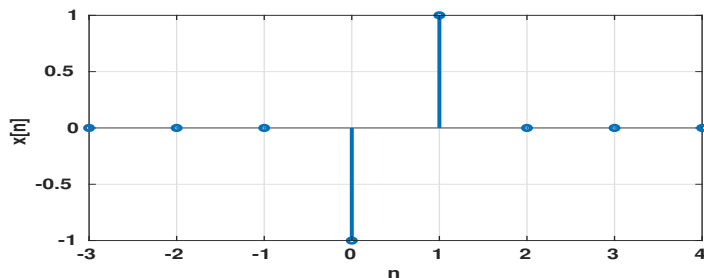
Na vstupu je komplexní exponenciála  $x(t) = 17e^{j20000\pi t}$ . Napište výraz pro výstupní signál.

$y(t) =$  \_\_\_\_\_

**Příklad 9** Jaká bude mezní frekvence  $f_{max}$  (cut-off frequency) dolní propusti, která má fungovat jako anti-aliasingový filtr pro vzorkování na vzorkovací frekvenci  $F_s = 8000$  Hz? Frekvenci napište v Hertziích.

$f_{max} =$  \_\_\_\_\_ Hz

**Příklad 10** Diskrétní signál  $x[n]$  vzorkovaný na  $F_s = 8000$  Hz má pouze dva nenulové vzorky - viz obrázek. Napište výraz pro signál se spojitým časem  $x_r(t)$ , který vznikne ideální rekonstrukcí  $x[n]$ .



$x_r(t) =$  \_\_\_\_\_

**Příklad 11** V tabulce jsou dány dva diskretní signály o délce  $N = 4$ . Vypočtěte a zapište jejich lineární konvoluci  $y[n] = x_1[n] \star x_2[n]$ .

$n$	0	1	2	3
$x_1[n]$	1	-3	2	5
$x_2[n]$	2	0	1	-1

---

**Příklad 12** Pro signály  $x_1[n]$  a  $x_2[n]$  z předcházejícího příkladu vypočtěte a zapište jejich kruhovou konvoluci  $y[n] = x_1[n] \circledast x_2[n]$ .

---

**Příklad 13** Diskretní signál  $x[n]$  je reálný, hodnotu jeho Fourierovy transformace s diskretním časem (DTFT) známe pouze na normované kruhové frekvenci  $\omega_1 = \frac{\pi}{8}$  rad:  $\tilde{X}(e^{j\omega_1}) = 4 + 4j$ . Určete hodnotu DTFT na normované kruhové frekvenci  $\omega_2 = \frac{5\pi}{8}$  rad. Pokud to nejde, jasně to napište.

$$\tilde{X}(e^{j\omega_2}) =$$

---

**Příklad 14** Je dán signál s diskretním časem o délce  $N = 8$ , vzorky  $x[0] \dots x[7]$  jsou 1, 0, 1, 0, 1, 0, 1, 0.

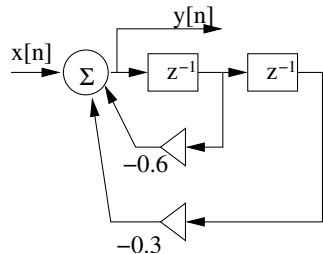
Vypočtěte druhý koeficient jeho Diskretní Fourierovy transformace (DFT).

$$X[2] =$$

---

**Příklad 15** DFT diskretního signálu  $x[n]$  o délce  $N = 8$  se vzorky  $x[0] \dots x[7]$ : 1, 0, 5, 0, -1, 0, 1, 0 je  $X[k]$ . DFT diskretního signálu  $y[n]$  o stejné délce je dána:  $Y[k] = X[k]e^{+j\frac{2\pi}{8}k^3}$ . Napište signál  $y[n]$ .

**Příklad 16** Podle schématu číslicového filtru napište jeho přenosovou funkci.



$$H(z) =$$

**Příklad 17** Číslicový filtr IIR má přenosovou funkci  $H(z) = \frac{1}{1 + 0.81z^{-2}}$ .

Určete, zda je tento filtr stabilní, je nutné krátké zdůvodnění, ne pouze odpověď ano/ne.

**Příklad 18** Číslicový filtr typu pásmová zadrž má 4 nulové body:  $n_1 = e^{j0.5\pi}$ ,  $n_2 = e^{-j0.5\pi}$ ,  $n_3 = n_4 = 0$ , a 4 póly:  $p_1 = 0.7e^{j0.25\pi}$ ,  $p_2 = 0.7e^{j0.75\pi}$ ,  $p_3 = p_1^*$ ,  $p_4 = p_2^*$  (hvězdička značí komplexní sdružení). Určete, na jaké normované kruhové frekvenci  $\omega_{min}$  bude ležet minimum modulu jeho frekvenční charakteristiky a jaká zde bude její hodnota.

$$\omega_{min} = \quad \text{rad}, \quad H(e^{j\omega_{min}}) =$$

**Příklad 19** Funkce hustoty rozdělení pravděpodobnosti stacionárního náhodného signálu má tvar “kočičích uší”:

$$p(x) = \begin{cases} -x & \text{pro } -1 < x \leq 0 \\ x & \text{pro } 0 < x \leq 1 \\ 0 & \text{jinde} \end{cases} \quad \text{Určete rozptyl (varianci) tohoto signálu.}$$

$$D =$$

**Příklad 20** Na obrázku je průběh náhodného signálu  $x[n]$  o délce  $N = 100$  vzorků (nenulových vzorků je 10). Nakreslete vychýlený odhad jeho autokorelačních koeficientů  $R[k]$  pro  $k$  od -50 do +50.

