

Login: ..... Příjmení a jméno: ..... Podpis: .....  
(čitelně!)

**Příklad 1** Krasobruslař se při skoku otočí dvakrát za sekundu. Určete jeho úhlovou rychlost.

$$1 \text{ otáčka} \approx \text{úhel } 2\pi$$

$$\omega = 4\pi \text{ rad/s}$$

**Příklad 2** Periodický signál je komplexní exponenciála:  $x(t) = 44e^{j2000\pi t + \frac{\pi}{6}}$ .  
Určete všechny nenulové koeficienty  $c_k$  jeho Fourierovy řady.

$$c_1 = 44 \cdot e^{j\frac{\pi}{6}}$$

**Příklad 3** Signál se spojitým časem je stejnosměrný:  $x(t) = 6$ .  
Napište jeho spektrální funkci.

$$X(j\omega) = 2\pi A \delta(\omega)$$

$$X(j\omega) = 12\pi \delta(\omega)$$

**Příklad 4** Hodnota Fourierovy transformace (spektrální funkce) signálu  $x(t)$  na frekvenci  $\omega = 100\pi$  rad/s je  $X(j100\pi) = 1 + j$ . Určete hodnotu Fourierovy transformace (spektrální funkce)  $Y(j\omega)$  zpožděného signálu  $y(t) = x(t) - 0.01s$  také na frekvenci  $\omega = 100\pi$  rad/s.

$$\begin{aligned} Y(j\omega) &= X(j\omega) e^{-j\omega\tau} = (1+j) e^{-j0,01 \cdot 100\pi} = \\ &= (1+j) \cdot \underbrace{e^{-j\pi}}_{-1} \end{aligned}$$

$$Y(j100\pi) = -1 - j$$

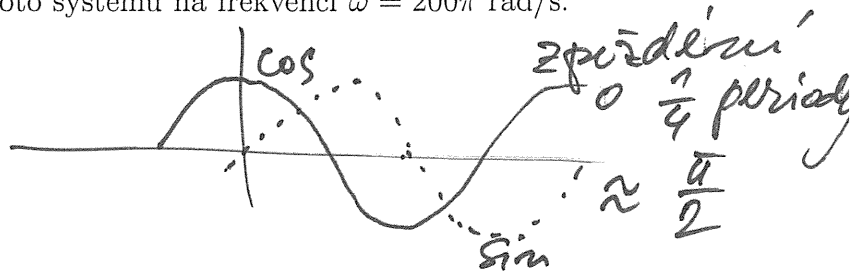
**Příklad 5** Přenosová funkce systému se spojitým časem je:  $H(s) = \frac{1}{s+1}$ .  
Určete hodnotu frekvenční charakteristiky tohoto systému na frekvenci  $\omega = \infty$  rad/s.

$$H(j\omega) = H(s) \Big|_{s \rightarrow j\omega} = \frac{1}{j\omega + 1} = \frac{1}{j\infty + 1}$$

$$H(j\infty) = 0$$

**Příklad 6** Na vstupu systému se spojitým časem je signál  $x(t) = 40 \cos(200\pi t)$ . Na výstupu je signál  $y(t) = \sin(200\pi t)$ .

Určete hodnotu frekvenční charakteristiky tohoto systému na frekvenci  $\omega = 200\pi$  rad/s.



$$H(j200\pi) = \frac{1}{40} e^{-j\frac{\pi}{2}}$$

**Příklad 7** Na vstupu vzorkovače je periodický signál: sled obdélníkových impulsů o šířce  $\vartheta = 1 \mu\text{s}$ , výšce  $D = 50$  a periodě  $T_1 = 3 \mu\text{s}$ . Určete, zda lze zkonstruovat anti-aliasingový filtr tak, abychom po vzorkování a rekonstrukci na vzorkovací frekvenci  $F_s = 44100$  Hz dostali na výstupu přesně stejný signál. Pokud ano, napište, jak by měla vypadat jeho frekvenční charakteristika.

*nejí vhodné množství reálných koeficientů FR → velmi malá mezera frekvencí → nejde.*

LZE/NELZE: .....  $H_{aa}(j\omega) = \dots$  *nelze*

**Příklad 8** Diskrétní signál má  $N = 8$  vzorků:

n	0	1	2	3	4	5	6	7
$x[n]$	4	3	8	5	1	2	11	67

Určete 3. vzorek signálu kruhově zpožděného o 5 vzorků:  $y[n] = R_8[n]x[\text{mod}_8(n-5)]$

*11*  
 $y[3] = \dots$

**Příklad 9** Diskrétní signál má jediný vzorek nenulový:  $x[n] = \begin{cases} 40 & \text{pro } n = 1 \\ 0 & \text{jinde} \end{cases}$

Napište modul a argument jeho Fourierovy transformace s diskretním časem.

$$\tilde{X}(e^{j\omega}) = \sum_{n=-\infty}^{\infty} x[n] e^{-j\omega n} = 40 \cdot e^{-j\omega \cdot 1}$$

$|\tilde{X}(e^{j\omega})| = 40$ ,  $\arg \tilde{X}(e^{j\omega}) = -\omega$

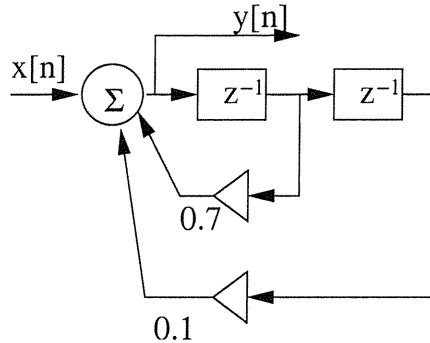
**Příklad 10** Vypočtěte kruhovou konvoluci dvou signálů s diskretním časem o délce  $N = 4$ :

n	0	1	2	3
$x_1[n]$	1	-1	-1	2
$x_2[n]$	1	2	1	2
$x_1[n] \otimes x_2[n]$	2	1	2	1

**Příklad 11** Vstup a impulsní odezva číslicového filtru FIR jsou v následující tabulce. Doplňte řádek pro jeho výstup (všechny hodnoty).

n	-1	0	1	2	3	4	5	6
$x[n]$	0	1	2	1	0	0	0	0
$h[n]$	0	-1	-1	2	0	0	0	0
$y[n]$	0	-1	-3	-1	3	2	0	0

**Příklad 12** Na obrázku je blokové schéma číslicového filtru IIR druhého řádu:



Určete jeho přenosovou funkci.

$$H(z) = \frac{1}{1 - 0,7z^{-1} - 0,1z^{-2}}$$

**Příklad 13** Určete hodnotu frekvenční charakteristiky filtru z předcházejícího příkladu na normované kruhové frekvenci  $\omega = 0$  rad.

$$H(e^{j\omega}) = H(z) \Big|_{z \rightarrow e^{j\omega}} = \frac{1}{1 - 0,7e^{-j\omega} - 0,1e^{-2j\omega}}$$

$$H(e^{j0}) = \frac{5}{1 - 0,7e^0 - 0,1e^0} = \frac{1}{0,2}$$

**Příklad 14** Filtry se impulsními odezvami  $h_1[n]$  a  $h_2[n]$  v tabulce jsou zapojeny paralelně. Určete reakci tohoto celého systému  $y[n]$  na jednotkový impuls  $x[n] = \delta[n]$ :

n	-1	0	1	2	3	4	5	6
$h_1[n]$	0	1	2	1	0	0	0	0
$h_2[n]$	0	2	1	2	0	0	0	0
$y[n]$	0	3	3	3	0	0	0	0

↓  
součet imp. odezev  
takže hledáme impulsní odezvu!

**Příklad 15** Distribuční funkce náhodného signálu pro čas  $t$  je dána jako:  $F(x, t) = \begin{cases} 0 & \text{pro } x < -1 \\ \frac{x+1}{2} & \text{pro } x \in [-1, 1] \\ 1 & \text{pro } x > 1 \end{cases}$

Určete pravděpodobnost, že hodnota náhodného signálu v čase  $t$  bude větší než:  $a = 0.6$

$$P\{\xi(t) < a\} = \frac{0,6+1}{2} = 0,8$$

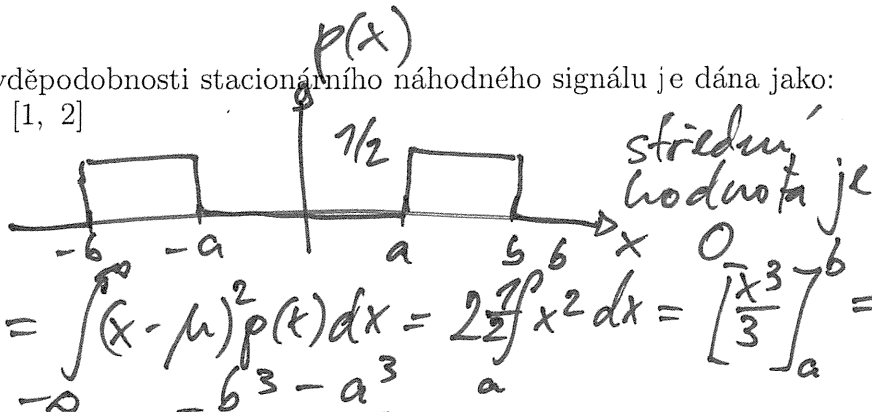
$$P\{\xi(t) > a\} = 0,2$$

$$P\{\xi(t) > a\} = 1 - 0,8 = 0,2$$

**Příklad 16** Funkce hustoty rozdělení pravděpodobnosti stacionárního náhodného signálu je dána jako:

$$p(x) = \begin{cases} \frac{1}{2} & \text{pro } x \in [-2, -1] \text{ a pro } x \in [1, 2] \\ 0 & \text{jinde} \end{cases}$$

Určete rozptyl tohoto náhodného signálu.



$$D = \frac{2^3 - (-2)^3}{3} = \frac{16}{3}$$

**Příklad 17** Náhodný signál má  $N = 5$  nenulových vzorků, pro  $n = [0 \ 1 \ 2 \ 3 \ 4]$ :  $x[n] = [4 \ 3 \ 5 \ 2 \ 2]$ . Jaký je nevychýlený odhad jeho autokorelačního koeficientu pro  $k = 4$ ?

$$\frac{8}{5-4} = 8$$

$$R[k] = 8$$

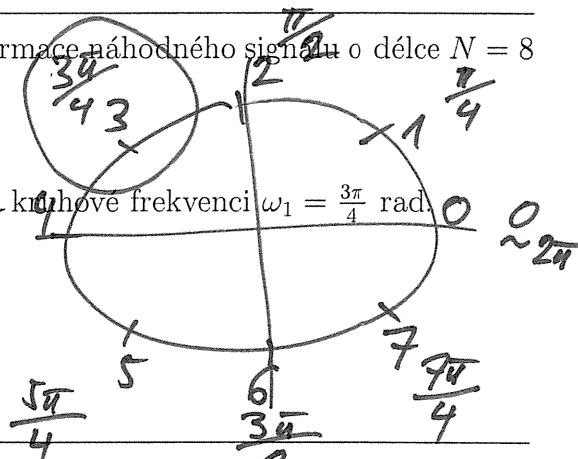
**Příklad 18** Tabulka udává 8 hodnot diskrétní Fourierovy transformace náhodného signálu o délce  $N = 8$  vzorků.

$k$	0	1	2	3	4	5	6	7
$X[k]$	4	$-1-2j$	$-2-3j$	$2j$	1	$-2j$	$-2-3j$	$-1+2j$

Odhadněte hodnotu jeho spektrální hustoty výkonu, nornované kruhové frekvenci  $\omega_1 = \frac{3\pi}{4}$  rad.

$$\hat{G}(e^{j\omega_1}) = \frac{|X[k]|^2}{N} = \frac{|2j|^2}{8} = \frac{4}{8} = \frac{1}{2}$$

$$\hat{G}(e^{j\omega_1}) = \frac{1}{2}$$



**Příklad 19** Cosinusovka s amplitudou  $A = 1024$  plně využívá dynamického rozsahu kvantizéru od  $-1024$  do  $1024$ . Poměr signálu k šumu  $SNR = 49.76$  dB. Jaký je kvantovací krok?

$$\frac{48 \text{ dB}}{6} = 8 \text{ bitů, takže } 256 \text{ hladin}$$

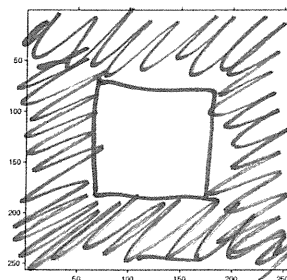
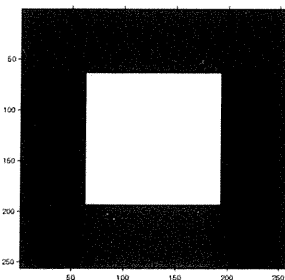
$$\Delta = 2 \cdot 1024 / 256 = 8$$

$$\Delta = 8$$

**Příklad 20** Určete, jaký bude výsledek operace  $y[k, l] = |x[k, l] * h[k, l]|$ . Vstup  $x[k, l]$  je na obrázku vlevo. Výsledek nakreslete do obrázku vpravo. Bílá barva značí hodnoty 0, černá barva hodnoty 255. Konvoluční jádro (nebo také 2D filtr, nebo maska) má hodnoty:

$$h[k, l] = \begin{bmatrix} 0 & 0 & 0 \\ 0 & 1 & 0 \\ 0 & 0 & 0 \end{bmatrix}$$

→ kopíruje, žádné změny!



Semestrální zkouška ISS, 2. opravný termín, 31.1.2011, skupina B

Login: ..... Příjmení a jméno: ..... Podpis: *viž také A.*  
 (čitelně!)

**Příklad 1** Krasobruslař se při skoku otočí dvakrát za sekundu. Určete jeho úhlovou rychlost.

$$\omega = 4\pi \text{ rad/s}$$

**Příklad 2** Periodický signál je komplexní exponenciála:  $x(t) = 41e^{j2000\pi t - \frac{\pi}{6}}$ .  
 Určete všechny nenulové koeficienty  $c_k$  jeho Fourierovy řady.

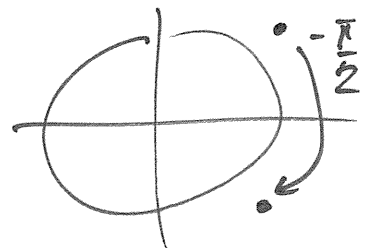
$$c_1 = 41 e^{-j \frac{\pi}{6}}$$

**Příklad 3** Signál se spojitým časem je stejnosměrný:  $x(t) = 3$ .  
 Napište jeho spektrální funkci.

$$X(j\omega) = 6\pi \delta(\omega)$$

**Příklad 4** Hodnota Fourierovy transformace (spektrální funkce) signálu  $x(t)$  na frekvenci  $\omega = 100\pi$  rad/s je  $X(j100\pi) = 1 + j$ . Určete hodnotu Fourierovy transformace (spektrální funkce)  $Y(j\omega)$  zpožděného signálu  $y(t) = x(t) - 0.005s$  také na frekvenci  $\omega = 100\pi$  rad/s.

$$(1+j)e^{-j0,005 \cdot 100\pi} = (1+j)e^{-j \frac{\pi}{2}}$$



$$Y(j100\pi) = 1 - j$$

**Příklad 5** Přenosová funkce systému se spojitým časem je:  $H(s) = \frac{1}{s+1}$ .  
 Určete hodnotu frekvenční charakteristiky tohoto systému na frekvenci  $\omega = \infty$  rad/s.

$$H(j\infty) = 0$$

**Příklad 6** Na vstupu systému se spojitým časem je signál  $x(t) = 80 \cos(200\pi t)$ . Na výstupu je signál  $y(t) = \sin(200\pi t)$ .

Určete hodnotu frekvenční charakteristiky tohoto systému na frekvenci  $\omega = 200\pi$  rad/s.

$$H(j200\pi) = \dots \frac{1}{80} e^{-j\frac{\pi}{2}} \dots$$

**Příklad 7** Na vstupu vzorkovače je periodický signál: sled obdélníkových impulsů o šířce  $\vartheta = 1 \mu\text{s}$ , výšce  $D = 50$  a periodě  $T_1 = 3 \mu\text{s}$ . Určete, zda lze zkonstruovat anti-aliasingový filtr tak, abychom po vzorkování a rekonstrukci na vzorkovací frekvenci  $F_s = 44100$  Hz dostali na výstupu přesně stejný signál. Pokud ano, napište, jak by měla vypadat jeho frekvenční charakteristika.

~~LZE~~ / NELZE: .....  $H_{aa}(j\omega) = \dots$

**Příklad 8** Diskrétní signál má  $N = 8$  vzorků:

n	0	1	2	3	4	5	6	7
$x[n]$	4	3	8	5	1	2	11	67

8 5 1 2 11 2 4 3

Určete 3. vzorek signálu kruhově zpožděného o 6 vzorků:  $y[n] = R_8[n]x[\text{mod}_8(n - 6)]$

$$y[3] = \dots 2 \dots$$

**Příklad 9** Diskrétní signál má jediný vzorek nenulový:  $x[n] = \begin{cases} 50 & \text{pro } n = 1 \\ 0 & \text{jinde} \end{cases}$

Napište modul a argument jeho Fourierovy transformace s diskretním časem.

$$50 e^{-j\omega}$$

$$|\tilde{X}(e^{j\omega})| = \dots 50 \dots, \quad \arg \tilde{X}(e^{j\omega}) = \dots -\omega \dots$$

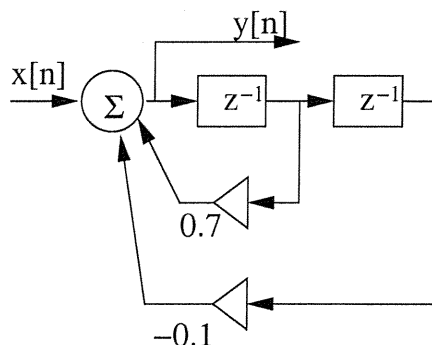
**Příklad 10** Vypočtěte kruhovou konvoluci dvou signálů s diskretním časem o délce  $N = 4$ :

n	0	1	2	3
$x_1[n]$	1	-1	-1	2
$x_2[n]$	2	1	2	1
$x_1[n] \otimes x_2[n]$	1	2	1	2

**Příklad 11** Vstup a impulsní odezva číslicového filtru FIR jsou v následující tabulce. Doplňte řádek pro jeho výstup (všechny hodnoty).

n	-1	0	1	2	3	4	5	6
$x[n]$	0	2	1	2	0	0	0	0
$h[n]$	0	-1	-1	2	0	0	0	0
$y[n]$	0	-2	-3	1	0	4	0	0

**Příklad 12** Na obrázku je blokové schéma číslicového filtru IIR druhého řádu:



Určete jeho přenosovou funkci.

$$H(z) = \frac{1}{1 - 0,7z^{-1} + 0,1z^{-2}}$$

**Příklad 13** Určete hodnotu frekvenční charakteristiky filtru z předcházejícího příkladu na normované kruhové frekvenci  $\omega = 0$  rad.

$$H(e^{j0}) = \frac{1}{1 - 0,7 + 0,1} = \frac{1}{0,4} = 2,5$$

**Příklad 14** Filtry se impulsními odezvami  $h_1[n]$  a  $h_2[n]$  v tabulce jsou zapojeny **paralelně**. Určete reakci tohoto celého systému  $y[n]$  na jednotkový impuls  $x[n] = \delta[n]$ :

n	-1	0	1	2	3	4	5	6
$h_1[n]$	0	1	2	1	0	0	0	0
$h_2[n]$	0	-1	-2	-1	0	0	0	0
$y[n]$	0	0	0	0	0	0	0	0

**Příklad 15** Distribuční funkce náhodného signálu pro čas  $t$  je dána jako:  $F(x, t) = \begin{cases} 0 & \text{pro } x < -1 \\ \frac{x+1}{2} & \text{pro } x \in [-1, 1] \\ 1 & \text{pro } x > 1 \end{cases}$

Určete pravděpodobnost, že hodnota náhodného signálu v čase  $t$  bude větší než:  $a = \underline{1,3}$

*nikdy!*

$$\mathcal{P}\{\xi(t) > a\} = 1 - 1 = 0$$

**Příklad 16** Funkce hustoty rozdělení pravděpodobnosti stacionárního náhodného signálu je dána jako:

$$p(x) = \begin{cases} \frac{1}{2} & \text{pro } x \in [-3, -2] \text{ a pro } x \in [2, 3] \\ 0 & \text{jinde} \end{cases}$$

Určete rozptyl tohoto náhodného signálu.

$$D = \frac{3^3 - 2^3}{3} = \frac{27 - 8}{3} = \frac{19}{3} \quad \text{nebo } 6,33$$

**Příklad 17** Náhodný signál má  $N = 5$  nenulových vzorků, pro  $n = [0 \ 1 \ 2 \ 3 \ 4]$ :  $x[n] = [4 \ 3 \ 5 \ 2 \ 2]$ .

Jaký je nevychýlený odhad jeho autokorelačního koeficientu pro  $k = 3$  ?

4 3 ...

$$\frac{2 \cdot 4 + 2 \cdot 3}{5 - 3} = 7$$

$$R[k] = 7$$

**Příklad 18** Tabulka udává 8 hodnot diskrétní Fourierovy transformace náhodného signálu o délce  $N = 8$  vzorků.

$k$	0	1	2	3	4	5	6	7
$X[k]$	4	-1-2j	-2-3j	2j	1	-2j	-2-3j	-1+2j

Odhadněte hodnotu jeho spektrální hustoty výkonu na normované kruhové frekvenci  $\omega_1 = \frac{\pi}{4}$  rad.

$$\frac{|-1-2j|^2}{8} = \frac{5}{8}$$

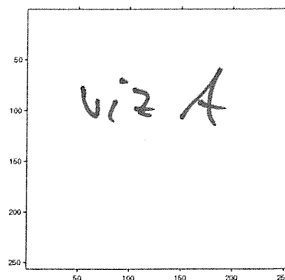
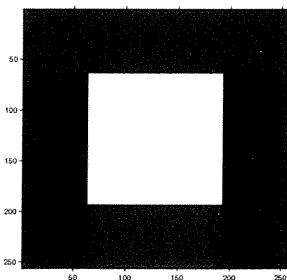
$$\hat{G}(e^{j\omega_1}) = \frac{5}{8}$$

**Příklad 19** Cosinusovka s amplitudou  $A = 1024$  plně využívá dynamického rozsahu kvantizéru od -1024 do 1024. Poměr signálu k šumu  $SNR = 49.76$  dB. Jaký je kvantovací krok ?

$$\Delta = 8$$

**Příklad 20** Určete, jaký bude výsledek operace  $y[k, l] = |x[k, l] \star h[k, l]|$ . Vstup  $x[k, l]$  je na obrázku vlevo. Výsledek nakreslete do obrázku vpravo. Bílá barva značí hodnoty 0, černá barva hodnoty 255. Konvoluční jádro (nebo také 2D filtr, nebo maska) má hodnoty:

$$h[k, l] = \begin{bmatrix} 0 & 0 & 0 \\ 0 & 1 & 0 \\ 0 & 0 & 0 \end{bmatrix}$$





Login: ..... Příjmení a jméno: ..... Podpis: ..... A  
(čitelně!)

**Příklad 1** Krasobruslař se při skoku otočí dvakrát za sekundu. Určete jeho úhlovou rychlost.

$$\omega = 4\pi \text{ rad/s}$$

**Příklad 2** Periodický signál je komplexní exponenciála:  $x(t) = 72e^{j2000\pi t + \frac{\pi}{8}}$ .  
Určete všechny nenulové koeficienty  $c_k$  jeho Fourierovy řady.


$$c_1 = 72 e^{j \frac{\pi}{8}}$$

**Příklad 3** Signál se spojitým časem je stejnosměrný:  $x(t) = 7$ .  
Napište jeho spektrální funkci.

$$X(j\omega) = 14\pi \delta(\omega)$$

**Příklad 4** Hodnota Fourierovy transformace (spektrální funkce) signálu  $x(t)$  na frekvenci  $\omega = 100\pi$  rad/s je  $X(j100\pi) = 1 + j$ . Určete hodnotu Fourierovy transformace (spektrální funkce)  $Y(j\omega)$  zpožděného signálu  $y(t) = x(t) - 0.0025s$  také na frekvenci  $\omega = 100\pi$  rad/s.

$$(1+j) e^{-0,0025 \cdot 100\pi} = (1+j) e^{-j\frac{\pi}{4}} = |1+j| = \sqrt{2}$$



$$Y(j100\pi) = \sqrt{2} \text{ nebo } 1,414$$

**Příklad 5** Přenosová funkce systému se spojitým časem je:  $H(s) = \frac{1}{s+1}$ .  
Určete hodnotu frekvenční charakteristiky tohoto systému na frekvenci  $\omega = \infty$  rad/s.

$$H(j\infty) = 0$$

**Příklad 6** Na vstupu systému se spojitým časem je signál  $x(t) = 200 \sin(200\pi t)$ . Na výstupu je signál  $y(t) = \sin(200\pi t)$ .

Určete hodnotu frekvenční charakteristiky tohoto systému na frekvenci  $\omega = 200\pi$  rad/s.

*je změna amplitudy, ve fázi*

$H(j200\pi) = \dots \frac{1}{200} \dots$

**Příklad 7** Na vstupu vzorkovače je periodický signál: sled obdélníkových impulsů o šířce  $\vartheta = 1 \mu\text{s}$ , výšce  $D = 50$  a periodě  $T_1 = 3 \mu\text{s}$ . Určete, zda lze zkonstruovat anti-aliasingový filtr tak, abychom po vzorkování a rekonstrukci na vzorkovací frekvenci  $F_s = 44100$  Hz dostali na výstupu přesně stejný signál. Pokud ano, napište, jak by měla vypadat jeho frekvenční charakteristika.

~~LZE/NELZE~~: .....  $H_{aa}(j\omega) = \dots$

**Příklad 8** Diskrétní signál má  $N = 8$  vzorků:

n	0	1	2	3	4	5	6	7
$x[n]$	4	3	8	5	1	2	11	67

Určete 3. vzorek signálu kruhově zpožděného o 7 vzorků:  $y[n] = R_8[n]x[\text{mod}_8(n - 7)]$

$y[3] = \dots 1 \dots$

**Příklad 9** Diskrétní signál má jediný vzorek nenulový:  $x[n] = \begin{cases} 40 & \text{pro } n = 0 \\ 0 & \text{jinde} \end{cases}$

Napište modul a argument jeho Fourierovy transformace s diskretním časem.

$\tilde{X}(e^{j\omega}) = \sum_{n=-\infty}^{\infty} x[n] e^{-j\omega n} = 40 e^{-j\omega 0} = 40$

$|\tilde{X}(e^{j\omega})| = \dots 40 \dots, \quad \arg \tilde{X}(e^{j\omega}) = \dots 0 \dots$

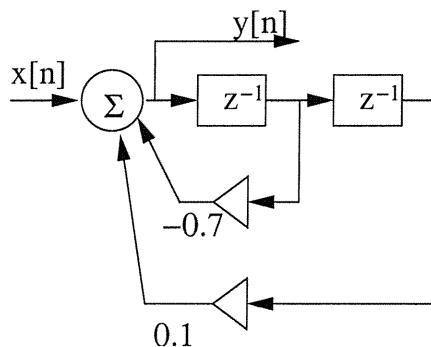
**Příklad 10** Vypočtete kruhovou konvoluci dvou signálů s diskretním časem o délce  $N = 4$ :

n	0	1	2	3
$x_1[n]$	1	-1	-1	2
$x_2[n]$	-2	1	2	1
$x_1[n] \circledast x_2[n]$	-3	6	5	-6

**Příklad 11** Vstup a impulsní odezva číslicového filtru FIR jsou v následující tabulce. Doplňte řádek pro jeho výstup (všechny hodnoty).

n	-1	0	1	2	3	4	5	6
$x[n]$	0	-2	1	2	0	0	0	0
$h[n]$	0	-1	-1	2	0	0	0	0
$y[n]$	0	2	1	-7	0	4	0	0

**Příklad 12** Na obrázku je blokové schéma číslicového filtru IIR druhého řádu:



Určete jeho přenosovou funkci.

$$H(z) = \frac{1}{1 + 0,7z^{-1} - 0,1z^{-2}}$$

**Příklad 13** Určete hodnotu frekvenční charakteristiky filtru z předcházejícího příkladu na normované kruhové frekvenci  $\omega = 0$  rad.

$$H(e^{j0}) = \frac{1}{1 + 0,7 - 0,1} = \frac{1}{1,6} = \frac{5}{8}$$

**Příklad 14** Filtry se impulsními odezvami  $h_1[n]$  a  $h_2[n]$  v tabulce jsou zapojeny **paralelně**. Určete reakci tohoto celého systému  $y[n]$  na jednotkový impuls  $x[n] = \delta[n]$ :

n	-1	0	1	2	3	4	5	6
$h_1[n]$	0	1	2	1	0	0	0	0
$h_2[n]$	0	3	5	12	0	0	0	0
$y[n]$	0	4	7	13	0	0	0	0

**Příklad 15** Distribuční funkce náhodného signálu pro čas  $t$  je dána jako:  $F(x, t) = \begin{cases} 0 & \text{pro } x < -1 \\ \frac{x+1}{2} & \text{pro } x \in [-1, 1] \\ 1 & \text{pro } x > 1 \end{cases}$

Určete pravděpodobnost, že hodnota náhodného signálu v čase  $t$  bude větší než:  $a = -1.3$

$$P = 1 - 0 = 1 - \text{vždy...}$$

$$P\{\xi(t) > a\} = 1$$

**Příklad 16** Funkce hustoty rozdělení pravděpodobnosti stacionárního náhodného signálu je dána jako:

$$p(x) = \begin{cases} \frac{1}{2} & \text{pro } x \in [-3, -2] \text{ a pro } x \in [2, 3] \\ 0 & \text{jinde} \end{cases}$$

Určete rozptyl tohoto náhodného signálu.

$$D = \frac{3^3 - 2^3}{3} = \frac{19}{3} \text{ nebo } 6,33$$

**Příklad 17** Náhodný signál má  $N = 5$  nenulových vzorků, pro  $n = [0 \ 1 \ 2 \ 3 \ 4]$ :  $x[n] = [4 \ 3 \ 5 \ 2 \ 2]$ . Jaký je nevychýlený odhad jeho autokorelačního koeficientu pro  $k = 2$ ? 4.35

$$\frac{5 \cdot 4 + 2 \cdot 3 + 2 \cdot 5}{5 - 2} = \frac{36}{3} = 12$$

$$R[k] = \dots$$

**Příklad 18** Tabulka udává 8 hodnot diskrétní Fourierovy transformace náhodného signálu o délce  $N = 8$  vzorků.

$k$	0	1	2	3	4	5	6	7
$X[k]$	4	-1-2j	-2-3j	2j	1	-2j	-2-3j	-1+2j

Odhadněte hodnotu jeho spektrální hustoty výkonu na normované kruhové frekvenci  $\omega_1 = \frac{\pi}{2}$  rad.

$$\frac{|-2 - 3j|^2}{8} = \frac{13}{8}$$

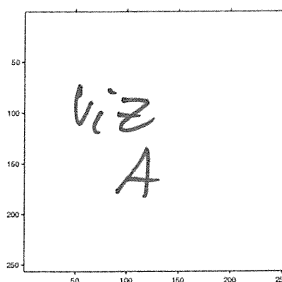
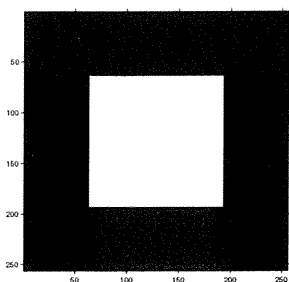
$$\hat{G}(e^{j\omega_1}) = \frac{13}{8}$$

**Příklad 19** Cosinusovka s amplitudou  $A = 1024$  plně využívá dynamického rozsahu kvantizéru od -1024 do 1024. Poměr signálu k šumu  $SNR = 49.76$  dB. Jaký je kvantovací krok?

$$\Delta = 8$$

**Příklad 20** Určete, jaký bude výsledek operace  $y[k, l] = |x[k, l] \star h[k, l]|$ . Vstup  $x[k, l]$  je na obrázku vlevo. Výsledek nakreslete do obrázku vpravo. Bílá barva značí hodnoty 0, černá barva hodnoty 255. Konvoluční jádro (nebo také 2D filtr, nebo maska) má hodnoty:

$$h[k, l] = \begin{bmatrix} 0 & 0 & 0 \\ 0 & 1 & 0 \\ 0 & 0 & 0 \end{bmatrix}$$



# Semestrální zkouška ISS, 2. opravný termín, 31.1.2011, skupina D

Login: ..... Příjmení a jméno: ..... Podpis: .....  
(čitelně!)

**Příklad 1** Krasobruslař se při skoku otočí třikrát za sekundu. Určete jeho úhlovou rychlost.

$$\omega = 6\pi \text{ rad/s}$$

**Příklad 2** Periodický signál je komplexní exponenciála:  $x(t) = 96e^{j2000\pi t - \frac{\pi}{8}}$ .  
Určete všechny nenulové koeficienty  $c_k$  jeho Fourierovy řady.

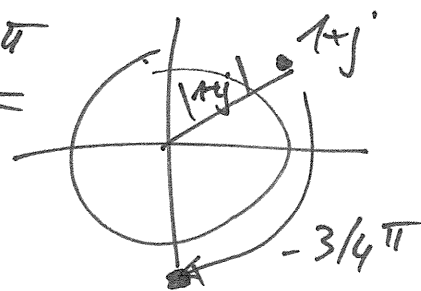
$$e_1 = 96 e^{-j\frac{\pi}{8}}$$

**Příklad 3** Signál se spojitým časem je stejnosměrný:  $x(t) = 12$ .  
Napište jeho spektrální funkci.

$$X(j\omega) = 24\pi \delta(\omega)$$

**Příklad 4** Hodnota Fourierovy transformace (spektrální funkce) signálu  $x(t)$  na frekvenci  $\omega = 100\pi$  rad/s je  $X(j100\pi) = 1 + j$ . Určete hodnotu Fourierovy transformace (spektrální funkce)  $Y(j\omega)$  zpožděného signálu  $y(t) = x(t) - 0.0075s$  také na frekvenci  $\omega = 100\pi$  rad/s.

$$(1+j)e^{-j0,0075 \cdot 100\pi t} = (1+j)e^{-j\frac{3}{4}\pi} = |1+j|e^{-j\frac{3}{4}\pi}$$



$$Y(j100\pi) = -j\sqrt{2} \text{ nebo } -j1,414$$

**Příklad 5** Přenosová funkce systému se spojitým časem je:  $H(s) = \frac{1}{s+1}$ .  
Určete hodnotu frekvenční charakteristiky tohoto systému na frekvenci  $\omega = \infty$  rad/s.

$$H(j\infty) = 0$$

**Příklad 6** Na vstupu systému se spojitým časem je signál  $x(t) = 100 \cos(200\pi t)$ . Na výstupu je signál  $y(t) = \sin(200\pi t)$ .

Určete hodnotu frekvenční charakteristiky tohoto systému na frekvenci  $\omega = 200\pi$  rad/s.

$$H(j200\pi) = \dots \frac{1}{100} e^{-j \frac{\pi}{2}} \dots$$

**Příklad 7** Na vstupu vzorkovače je periodický signál: sled obdélníkových impulsů o šířce  $\vartheta = 1 \mu\text{s}$ , výšce  $D = 50$  a periodě  $T_1 = 3 \mu\text{s}$ . Určete, zda lze zkonstruovat anti-aliasingový filtr tak, abychom po vzorkování a rekonstrukci na vzorkovací frekvenci  $F_s = 44100$  Hz dostali na výstupu přesně stejný signál. Pokud ano, napište, jak by měla vypadat jeho frekvenční charakteristika.

~~LZE/NELZE~~: .....  $H_{aa}(j\omega) = \dots$

**Příklad 8** Diskrétní signál má  $N = 8$  vzorků:

n	0	1	2	3	4	5	6	7
$x[n]$	4	3	8	5	1	2	11	67

1 2 11 67 4 3 8 5

Určete 3. vzorek signálu kruhově zpožděného o 4 vzorky:  $y[n] = R_8[n]x[\text{mod}_8(n-4)]$

$$y[3] = \dots 67 \dots$$

**Příklad 9** Diskrétní signál má jediný vzorek nenulový:  $x[n] = \begin{cases} 50 & \text{pro } n = 0 \\ 0 & \text{jinde} \end{cases}$

Napište modul a argument jeho Fourierovy transformace s diskrétním časem.

Viz C

$$|\tilde{X}(e^{j\omega})| = \dots 50 \dots, \quad \arg \tilde{X}(e^{j\omega}) = \dots 0 \dots$$

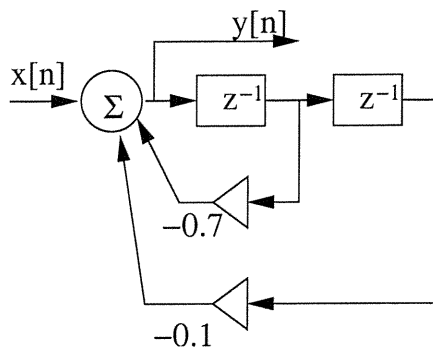
**Příklad 10** Vypočtěte kruhovou konvoluci dvou signálů s diskrétním časem o délce  $N = 4$ :

n	0	1	2	3
$x_1[n]$	1	-1	-1	2
$x_2[n]$	2	1	2	-1
$x_1[n] \otimes x_2[n]$	3	4	-3	0

**Příklad 11** Vstup a impulsní odezva číslicového filtru FIR jsou v následující tabulce. Doplňte řádek pro jeho výstup (všechny hodnoty).

n	-1	0	1	2	3	4	5	6
$x[n]$	0	2	1	2	0	0	0	0
$h[n]$	0	-1	-1	2	0	0	0	0
$y[n]$	0	-2	-3	1	0	4	0	0

**Příklad 12** Na obrázku je blokové schéma číslicového filtru IIR druhého řádu:



Určete jeho přenosovou funkci.

$$H(z) = \frac{1}{1 + 0,7z^{-1} + 0,1z^{-2}}$$

**Příklad 13** Určete hodnotu frekvenční charakteristiky filtru z předcházejícího příkladu na normované kruhové frekvenci  $\omega = 0$  rad.

$$H(e^{j0}) = \frac{1}{1 + 0,7 + 0,1} = \frac{1}{1,8} = \frac{5}{9}$$

**Příklad 14** Filtry se impulsními odezvami  $h_1[n]$  a  $h_2[n]$  v tabulce jsou zapojeny **paralelně**. Určete reakci tohoto celého systému  $y[n]$  na jednotkový impuls  $x[n] = \delta[n]$ :

n	-1	0	1	2	3	4	5	6
$h_1[n]$	0	1	2	1	0	0	0	0
$h_2[n]$	0	-3	-1	-2	0	0	0	0
$y[n]$	0	-2	1	-1	0	0	0	0

**Příklad 15** Distribuční funkce náhodného signálu pro čas  $t$  je dána jako:  $F(x, t) = \begin{cases} 0 & \text{pro } x < -1 \\ \frac{x+1}{2} & \text{pro } x \in [-1, 1] \\ 1 & \text{pro } x > 1 \end{cases}$

Určete pravděpodobnost, že hodnota náhodného signálu v čase  $t$  bude větší než:  $a = 0$

$$P = 1 - 0,5 = 0,5$$

$$P\{\xi(t) > a\} = 0,5$$

**Příklad 16** Funkce hustoty rozdělení pravděpodobnosti stacionárního náhodného signálu je dána jako:

$$p(x) = \begin{cases} \frac{1}{2} & \text{pro } x \in [-4, -3] \text{ a pro } x \in [3, 4] \\ 0 & \text{jinde} \end{cases}$$

Určete rozptyl tohoto náhodného signálu.

$$D = \frac{4^3 - 3^3}{3} = \frac{64 - 27}{3} = \frac{37}{3} \text{ nebo } 12,33$$

**Příklad 17** Náhodný signál má  $N = 5$  nenulových vzorků, pro  $n = [0 \ 1 \ 2 \ 3 \ 4]$ :  $x[n] = [4 \ 3 \ 5 \ 2 \ 2]$ . Jaký je nevychýlený odhad jeho autokorelačního koeficientu pro  $k = 1$ ?

$$\frac{3 \cdot 4 + 5 \cdot 3 + 2 \cdot 5 + 2 \cdot 2}{5 - 1} = \frac{47}{4} = 11,75$$

$$R[k] = 11,75$$

**Příklad 18** Tabulka udává 8 hodnot diskrétní Fourierovy transformace náhodného signálu o délce  $N = 8$  vzorků.

$k$	0	1	2	3	4	5	6	7
$X[k]$	4	$-1-2j$	$-2-3j$	$2j$	1	$-2j$	$-2-3j$	$-1+2j$

Odhadněte hodnotu jeho spektrální hustoty výkonu na normované kruhové frekvenci  $\omega_1 = \pi$  rad.

$$\frac{|X[6]|^2}{N} = \frac{1^2}{8}$$

$$\hat{G}(e^{j\omega_1}) = \frac{1}{8}$$

**Příklad 19** Cosinusovka s amplitudou  $A = 1024$  plně využívá dynamického rozsahu kvantizéru od  $-1024$  do  $1024$ . Poměr signálu k šumu  $SNR = 49.76$  dB. Jaký je kvantovací krok?

$$\Delta = 8$$

**Příklad 20** Určete, jaký bude výsledek operace  $y[k, l] = |x[k, l] \star h[k, l]|$ . Vstup  $x[k, l]$  je na obrázku vlevo. Výsledek nakreslete do obrázku vpravo. Bílá barva značí hodnoty 0, černá barva hodnoty 255. Konvoluční jádro (nebo také 2D filtr, nebo maska) má hodnoty:

$$h[k, l] = \begin{bmatrix} 0 & 0 & 0 \\ 0 & 1 & 0 \\ 0 & 0 & 0 \end{bmatrix}$$

