

Login: Příjmení a jméno: Podpis:
(čitelně!)

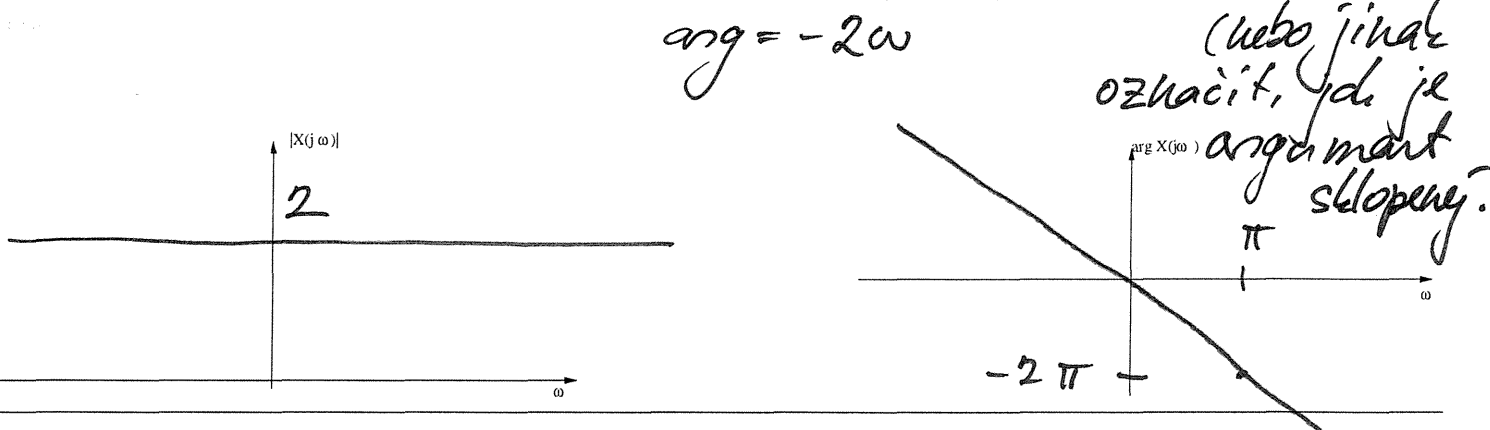
Příklad 1 Popište pohyb jednoho konce vrtule malého letadélka jako funkci dráhy x pomocí komplexní exponenciály. Dráhu označte jako x , osa "doprava-doleva" je reálná, osa "nahoru-dolů" je imaginární. Letadlo letí rychlostí 10m/s, vrtule se otáčí rychlostí 10 otáček za sekundu. Vrtule má poloměr 10 cm. Směr otáčení vrtule (po nebo proti směru hodinových ručiček) si můžete zvolit sami. Počáteční natočení vrtule neuvažujte (komplexní exponenciála tedy nebude mít žádnou počáteční fázi).

$f(x) = \dots$ $10 e^{j2\pi x}$ nebo $10 e^{-j2\pi x}$
dráha pro 1 otáčení vrtule je 1 metr, za tuto dráhu se musí argument změnit o 2π , takže "frekvence" je 2π .

Příklad 2 Periodický signál $x(t)$ má periodu $T = 20$ ms. Jeho 2. koeficient Fourierovy řady $c_{x,2} = 1+j$. Určete koeficient $c_{y,2}$ Fourierovy řady signálu $y(t)$ zpožděného oproti $x(t)$ o 5ms: $y(t) = x(t) - 5$ ms.

$c_{y,2} = \dots$ $-1-j$
 $c_{y,k} = c_{x,k} \cdot e^{-jk\omega T} = c_{x,2} \cdot e^{-j2 \frac{2\pi}{20 \cdot 10^{-3}} \cdot 5 \cdot 10^{-3}} = c_{x,2} \cdot e^{-j\pi} = -c_{x,2}$

Příklad 3 Nakreslete spektrální funkci signálu $x(t) = 2\delta(t-2)$, kde $\delta(t)$ je Diracův impuls.



Příklad 4 Na obrázku je modul spektrální funkce $|X(j\omega)|$ signálu $x(t)$. Nakreslete modul spektrální funkce $|Y(j\omega)|$ signálu $y(t) = x(\frac{t}{2})$

pro $y(t) = x(\frac{t}{m})$: $Y(j\omega) = \frac{1}{m} X(j \frac{\omega}{m})$



Příklad 5 Chování systému se spojitým časem je popsáno diferenciální rovnicí $0.5 \frac{dy(t)}{dt} + y(t) = x(t)$. Napište jeho přenosovou funkci.

$0,5s Y(s) + Y(s) = X(s)$
 $\frac{Y(s)}{X(s)} = \frac{1}{1 + 0,5s}$
 $H(s) = \dots$ $\frac{1}{1 + 0,5s}$

Příklad 6 Přenosová funkce systému se spojitým časem je $H(s) = \frac{1}{s^2-1}$. Určete, zda je tento systém stabilní.

$$H(s) = \frac{1}{(s+1)(s-1)}$$



NE.

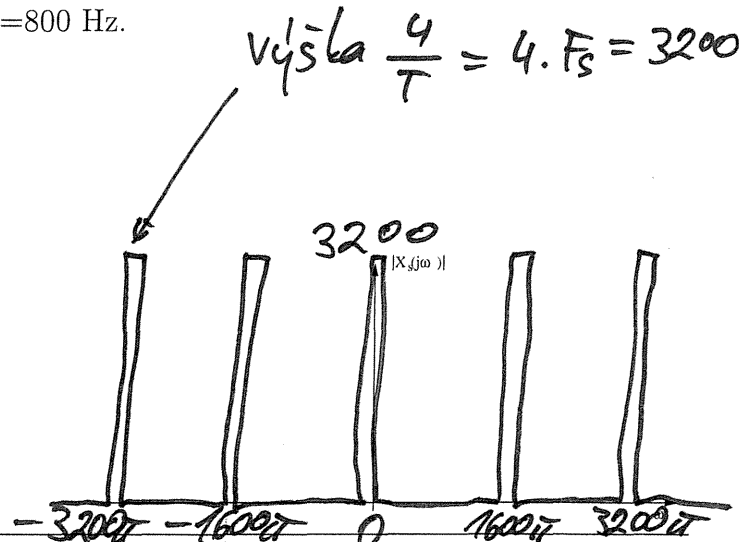
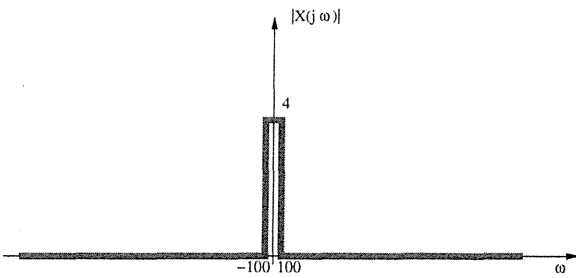
Odpověď (ANO/NE):

Příklad 7 Signál $x(t) = 14 \cos(16000\pi t)$ je ideálně navzorkován na vzorkovací frekvenci $F_s=8000$ Hz a pak ideálně rekonstruován. Je použit anti-aliasingový filtr. Zapište výsledný signál:

je 8000Hz. Antialias filter propouští do $\frac{F_s}{2}$ takže tento signál neprojde.

$x_r(t) = 0$

Příklad 8 Modul spektrální funkce signálu $x(t)$ je na obrázku. Nakreslete modul spektrální funkce tohoto signálu ideálně navzorkovaného na frekvenci $F_s=800$ Hz.



Příklad 9 Vypočítejte kruhovou konvoluci dvou signálů s diskretním časem o délce $N = 4$:

n	0	1	2	3
$x_1[n]$	4	3	1	2
$x_2[n]$	1	2	1	2
$x_1[n] \otimes x_2[n]$	15	15	15	15

Příklad 10 Diskretní signál má pouze dva nenulové vzorky: $x[0] = 1$ a $x[1] = 2$. Určete hodnotu jeho Fourierovy transformace s diskretním časem (DTFT) na normované kruhové frekvenci $\omega_1 = \frac{\pi}{2}$ rad.

$$\tilde{X}(e^{j\omega}) = \sum_{n=-\infty}^{\infty} x[n] e^{-jn\omega}$$

$$\tilde{X}(e^{j\frac{\pi}{2}}) = 1 \cdot \underbrace{e^{-j0\frac{\pi}{2}}}_1 + 2 \cdot \underbrace{e^{-j1\frac{\pi}{2}}}_{-j} = 1 - 2j$$

$\tilde{X}(e^{j\omega_1}) = 1 - 2j$

Příklad 11 Je dán periodický diskretní signál s periodou $N=4$:

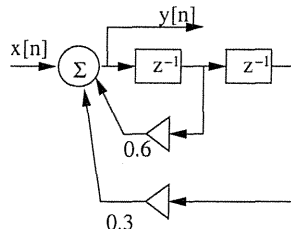
n	0	1	2	3
$\tilde{x}[n]$	4	3	1	2

$e^{j\frac{2\pi}{N}km}$
v tabulce

m	0	1	2	3	$X[k]$
$X[m]$	4	3	1	2	$X[0]$
$k=0$	1	1	1	1	10
$k=1$	1	-j	-1	j	2 -j
$k=2$	1	-1	1	-1	0
$k=3$	1	j	-1	-j	2 +j

$\tilde{X}[k] = \dots$
 ~~$2-2j$~~ $3-j$

Příklad 12 Na obrázku je blokové schéma číslicového filtru IIR druhého řádu:



Určete první tři vzorky jeho impulsní odezvy.

$h[0] = \dots$ 1 $h[1] = \dots$ $0,6$ $h[2] = \dots$ ~~$0,18$~~ $0,6 \cdot 0,6 + 0,3 = 0,66$

Příklad 13 Určete přenosovou funkci filtru z předcházejícího příkladu.

$H(z) = \frac{1}{1 - 0,6z^{-1} - 0,3z^{-2}}$

Příklad 14 Určete póly číslicového filtru s přenosovou funkcí $H(z) = \frac{1}{1+0,25z^{-2}} = \frac{z^2}{z^2 + 0,25}$

$z_{1,2} = \frac{-b \pm \sqrt{b^2 - 4ac}}{2a} = \frac{0 \pm \sqrt{0 - 1}}{2} = \pm \frac{\sqrt{-1}}{2} = \pm \frac{j}{2}$

$p_1 = \dots$ $\frac{j}{2}$ $p_2 = \dots$ $-\frac{j}{2}$ nebo naopak.

Příklad 15 Bylo zaznamenáno 6 realizací náhodného procesu. V čase $t = 2$ byly naměřeny tyto hodnoty:

realizace ω	0	1	2	3	4	5
$\xi_\omega(2)$	5	4	1	2	3	3

Odhadněte hodnotu distribuční funkce $F(x, t)$ pro $t = 2$ a $x = 2,5$

odhad = $\frac{\text{počet } < 2,5}{\text{všech}} = \frac{2}{6}$

$F(x, t) = \dots$ $\frac{1}{3}$

Příklad 16 Náhodný signál s diskretním časem je bílý šum: jeho autokorelační koeficient $R[0] = 1$, ostatní jsou nulové. Určete hodnotu jeho spektrální hustoty výkonu na normované kruhové frekvenci $\omega = \frac{\pi}{32}$ rad.

$$G(e^{j\omega}) = \sum_{k=-\infty}^{\infty} R[k] e^{-j\omega k}$$

$$G_x(e^{j\frac{\pi}{32}}) = \dots\dots\dots 1$$

$$G(e^{j\frac{\pi}{32}}) = \cancel{\#} 1 \cdot e^{-j\frac{\pi}{32} \cdot 0} = 1$$

Příklad 17 Hodnota spektrální hustoty výkonu náhodného signálu s diskretním časem $x[n]$ na frekvenci $\omega = \frac{\pi}{4}$ je $G_x(e^{j\frac{\pi}{4}}) = 5$. Signál prochází číslicovým filtrem, který má na této frekvenci hodnotu kmitočtové charakteristiky $H(e^{j\frac{\pi}{4}}) = \frac{1}{\sqrt{2}} + j\frac{1}{\sqrt{2}}$. Určete hodnotu spektrální hustoty výkonu náhodného signálu s diskretním časem $y[n]$ na výstupu filtru na této frekvenci.

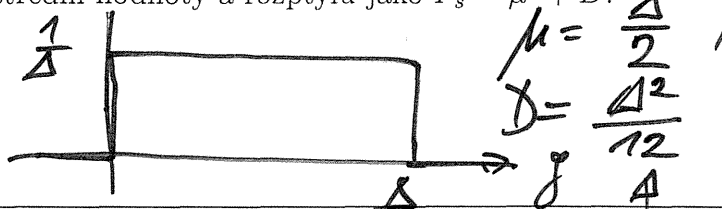
$$G_y(e^{j\omega}) = G_x(e^{j\omega}) \cdot |H(e^{j\omega})|^2 = 5 \cdot \left| \frac{1}{\sqrt{2}} + j\frac{1}{\sqrt{2}} \right|^2 = 5 \cdot 1$$

$$G_y(e^{j\frac{\pi}{4}}) = \dots\dots\dots 5$$

Příklad 18 Určete střední výkon P_s náhodného signálu $x[n]$ s funkcí hustoty rozdělení pravděpodobnosti danou: $p_x(g) = \begin{cases} \frac{1}{3} & \text{pro } 0 \leq g \leq 3 \\ 0 & \text{jinde} \end{cases}$

Pomůcka: střední výkon můžete vypočítat pomocí střední hodnoty a rozptylu jako $P_s = \mu^2 + D$.

$$P_s = \frac{\Delta^2}{4} + \frac{\Delta^2}{12} = \frac{\Delta^2}{3}$$

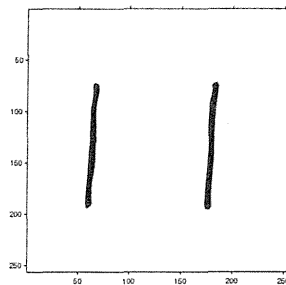
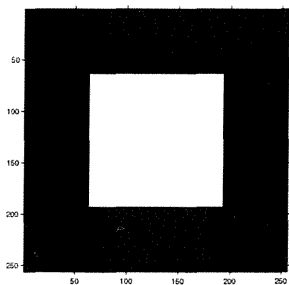


$$P_s = \dots\dots\dots \frac{3^2}{3} = 3$$

Příklad 19 Určete, jaký bude výsledek operace $y[k, l] = |x[k, l] * h[k, l]|$. Vstup $x[k, l]$ je na obrázku vlevo. Výsledek nakreslete do obrázku vpravo. Bílá barva značí hodnoty 0, černá barva hodnoty 255. Konvoluční jádro (nebo také 2D filtr, nebo maska) má hodnoty:

$$h[k, l] = \frac{1}{3} \begin{bmatrix} 1 & 0 & -1 \\ 1 & 0 & -1 \\ 1 & 0 & -1 \end{bmatrix}$$

viz vztokování, dá se i jednoduše spočítat.



Příklad 20 Obrázek o rozměrech 256×256 obsahuje polovinu pixelů s hodnotou 100 a polovinu pixelů s hodnotou 200. Určete, jaký je poměr signálu k šumu při kvantování tohoto obrázku jedním bitem na pixel, pokud mají kvantovací hladiny hodnoty 110 a 220 a kvantuje se standardně zaokrouhlováním na nejbližší kvantovací hladinu.

$$SNR = 10 \log_{10} \frac{P_s}{P_e} = 10 \log_{10} \frac{256 \cdot 128 \cdot 100^2 + 256 \cdot 128 \cdot 200^2}{256 \cdot 128 \cdot 10^2 + 256 \cdot 128 \cdot 20^2} = 10 \log_{10} \frac{50000}{500} = 10 \log_{10} 100 = 20$$

$$SNR = \dots\dots\dots 20 \text{ dB}$$

Login: Příjmení a jméno: Podpis: *viz také A*
 (čitelně!)


Příklad 1 Popište pohyb jednoho konce vrtule malého letadélka jako funkci dráhy x pomocí komplexní exponenciály. Dráhu označte jako x , osa "doprava-doleva" je reálná, osa "nahoru-dolů" je imaginární. Letadlo letí rychlostí 10m/s, vrtule se otáčí rychlostí 10 otáček za sekundu. Vrtule má poloměr 7 cm. Směr otáčení vrtule (po nebo proti směru hodinových ručiček) si můžete zvolit sami. Počáteční natočení vrtule neuvažujte (komplexní exponenciála tedy nebude mít žádnou počáteční fázi).

$f(x) = 7e^{j2\pi x}$ nebo $7e^{-j2\pi x}$ *viz A*

Příklad 2 Periodický signál $x(t)$ má periodu $T = 20$ ms. Jeho 2. koeficient Fourierovy řady $c_{x,2} = 1-j$. Určete koeficient $c_{y,2}$ Fourierovy řady signálu $y(t)$ zpožděného oproti $x(t)$ o 5ms: $y(t) = x(t) - 5$ ms.

$c_{y,2} = -1 + j$ *viz A*

Příklad 3 Nakreslete spektrální funkci signálu $x(t) = 2\delta(t - 1)$, kde $\delta(t)$ je Diracův impuls.



Příklad 4 Na obrázku je modul spektrální funkce $|X(j\omega)|$ signálu $x(t)$. Nakreslete modul spektrální funkce $|Y(j\omega)|$ signálu $y(t) = x(3t)$



Příklad 5 Chování systému se spojitým časem je popsáno diferenciální rovnicí $0.5 \frac{dy(t)}{dt} + y(t) = x(t)$. Napište jeho přenosovou funkci.

$H(s) = \frac{1}{1 + 0.5s}$

Příklad 6 Přenosová funkce systému se spojitým časem je $H(s) = \frac{1}{s^2-1}$. Určete, zda je tento systém stabilní.

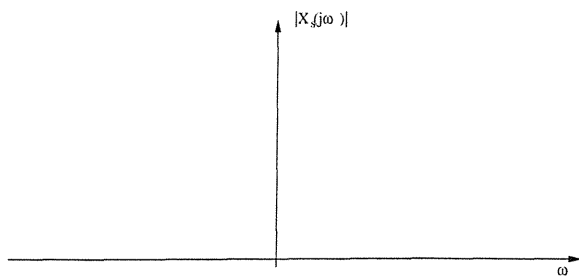
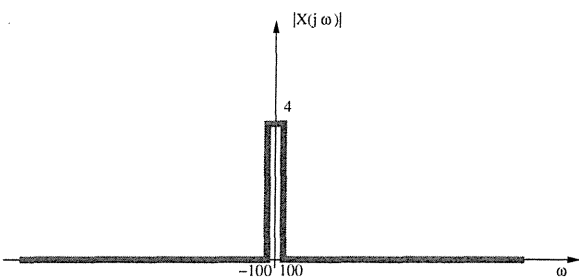
Odpověď (ANO/NE): **NE**

Příklad 7 Signál $x(t) = 10 \cos(16000\pi t)$ je ideálně navzorkován na vzorkovací frekvenci $F_s=8000$ Hz a pak ideálně rekonstruován. Je použit anti-aliasingový filtr. Zapište výsledný signál:

$x_r(t) = \dots\dots\dots$ **0**

Příklad 8 Modul spektrální funkce signálu $x(t)$ je na obrázku. Nakreslete modul spektrální funkce tohoto signálu ideálně navzorkovaného na frekvenci $F_s=800$ Hz.

viz A



Příklad 9 Vypočítejte kruhovou konvoluci dvou signálů diskrétním časem o délce $N = 4$:

n	0	1	2	3
$x_1[n]$	4	3	1	2
$x_2[n]$	1	1	1	2
$x_1[n] \otimes x_2[n]$	13	11	12	14

Příklad 10 Diskrétní signál má pouze dva nenulové vzorky: $x[0] = 1$ a $x[1] = 2$. Určete hodnotu jeho Fourierovy transformace s diskrétním časem (DTFT) na normované kruhové frekvenci $\omega_1 = \frac{3\pi}{2}$ rad.

$$\tilde{X}(e^{j\frac{3\pi}{2}}) = 1 \cdot \underbrace{e^{-j0 \cdot \frac{3\pi}{2}}}_1 + 2 \underbrace{e^{-j1 \cdot \frac{3\pi}{2}}}_j$$

$\tilde{X}(e^{j\omega_1}) = \dots\dots\dots$ **1 + 2j**

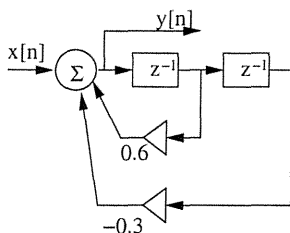
Příklad 11 Je dán periodický diskrétní signál s periodou $N = 4$:

n	0	1	2	3
$\tilde{x}[n]$	4	3	1	2

Spočítejte koeficient jeho diskrétní Fourierovy řady pro $k = 2$

$\tilde{X}[k] = \dots \overset{2}{\cancel{2}} \dots 0$

Příklad 12 Na obrázku je blokové schéma číslicového filtru IIR druhého řádu:



Určete první tři vzorky jeho impulsní odezvy.

$h[0] = \dots 1 \dots$ $h[1] = \dots 0,6 \dots$ $h[2] = \dots \cancel{0,6} \cdot 0,6 - 0,3 = 0,06 \dots$

Příklad 13 Určete přenosovou funkci filtru z předcházejícího příkladu.

$H(z) = \dots \frac{1}{1 - 0,6z^{-1} + 0,3z^{-2}} \dots$

Příklad 14 Určete póly číslicového filtru s přenosovou funkcí $H(z) = \frac{1}{1+0,25z^{-2}}$.

$p_1 = \dots j/2 \dots$ $p_2 = \dots -j/2 \dots$

Příklad 15 Bylo zaznamenáno 6 realizací náhodného procesu. V čase $t = 2$ byly naměřeny tyto hodnoty:

realizace ω	0	1	2	3	4	5
$\xi_\omega(2)$	5	4	1	2	3	3

Odhadněte hodnotu distribuční funkce $F(x, t)$ pro $t = 2$ a $x = 1.5$

$F(x, t) = \dots \frac{1}{6} \dots$

Příklad 16 Náhodný signál s diskretním časem je bílý šum: jeho autokorelační koeficient $R[0] = 1$, ostatní jsou nulové. Určete hodnotu jeho spektrální hustoty výkonu na normované kruhové frekvenci $\omega = \frac{\pi}{4}$ rad.

$G_x(e^{j\frac{\pi}{4}}) = \dots\dots\dots 1$

viz A

Příklad 17 Hodnota spektrální hustoty výkonu náhodného signálu s diskretním časem $x[n]$ na frekvenci $\omega = \frac{\pi}{4}$ je $G_x(e^{j\frac{\pi}{4}}) = 5$. Signál prochází číslicovým filtrem, který má na této frekvenci hodnotu kmitočtové charakteristiky $H(e^{j\frac{\pi}{4}}) = -\frac{1}{\sqrt{2}} + j\frac{1}{\sqrt{2}}$. Určete hodnotu spektrální hustoty výkonu náhodného signálu s diskretním časem $y[n]$ na výstupu filtru na této frekvenci.

$G_y(e^{j\frac{\pi}{4}}) = \dots\dots\dots 5$

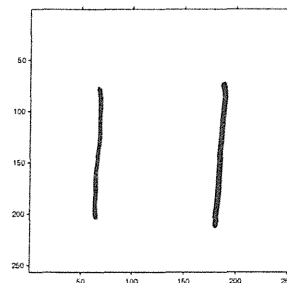
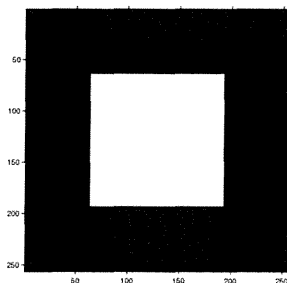
Příklad 18 Určete střední výkon P_s náhodného signálu $x[n]$ s funkcí hustoty rozdělení pravděpodobnosti danou: $p_x(g) = \begin{cases} \frac{1}{4} & \text{pro } 0 \leq g \leq 4 \\ 0 & \text{jinde} \end{cases}$

Pomůcka: střední výkon můžete vypočítat pomocí střední hodnoty a rozptylu jako $P_s = \mu^2 + D$.

$P_s = \dots\dots\dots \frac{4^2}{3} = \frac{16}{3}$

Příklad 19 Určete, jaký bude výsledek operace $y[k, l] = |x[k, l] \star h[k, l]|$. Vstup $x[k, l]$ je na obrázku vlevo. Výsledek nakreslete do obrázku vpravo. Bílá barva značí hodnoty 0, černá barva hodnoty 255. Konvoluční jádro (nebo také 2D filtr, nebo maska) má hodnoty:

$$h[k, l] = \frac{1}{3} \begin{bmatrix} 1 & 0 & -1 \\ 1 & 0 & -1 \\ 1 & 0 & -1 \end{bmatrix}$$



Příklad 20 Obrázek o rozměrech 256×256 obsahuje polovinu pixelů s hodnotou 100 a polovinu pixelů s hodnotou 200. Určete, jaký je poměr signálu k šumu při kvantování tohoto obrázku jedním bitem na pixel, pokud mají kvantovací hladiny hodnoty 101 a 202 a kvantuje se standardně zaokrouhlováním na nejbližší kvantovací hladinu.

$SNR = \dots \text{viz } A = 10 \log_{10} \frac{50000}{5} =$
 $= 10 \log_{10} 10000 = 40$

SNR = $\dots\dots\dots 40$ dB

Vše také viz A
Podpis:

Login: Příjmení a jméno:
(čitelně!)

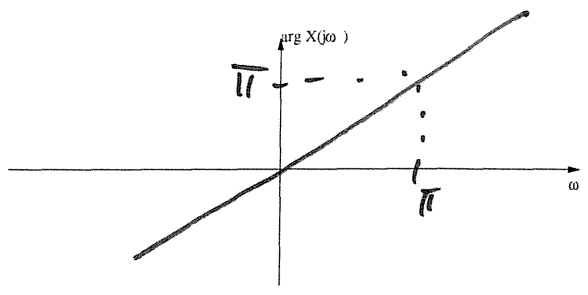
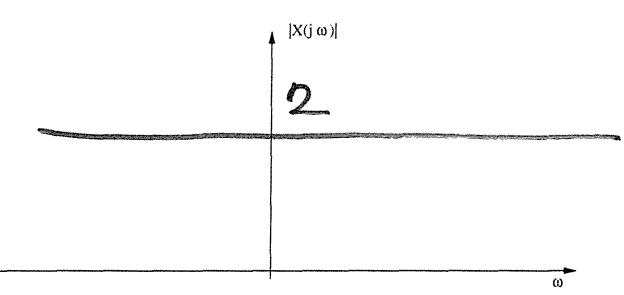
Příklad 1 Popište pohyb jednoho konce vrtule malého letadélka jako funkci dráhy x pomocí komplexní exponenciály. Dráhu označte jako x , osa "doprava-doleva" je reálná, osa "nahoru-dolů" je imaginární. Letadlo letí rychlostí 10m/s, vrtule se otáčí rychlostí 10 otáček za sekundu. Vrtule má poloměr 8 cm. Směr otáčení vrtule (po nebo proti směru hodinových ručiček) si můžete zvolit sami. Počáteční natočení vrtule neuvažujte (komplexní exponenciála tedy nebude mít žádnou počáteční fázi).

$f(x) = \dots\dots\dots$
 $8e^{j2\pi x}$ nebo $8e^{-j2\pi x}$

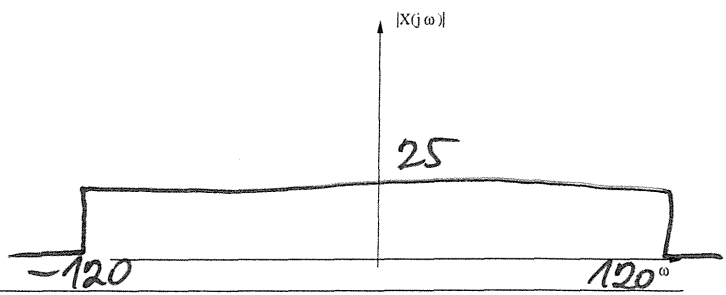
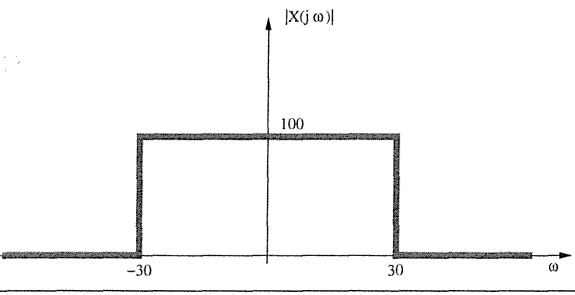
Příklad 2 Periodický signál $x(t)$ má periodu $T = 20$ ms. Jeho 2. koeficient Fourierovy řady $c_{x,2} = -1+j$. Určete koeficient $c_{y,2}$ Fourierovy řady signálu $y(t)$ zpožděného oproti $x(t)$ o 5ms: $y(t) = x(t - 5 \text{ ms})$.

$c_{y,2} = \dots\dots\dots$
 $1-j$

Příklad 3 Nakreslete spektrální funkci signálu $x(t) = 2\delta(t + 1)$, kde $\delta(t)$ je Diracův impuls.



Příklad 4 Na obrázku je modul spektrální funkce $|X(j\omega)|$ signálu $x(t)$. Nakreslete modul spektrální funkce $|Y(j\omega)|$ signálu $y(t) = x(4t)$



Příklad 5 Chování systému se spojitým časem je popsáno diferenciální rovnicí $0.5 \frac{dy(t)}{dt} + y(t) = x(t)$. Napište jeho přenosovou funkci.

$H(s) = \dots\dots\dots$
 $\frac{1}{1 + 0,5s}$

Příklad 6 Přenosová funkce systému se spojitým časem je $H(s) = \frac{1}{s^2-1}$. Určete, zda je tento systém stabilní.

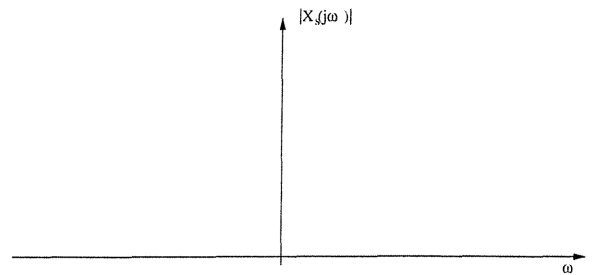
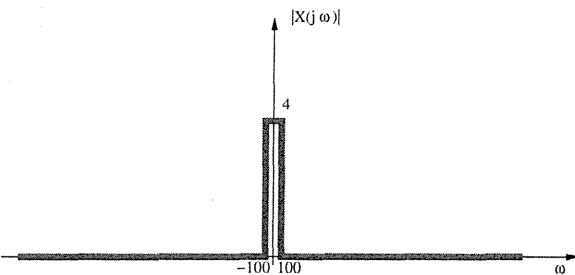
Odpověď (ANO/NE): **NE**

Příklad 7 Signál $x(t) = 6 \cos(16000\pi t)$ je ideálně navzorkován na vzorkovací frekvenci $F_s=8000$ Hz a pak ideálně rekonstruován. Je použit anti-aliasingový filtr. Zapište výsledný signál:

0
 $x_r(t) = \dots\dots\dots$

Příklad 8 Modul spektrální funkce signálu $x(t)$ je na obrázku. Nakreslete modul spektrální funkce tohoto signálu ideálně navzorkovaného na frekvenci $F_s=800$ Hz.

viz A



Příklad 9 Vypočítejte kruhovou konvoluci dvou signálů s diskretním časem o délce $N = 4$:

n	0	1	2	3
$x_1[n]$	4	3	1	2
$x_2[n]$	1	1	2	2
$x_1[n] \otimes x_2[n]$	14	13	16	17

Příklad 10 Diskretní signál má pouze dva nenulové vzorky: $x[0] = 1$ a $x[1] = 2$. Určete hodnotu jeho Fourierovy transformace s diskretním časem (DTFT) na normované kruhové frekvenci $\omega_1 = \pi$ rad.

$$\tilde{X}(e^{j\pi}) = \underbrace{1}_{1} e^{-j0\pi} + \underbrace{2}_{-1} e^{-j1\pi}$$

$\tilde{X}(e^{j\omega_1}) = \dots\dots\dots$ **-1**

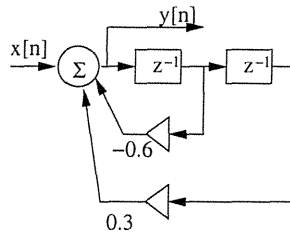
Příklad 11 Je dán periodický diskrétní signál s periodou $N = 4$:

n	0	1	2	3
$\tilde{x}[n]$	4	3	1	2

Spočítejte koeficient jeho diskrétní Fourierovy řady pro $k = 3$

$\tilde{X}[k] = \dots$ ~~$2 + 2j$~~ $3 + j$

Příklad 12 Na obrázku je blokové schéma číslicového filtru IIR druhého řádu:



Určete první tři vzorky jeho impulsní odezvy.

$h[0] = \dots$ 1 $h[1] = \dots$ -0.6 $h[2] = \dots$ $(-0.6)(-0.6) + 0.3 = 0.66$

Příklad 13 Určete přenosovou funkci filtru z předcházejícího příkladu.

$H(z) = \dots$ $\frac{1}{1 + 0.6z^{-1} - 0.3z^{-2}}$

Příklad 14 Určete póly číslicového filtru s přenosovou funkcí $H(z) = \frac{1}{1 + 0.25z^{-2}}$.

$p_1 = \dots$ $j/2$ $p_2 = \dots$ $-j/2$

Příklad 15 Bylo zaznamenáno 6 realizací náhodného procesu. V čase $t = 2$ byly naměřeny tyto hodnoty:

realizace ω	0	1	2	3	4	5
$\xi_\omega(2)$	5	4	1	2	3	3

Odhadněte hodnotu distribuční funkce $F(x, t)$ pro $t = 2$ a $x = 6$

$F(x, t) = \dots$ $\frac{6}{6} = 1$

Příklad 16 Náhodný signál s diskretním časem je bílý šum: jeho autokorelační koeficient $R[0] = 1$, ostatní jsou nulové. Určete hodnotu jeho spektrální hustoty výkonu na normované kruhové frekvenci $\omega = \frac{\pi}{8}$ rad.

$G_x(e^{j\frac{\pi}{8}}) = \dots\dots\dots 1$

viz A

Příklad 17 Hodnota spektrální hustoty výkonu náhodného signálu s diskretním časem $x[n]$ na frekvenci $\omega = \frac{\pi}{4}$ je $G_x(e^{j\frac{\pi}{4}}) = 5$. Signál prochází číslicovým filtrem, který má na této frekvenci hodnotu kmitočtové charakteristiky $H(e^{j\frac{\pi}{4}}) = \frac{1}{\sqrt{2}} - j\frac{1}{\sqrt{2}}$. Určete hodnotu spektrální hustoty výkonu náhodného signálu s diskretním časem $y[n]$ na výstupu filtru na této frekvenci.

$G_y(e^{j\frac{\pi}{4}}) = \dots\dots\dots 5$

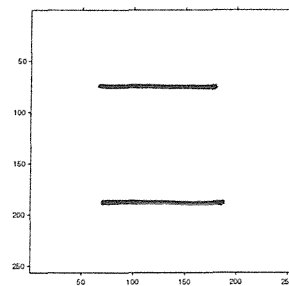
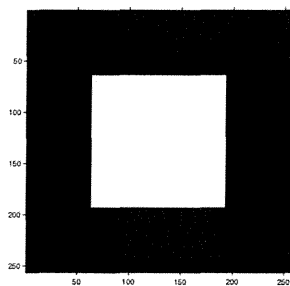
Příklad 18 Určete střední výkon P_s náhodného signálu $x[n]$ s funkcí hustoty rozdělení pravděpodobnosti danou: $p_x(g) = \begin{cases} \frac{1}{5} & \text{pro } 0 \leq g \leq 5 \\ 0 & \text{jinde} \end{cases}$

Pomůcka: střední výkon můžete vypočítat pomocí střední hodnoty a rozptylu jako $P_s = \mu^2 + D$.

$P_s = \dots\dots\dots \frac{5^2}{3} = \frac{25}{3}$

Příklad 19 Určete, jaký bude výsledek operace $y[k, l] = |x[k, l] \star h[k, l]|$. Vstup $x[k, l]$ je na obrázku vlevo. Výsledek nakreslete do obrázku vpravo. Bílá barva značí hodnoty 0, černá barva hodnoty 255. Konvoluční jádro (nebo také 2D filtr, nebo maska) má hodnoty:

$$h[k, l] = \frac{1}{3} \begin{bmatrix} 1 & 1 & 1 \\ 0 & 0 & 0 \\ -1 & -1 & -1 \end{bmatrix}$$



Příklad 20 Obrázek o rozměrech 256×256 obsahuje polovinu pixelů s hodnotou 100 a polovinu pixelů s hodnotou 200. Určete, jaký je poměr signálu k šumu při kvantování tohoto obrázku jedním bitem na pixel, pokud mají kvantovací hladiny hodnoty 101 a 202 a kvantuje se standardně zaokrouhlováním na nejbližší kvantovací hladinu.

$SNR = \dots\dots\dots 40$ dB

viz B

Semestrální zkouška ISS, 1. opravný termín, 24.1.2011, skupina D

Login: Příjmení a jméno: Podpis:
(čitelně!)


Příklad 1 Popište pohyb jednoho konce vrtule malého letadélka jako funkci dráhy x pomocí komplexní exponenciály. Dráhu označte jako x , osa "doprava-doleva" je reálná, osa "nahoru-dolů" je imaginární. Letadlo letí rychlostí 10m/s, vrtule se otáčí rychlostí 10 otáček za sekundu. Vrtule má poloměr 11 cm. Směr otáčení vrtule (po nebo proti směru hodinových ručiček) si můžete zvolit sami. Počáteční natočení vrtule neuvažujte (komplexní exponenciála tedy nebude mít žádnou počáteční fázi).

$$f(x) = 11 e^{j 2\pi x} \quad \text{nebo} \quad 11 e^{-j 2\pi x}$$


Příklad 2 Periodický signál $x(t)$ má periodu $T = 20$ ms. Jeho 2. koeficient Fourierovy řady $c_{x,2} = -1-j$. Určete koeficient $c_{y,2}$ Fourierovy řady signálu $y(t)$ zpožděného oproti $x(t)$ o 5ms: $y(t) = x(t) - 5$ ms.

$$c_{y,2} = 1 + j$$

Příklad 3 Nakreslete spektrální funkci signálu $x(t) = 2\delta(t + 2)$, kde $\delta(t)$ je Diracův impuls.



Příklad 4 Na obrázku je modul spektrální funkce $|X(j\omega)|$ signálu $x(t)$. Nakreslete modul spektrální funkce $|Y(j\omega)|$ signálu $y(t) = x(2t)$



Příklad 5 Chování systému se spojitým časem je popsáno diferenciální rovnicí $0.5 \frac{dy(t)}{dt} + y(t) = x(t)$. Napište jeho přenosovou funkci.

$$H(s) = \frac{1}{1 + 0,5s}$$

Příklad 6 Přenosová funkce systému se spojitým časem je $H(s) = \frac{1}{s^2-1}$. Určete, zda je tento systém stabilní.

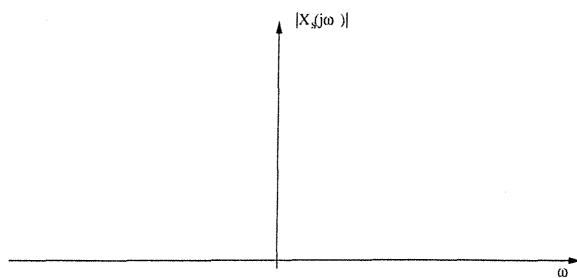
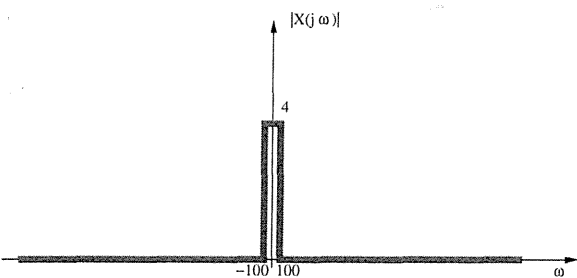
Odpověď (ANO/NE): **NE**

Příklad 7 Signál $x(t) = 8 \cos(16000\pi t)$ je ideálně navzorkován na vzorkovací frekvenci $F_s=8000$ Hz a pak ideálně rekonstruován. Je použit anti-aliasingový filtr. Zapište výsledný signál:

$x_r(t) = \dots\dots\dots$ **0**

Příklad 8 Modul spektrální funkce signálu $x(t)$ je na obrázku. Nakreslete modul spektrální funkce tohoto signálu ideálně navzorkovaného na frekvenci $F_s=800$ Hz.

viz A



Příklad 9 Vypočítejte kruhovou konvoluci dvou signálů s diskretním časem o délce $N = 4$:

n	0	1	2	3
$x_1[n]$	4	3	1	2
$x_2[n]$	1	2	2	2
$x_1[n] \circledast x_2[n]$	16	17	19	18

Příklad 10 Diskretní signál má pouze dva nenulové vzorky: $x[0] = 1$ a $x[1] = 2$. Určete hodnotu jeho Fourierovy transformace s diskretním časem (DTFT) na normované kruhové frekvenci $\omega_1 = 0$ rad.

$$\tilde{X}(e^{j\omega_1}) = 1 \cdot \underbrace{e^{-j\omega_1 \cdot 0}}_1 + 2 \cdot \underbrace{e^{-j\omega_1 \cdot 1}}_1$$

$\tilde{X}(e^{j\omega_1}) = \dots\dots\dots$ **3**

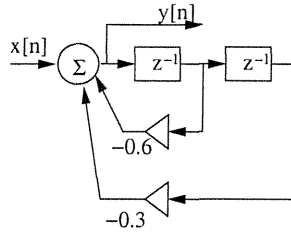
Příklad 11 Je dán periodický diskrétní signál s periodou $N = 4$:

n	0	1	2	3
$\tilde{x}[n]$	4	3	1	2

Spočítejte koeficient jeho diskrétní Fourierovy řady pro $k = 5$

$\tilde{X}[4] = 2 - 2j$ (viz A)
 $\tilde{X}[k+N] = \tilde{X}[k]$ (periodicita)
 $\tilde{X}[k] = \dots \cancel{2-2j} \dots^{3-j}$

Příklad 12 Na obrázku je blokové schéma číslicového filtru IIR druhého řádu:



Určete první tři vzorky jeho impulsní odezvy.

$h[0] = 1$ $h[1] = -0,6$ $h[2] = (-0,6)(-0,6) - 0,3 = 0,06$

Příklad 13 Určete přenosovou funkci filtru z předcházejícího příkladu.

$H(z) = \frac{1}{1 + 0,6z^{-1} + 0,3z^{-2}}$

Příklad 14 Určete póly číslicového filtru s přenosovou funkcí $H(z) = \frac{1}{1+0,25z^{-2}}$.

$p_1 = j/2$ $p_2 = -j/2$

Příklad 15 Bylo zaznamenáno 6 realizací náhodného procesu. V čase $t = 2$ byly naměřeny tyto hodnoty:

realizace ω	0	1	2	3	4	5
$\xi_\omega(2)$	5	4	1	2	3	3

Odhadněte hodnotu distribuční funkce $F(x, t)$ pro $t = 2$ a $x = 4.5$

$F(x, t) = \frac{5}{6}$

Příklad 16 Náhodný signál s diskretním časem je bílý šum: jeho autokorelační koeficient $R[0] = 1$, ostatní jsou nulové. Určete hodnotu jeho spektrální hustoty výkonu na normované kruhové frekvenci $\omega = \frac{\pi}{16}$ rad.

$G_x(e^{j\frac{\pi}{16}}) = \dots\dots\dots 1 \quad \text{viz } A$

Příklad 17 Hodnota spektrální hustoty výkonu náhodného signálu s diskretním časem $x[n]$ na frekvenci $\omega = \frac{\pi}{4}$ je $G_x(e^{j\frac{\pi}{4}}) = 5$. Signál prochází číslicovým filtrem, který má na této frekvenci hodnotu kmitočtové charakteristiky $H(e^{j\frac{\pi}{4}}) = -\frac{1}{\sqrt{2}} - j\frac{1}{\sqrt{2}}$. Určete hodnotu spektrální hustoty výkonu náhodného signálu s diskretním časem $y[n]$ na výstupu filtru na této frekvenci.

$G_y(e^{j\frac{\pi}{4}}) = \dots\dots\dots 5$

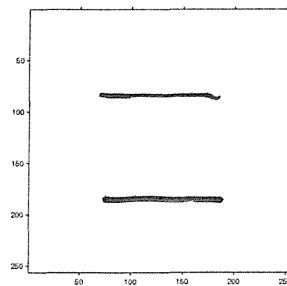
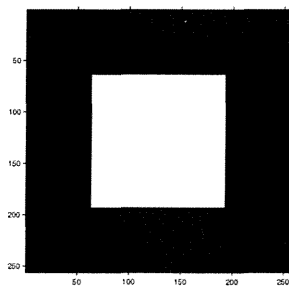
Příklad 18 Určete střední výkon P_s náhodného signálu $x[n]$ s funkcí hustoty rozdělení pravděpodobnosti danou: $p_x(g) = \begin{cases} \frac{1}{2} & \text{pro } 0 \leq g \leq 2 \\ 0 & \text{jinde} \end{cases}$

Pomůcka: střední výkon můžete vypočítat pomocí střední hodnoty a rozptylu jako $P_s = \mu^2 + D$.

$P_s = \dots\dots\dots \frac{2^2}{3} = \frac{4}{3}$

Příklad 19 Určete, jaký bude výsledek operace $y[k, l] = |x[k, l] \star h[k, l]|$. Vstup $x[k, l]$ je na obrázku vlevo. Výsledek nakreslete do obrázku vpravo. Bílá barva značí hodnoty 0, černá barva hodnoty 255. Konvoluční jádro (nebo také 2D filtr, nebo maska) má hodnoty:

$$h[k, l] = \frac{1}{3} \begin{bmatrix} 1 & 1 & 1 \\ 0 & 0 & 0 \\ -1 & -1 & -1 \end{bmatrix}$$



Příklad 20 Obrázek o rozměrech 256×256 obsahuje polovinu pixelů s hodnotou 100 a polovinu pixelů s hodnotou 200. Určete, jaký je poměr signálu k šumu při kvantování tohoto obrázku jedním bitem na pixel, pokud mají kvantovací hladiny hodnoty 110 a 220 a kvantuje se standardně zaokrouhlováním na nejbližší kvantovací hladinu.

$\text{SNR} = \dots\dots\dots 20 \quad \text{viz } A$