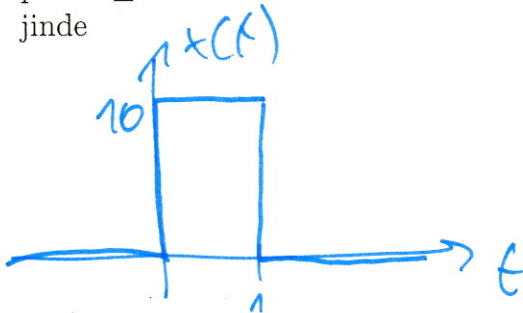


# Půlsemestrální zkouška ISS, 17.10.2017, BIB, zadání A

Login: ..... Příjmení a jméno: ..... Podpis: .....  
(čitelně!)

**Příklad 1** Nakreslete deterministický signál  $x(t)$  se spojitým časem definovaný takto:

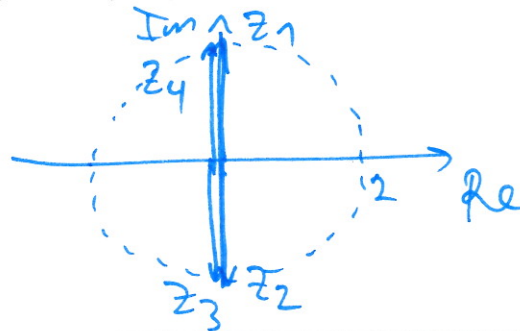
$$x(t) = \begin{cases} 10 & \text{pro } 0 \leq t < 1\text{s} \\ 0 & \text{jinde} \end{cases}$$



**Příklad 2** Je dán signál  $x[n]$  s diskrétním časem. Do tabulky napište hodnoty signálu s danou modifikací časové osy.

$n$	-8	-7	-6	-5	-4	-3	-2	-1	0	1	2	3	4	5	6	7	8
$x[n]$									4	3	1	2					
$x[-n+2]$							2	1	3	4							

**Příklad 3** Sečtěte zadaná komplexní čísla:  $z_1 = 2e^{j\frac{\pi}{2}}$ ,  $z_2 = 2e^{j\frac{3\pi}{2}}$ ,  $z_3 = 2e^{-j\frac{\pi}{2}}$ ,  $z_4 = 2e^{-j\frac{3\pi}{2}}$



$z = z_1 + z_2 + z_3 + z_4 = \dots\dots\dots 0 \dots\dots\dots$

**Příklad 4** Rozložte cosinusovku se spojitým časem  $x(t) = 10 \cos(200\pi t + \frac{\pi}{4})$  na komplexní exponenciály. Ve výsledném výrazu vyznačte, co jsou konstanty a co jsou funkce času  $t$ .

$$x(t) = \frac{10}{2} e^{j(200\pi t + \frac{\pi}{4})} + \frac{10}{2} e^{-j(200\pi t + \frac{\pi}{4})} =$$

$$= \underbrace{5 e^{j\frac{\pi}{4}}}_{\text{konstanty}} \underbrace{e^{j200\pi t}}_{\text{funkce času}} + \underbrace{5 e^{-j\frac{\pi}{4}}}_{\text{konstanty}} \underbrace{e^{-j200\pi t}}_{\text{funkce času}}$$

**Příklad 5** V programu v jazyce C je definováno pole  $x$  o  $N$  vzorcích. Napište kus kódu, který naplní pole  $y$  o stejné velikosti výsledkem filtrace IIR filtrem s diferenční rovnicí  $y[n] = x[n] - 0.2y[n-1] + 0.1y[n-2]$

```

y[0] = 0.0; y[1] = 0.0;
for (n = 2; n < N; n++) {
    y[n] = x[n] - 0.2 * y[n-1] + 0.1 * y[n-2];
}
    
```

**Příklad 6** Koeficienty FIR filtru jsou  $b_0 = 1$  a  $b_1 = -1$ . Určete typ filtru (dolní propust / horní propust / pásmová propust / pásmová zadrž) a velmi krátce zdůvodněte.

filtr bude propouštět změny (odpovídají vysokým frekvencím) a bude potlačovat stejnosměrnou složku (nulová frekvence).

**Příklad 7** IIR filtr je dán diferenční rovnicí  $y[n] = x[n] - 0.2y[n-1]$   
Určete vzorky jeho impulsní odezvy  $h[n]$  pro  $n = 0 \dots 3$ .

$n$	0	1	2	3
$h[n]$	1	-0.2	0.04	-0.008

**Příklad 8** V tabulce je definován neznámý signál  $x[n]$  a analyzační signál  $a[n]$  o délce  $N = 8$ . Určete koeficient  $c$  určující míru podobnosti  $x[n]$  a  $a[n]$ .

$n$	0	1	2	3	4	5	6	7
$x[n]$	2	1	0	1	2	1	0	1
$a[n]$	-1	-1	1	1	1	1	-1	-1

$$c = \sum_{n=0}^7 x[n]a[n]$$

$c = 0$

**Příklad 9** Pro signál  $x[n]$  z minulého příkladu spočítejte nulový koeficient diskrétní Fourierovy transformace (DFT). Pomůcka:  $X[k] = \sum_{n=0}^{N-1} x[n]e^{-j2\pi \frac{k}{N}n} = \sum x[n] \cdot e^{-j2\pi \frac{k}{N}n} =$

$$= \sum x[n] \cdot 1 = \sum x[n]$$

tabulka jen sečítáme vzorky  $x[n]$ ...

$X[0] = 8$

**Příklad 10** DFT je spočítána na  $N = 256$  vzorcích, výsledkem je tedy 256 koeficientů  $X[k]$ . Jaké přirozené frekvenci v Hz odpovídá  $k = 64$ , víme-li, že vzorkovací frekvence  $F_s = 48$  kHz?

$$\frac{k}{N} \cdot F_s = \frac{64}{256} \cdot 48 \text{ kHz} = 12$$

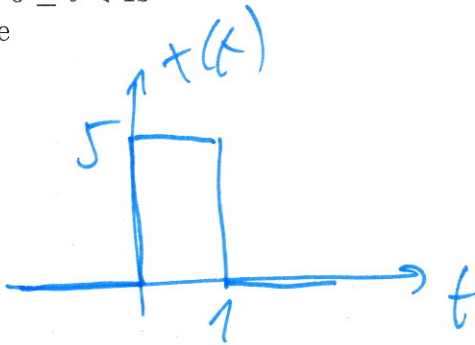
$f = 12 \text{ kHz}$

# Půlsemestrální zkouška ISS, 17.10.2017, BIB, zadání B

Login: ..... Příjmení a jméno: ..... Podpis: .....  
(čitelně!)

**Příklad 1** Nakreslete deterministický signál  $x(t)$  se spojitým časem definovaný takto:

$$x(t) = \begin{cases} 5 & \text{pro } 0 \leq t < 1\text{s} \\ 0 & \text{jinde} \end{cases}$$



**Příklad 2** Je dán signál  $x[n]$  s diskrétním časem. Do tabulky napište hodnoty signálu s danou modifikací časové osy.

$n$	-8	-7	-6	-5	-4	-3	-2	-1	0	1	2	3	4	5	6	7	8
$x[n]$									4	3	1	2					
$x[-n-2]$				2	1	3	4										

**Příklad 3** Sečtěte zadaná komplexní čísla:  $z_1 = 2e^{j\frac{\pi}{2}}$ ,  $z_2 = 2e^{j\frac{3\pi}{2}}$ ,  $z_3 = 2e^{-j\frac{\pi}{2}}$ ,  $z_4 = 2e^{-j\frac{3\pi}{2}}$

*viž A*

*0*

$z = z_1 + z_2 + z_3 + z_4 = \dots\dots\dots$

**Příklad 4** Rozložte cosinusovku se spojitým časem  $x(t) = 10 \cos(200\pi t - \frac{\pi}{4})$  na komplexní exponenciály. Ve výsledném výrazu vyznačte, co jsou konstanty a co jsou funkce času  $t$ .

*viž A*

$$x(t) = \underbrace{5e^{-j\frac{\pi}{4}}}_{\text{konstanty}} \underbrace{e^{j200\pi t}}_{\text{funkce času}} + \underbrace{5e^{j\frac{\pi}{4}}}_{\text{konstanty}} \underbrace{e^{-j200\pi t}}_{\text{funkce času}}$$

**Příklad 5** V programu v jazyce C je definováno pole  $x$  o  $N$  vzorcích. Napište kus kódu, který naplní pole  $y$  o stejné velikosti výsledkem filtrace IIR filtrem s diferenční rovnicí  $y[n] = x[n] - 0.2y[n-1] + 0.1y[n-2]$

*viž A ...*

$$y[n] = x[n] - 0.2 * y[n-1] + 0.1 * y[n-2];$$

**Příklad 6** Koeficienty FIR filtru jsou  $b_0 = 1$  a  $b_1 = -1$ . Určete typ filtru (dolní propust / horní propust / pásmová propust / pásmová zádrž) a velmi krátce zdůvodněte.

viz A

**Příklad 7** IIR filtr je dán diferenční rovnicí  $y[n] = x[n] + 0.2y[n-1]$ . Určete vzorky jeho impulsní odezvy  $h[n]$  pro  $n = 0 \dots 3$ .

$n$	0	1	2	3
$h[n]$	1	0.2	0.04	0.008

**Příklad 8** V tabulce je definován neznámý signál  $x[n]$  a analyzační signál  $a[n]$  o délce  $N = 8$ . Určete koeficient  $c$  určující míru podobnosti  $x[n]$  a  $a[n]$ .

$n$	0	1	2	3	4	5	6	7
$x[n]$	2	1	0	1	2	1	0	1
$a[n]$	1	-1	1	-1	1	-1	1	-1

viz A

2 -1 0 -1 2 -1 0 -1

$c = 0$

**Příklad 9** Pro signál  $x[n]$  z minulého příkladu spočítejte nultý koeficient diskrétní Fourierovy transformace (DFT). Pomůcka:  $X[k] = \sum_{n=0}^{N-1} x[n]e^{-j2\pi \frac{k}{N}n}$

viz A

8

$X[0] = 8$

**Příklad 10** DFT je spočítána na  $N = 256$  vzorcích, výsledkem je tedy 256 koeficientů  $X[k]$ . Jaké přirozené frekvenci v Hz odpovídá  $k = 64$ , víme-li, že vzorkovací frekvence  $F_s = 36$  kHz?

viz A

$$\frac{64}{256} \cdot 36 \text{ k} = 9 \text{ k}$$

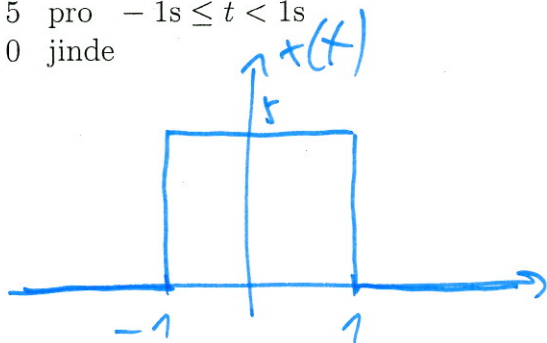
$f = 9 \text{ k Hz}$

# Půlsemestrální zkouška ISS, 17.10.2017, BIB, zadání C

Login: ..... Příjmení a jméno: ..... Podpis: .....  
(čitelně!)

**Příklad 1** Nakreslete deterministický signál  $x(t)$  se spojitým časem definovaný takto:

$$x(t) = \begin{cases} 5 & \text{pro } -1s \leq t < 1s \\ 0 & \text{jinde} \end{cases}$$



**Příklad 2** Je dán signál  $x[n]$  s diskrétním časem. Do tabulky napište hodnoty signálu s danou modifikací časové osy.

$n$	-8	-7	-6	-5	-4	-3	-2	-1	0	1	2	3	4	5	6	7	8
$x[n]$									4	3	1	2					
$x[-n+1]$							2	1	3	4							

**Příklad 3** Sečtěte zadaná komplexní čísla:  $z_1 = 2e^{j\frac{\pi}{2}}$ ,  $z_2 = 2e^{j\frac{3\pi}{2}}$ ,  $z_3 = 2e^{-j\frac{\pi}{2}}$ ,  $z_4 = 2e^{-j\frac{3\pi}{2}}$

*viz A*

*0*

$z = z_1 + z_2 + z_3 + z_4 = \dots\dots\dots$

**Příklad 4** Rozložte cosinusovku se spojitým časem  $x(t) = 40 \cos(200\pi t - \frac{\pi}{4})$  na komplexní exponenciály. Ve výsledném výrazu vyznačte, co jsou konstanty a co jsou funkce času  $t$ .

*viz A*

$$x(t) = 20e^{-j\frac{\pi}{4}}(e^{j200\pi t}) + 20e^{j\frac{\pi}{4}}(e^{-j200\pi t})$$

*konstanty* (pointing to the exponential terms) and *funkce času* (pointing to the  $e^{\pm j200\pi t}$  terms).

**Příklad 5** V programu v jazyce C je definováno pole  $x$  o  $N$  vzorcích. Napište kus kódu, který naplní pole  $y$  o stejné velikosti výsledkem filtrace IIR filtrem s diferenční rovnicí  $y[n] = x[n] - 0.2y[n-1] + 0.1y[n-2]$

*viz A ...*

$$y[n] = x[n] - 0.2 * y[n-1] + 0.1 * y[n-2];$$

**Příklad 6** Koeficienty FIR filtru jsou  $b_0 = 1$  a  $b_1 = -1$ . Určete typ filtru (dolní propust / horní propust / pásmová propust / pásmová zadrž) a velmi krátce zdůvodněte.

viž A

**Příklad 7** IIR filtr je dán diferenční rovnicí  $y[n] = x[n] - 0.5y[n-1]$ . Určete vzorky jeho impulsní odezvy  $h[n]$  pro  $n = 0 \dots 3$ .

$n$	0	1	2	3
$h[n]$	1	-0.5	+0.25	-0.125

**Příklad 8** V tabulce je definován neznámý signál  $x[n]$  a analyzační signál  $a[n]$  o délce  $N = 8$ . Určete koeficient  $c$  určující míru podobnosti  $x[n]$  a  $a[n]$ .

$n$	0	1	2	3	4	5	6	7
$x[n]$	2	1	0	1	2	1	0	1
$a[n]$	1	1	-1	-1	1	1	-1	-1

2 1 0 -1 2 1 0 -1

viž A

$c = \frac{4}{4} = 1$

**Příklad 9** Pro signál  $x[n]$  z minulého příkladu spočítejte nulový koeficient diskrétní Fourierovy transformace (DFT). Pomůcka:  $X[k] = \sum_{n=0}^{N-1} x[n]e^{-j2\pi \frac{k}{N}n}$

viž A

8

$X[0] = \dots$

**Příklad 10** DFT je spočítána na  $N = 256$  vzorcích, výsledkem je tedy 256 koeficientů  $X[k]$ . Jaké přirozené frekvenci v Hz odpovídá  $k = 64$ , víme-li, že vzorkovací frekvence  $F_s = 16$  kHz?

viž A  $\frac{64}{256} \cdot 16k = 4k$

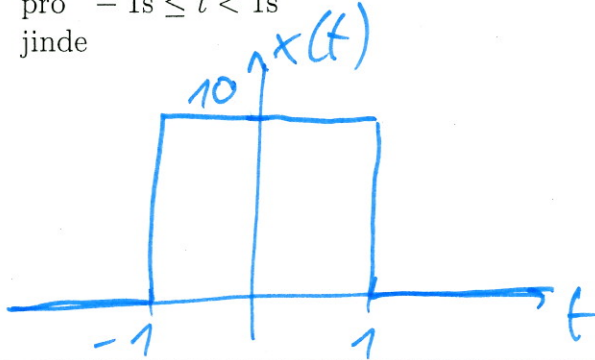
$f = 4 \text{ kHz}$

# Půlsemestrální zkouška ISS, 17.10.2017, BIB, zadání D

Login: ..... Příjmení a jméno: ..... Podpis: .....  
(čitelně!)

**Příklad 1** Nakreslete deterministický signál  $x(t)$  se spojitým časem definovaný takto:

$$x(t) = \begin{cases} 10 & \text{pro } -1s \leq t < 1s \\ 0 & \text{jinde} \end{cases}$$



**Příklad 2** Je dán signál  $x[n]$  s diskrétním časem. Do tabulky napište hodnoty signálu s danou modifikací časové osy.

$n$	-8	-7	-6	-5	-4	-3	-2	-1	0	1	2	3	4	5	6	7	8
$x[n]$									4	3	1	2					
$x[-n-1]$					2	1	3	4									

**Příklad 3** Sečtěte zadaná komplexní čísla:  $z_1 = 2e^{j\frac{\pi}{2}}$ ,  $z_2 = 2e^{j\frac{3\pi}{2}}$ ,  $z_3 = 2e^{-j\frac{\pi}{2}}$ ,  $z_4 = 2e^{-j\frac{3\pi}{2}}$

viž A

$z = z_1 + z_2 + z_3 + z_4 = \dots$

**Příklad 4** Rozložte cosinusovku se spojitým časem  $x(t) = 10 \cos(50\pi t - \frac{\pi}{2})$  na komplexní exponenciály. Ve výsledném výrazu vyznačte, co jsou konstanty a co jsou funkce času  $t$ .

$$x(t) = 5e^{-j\frac{\pi}{2}} e^{j50\pi t} + 5e^{j\frac{\pi}{2}} e^{-j50\pi t}$$

Handwritten annotations: "const." under the coefficients  $5e^{-j\frac{\pi}{2}}$  and  $5e^{j\frac{\pi}{2}}$ ; "funkce času" (function of time) under the exponential terms  $e^{j50\pi t}$  and  $e^{-j50\pi t}$ .

**Příklad 5** V programu v jazyce C je definováno pole  $x$  o  $N$  vzorcích. Napište kus kódu, který naplní pole  $y$  o stejné velikosti výsledkem filtrace IIR filtrem s diferenční rovnicí  $y[n] = x[n] - 0.2y[n-1] + 0.1y[n-2]$

viž A ...

$$y[n] = x[n] - 0.2 * y[n-1] + 0.1 * y[n-2];$$

**Příklad 6** Koeficienty FIR filtru jsou  $b_0 = 1$  a  $b_1 = -1$ . Určete typ filtru (dolní propust / horní propust / pásmová propust / pásmová zadrž) a velmi krátce zdůvodněte.

viz A

**Příklad 7** IIR filtr je dán diferenční rovnicí  $y[n] = x[n] + 0.5y[n-1]$ . Určete vzorky jeho impulsní odezvy  $h[n]$  pro  $n = 0 \dots 3$ .

$n$	0	1	2	3
$h[n]$	1	0.5	0.25	0.125

**Příklad 8** V tabulce je definován neznámý signál  $x[n]$  a analyzační signál  $a[n]$  o délce  $N = 8$ . Určete koeficient  $c$  určující míru podobnosti  $x[n]$  a  $a[n]$ .

$n$	0	1	2	3	4	5	6	7
$x[n]$	2	1	0	1	2	1	0	1
$a[n]$	1	1	1	1	-1	-1	-1	-1

viz A

2 1 0 1 -2 -1 0 -1

$c = 0$

**Příklad 9** Pro signál  $x[n]$  z minulého příkladu spočítejte nultý koeficient diskrétní Fourierovy transformace (DFT). Pomůcka:  $X[k] = \sum_{n=0}^{N-1} x[n]e^{-j2\pi \frac{k}{N}n}$

viz A

$X[0] = 8$

**Příklad 10** DFT je spočítána na  $N = 256$  vzorcích, výsledkem je tedy 256 koeficientů  $X[k]$ . Jaké přirozené frekvenci v Hz odpovídá  $k = 64$ , víme-li, že vzorkovací frekvence  $F_s = 8$  kHz?

viz A  $\frac{64}{256} \cdot 8k = 2k$

$f = 2$  kHz

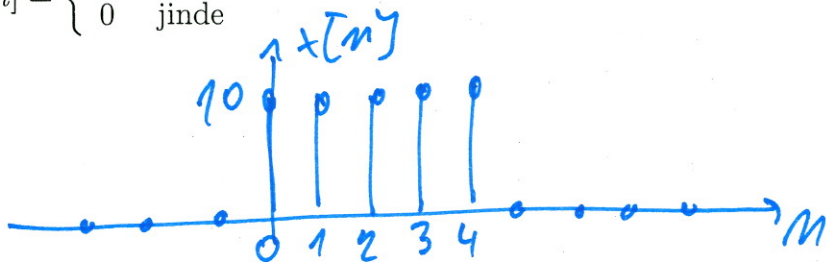


# Půlsemestrální zkouška ISS, 20.10.2017, BIA, zadání E

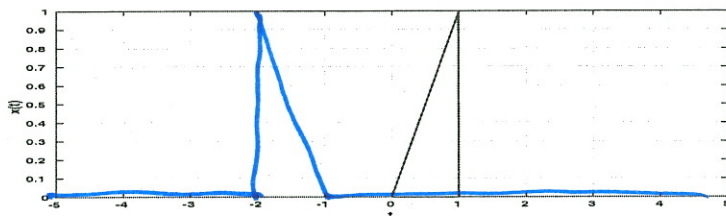
Login: ..... Příjmení a jméno: ..... Podpis: .....  
(čitelně!)

**Příklad 1** Nakreslete deterministický signál  $x[n]$  s diskrétním časem definovaný takto:

$$x[n] = \begin{cases} 10 & \text{pro } 0 \leq n \leq 4 \\ 0 & \text{jinde} \end{cases}$$



**Příklad 2** Na obrázku je dán signál  $x(t)$  se spojitým časem. Do stejného obrázku zakreslete signál s modifikací časové osy:  $y(t) = x(-t - 1)$



**Příklad 3** Vynásobte dvě komplexní čísla a výsledek zakreslete do komplexní roviny:

$$z_1 = 2e^{j\frac{\pi}{2}}, \quad z_2 = 2e^{-j\frac{\pi}{2}}$$

$$z_1 z_2 = 2 \cdot 2 e^{j(\frac{\pi}{2} - \frac{\pi}{2})} = 4 \cdot e^{j0}$$

$z = z_1 z_2 =$  4 .....

**Příklad 4** Rozložte kosinusovku s diskrétním časem  $x[n] = 20 \cos(0.1\pi n - \frac{\pi}{4})$  na komplexní exponenciály. Ve výsledném výrazu vyznačte, co jsou konstanty a co jsou funkce diskrétního času  $n$ .

$$\begin{aligned} x[n] &= \frac{20}{2} e^{j(0.1\pi n - \pi/4)} + \frac{20}{2} e^{-j(0.1\pi n - \pi/4)} = \\ &= \underbrace{10 e^{j\pi/4}}_{\text{konstanty}} \cdot \underbrace{e^{j0.1\pi n}}_{\text{funkce}} + \underbrace{10 e^{-j\pi/4}}_{\text{konstanty}} \cdot \underbrace{e^{-j0.1\pi n}}_{\text{funkce}} \end{aligned}$$

**Příklad 5** V jazyce C napište funkci realizující filtrování FIR filtrem s diferenční rovnicí  $y[n] = x[n] - 0.2x[n-1] + 0.1x[n-2]$ . Funkce je volána pro každý vzorek  $x[n]$  a vrací hodnotu vzorku  $y[n]$ . Nezapomeňte, že paměti ve funkci musí využívat statické proměnné. Hlavní program nepište.

```
float fir(float xn) {
    static float xmm1=0.0, xmm2=0.0; float yn;
    yn = xn - 0.2 * xmm1 + 0.1 * xmm2;
    xmm2 = xmm1; xmm1 = xn;
    return (yn);
}
```

**Příklad 6** Koeficienty FIR filtru jsou  $b_0 = b_1 = b_2 = b_3 = \frac{1}{4}$ . Určete typ filtru (dolní propuště / horní propuště / pásmová propuště / pásmová zádrž) a velmi krátce zdůvodněte.

filtr průměruje 4 sousední vzorky  $\Rightarrow$   
 vyhlazuje  $\Rightarrow$  potlačuje rychlé změny  
 (tedy vyšší frekvence)

**Příklad 7** Je dán FIR filtr s diferenční rovnicí  $y[n] = x[n] - 0.3x[n-1] + 0.1x[n-2]$ . Určete jeho impulsní odezvu  $h[n]$ .

$m$	0	1	2
$h[m]$	1	-0,3	0,1

**Příklad 8** V tabulce je definován neznámý signál  $x[n]$  a analyzační signál  $a[n]$  o délce  $N = 8$ . Určete koeficient  $c$  určující míru podobnosti  $x[n]$  a  $a[n]$ .

$n$	0	1	2	3	4	5	6	7
$x[n]$	1	1	1	1	-1	-1	-1	-1
$a[n]$	-1	-1	1	1	1	1	-1	-1

$$c = \sum_{n=0}^7 x[n]a[n]$$

$c = 0$

**Příklad 9** Pro signál  $x[n]$  z minulého příkladu spočítejte nulový koeficient diskrétní Fourierovy transformace (DFT). Pomůcka:  $X[k] = \sum_{n=0}^{N-1} x[n]e^{-j2\pi \frac{k}{N}n}$

pro  $k=0$ :  $X[0] = \sum_{n=0}^7 x[n] \frac{e^{-j2\pi \frac{0}{8}n}}{1} = \sum_{n=0}^7 x[n]$

takže jen součet vzorků  $x[n]$ ...

$X[0] = 0$

**Příklad 10** DFT je spočítána na  $N = 256$  vzorcích, výsledkem je tedy 256 koeficientů  $X[k]$ . Které  $k$  odpovídá přirozené frekvenci 1 kHz, víme-li, že vzorkovací frekvence  $F_s = 64$  kHz?

$$\frac{f}{F_s} \cdot N = \frac{1}{64} \cdot 256 = 4$$

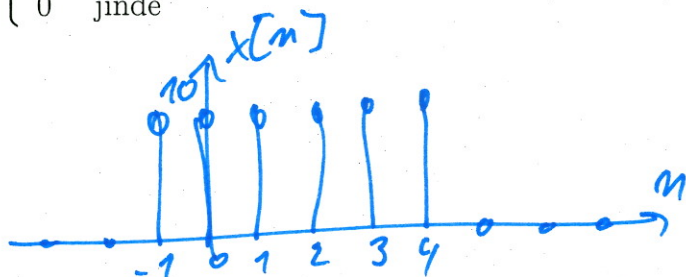
$k = 4$

# Půlsemestrální zkouška ISS, 20.10.2017, BIA, zadání F

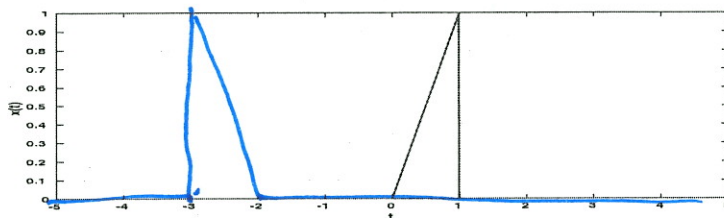
Login: ..... Příjmení a jméno: ..... Podpis: .....  
(čitelně!)

**Příklad 1** Nakreslete deterministický signál  $x[n]$  s diskrétním časem definovaný takto:

$$x[n] = \begin{cases} 10 & \text{pro } -1 \leq n \leq 4 \\ 0 & \text{jinde} \end{cases}$$



**Příklad 2** Na obrázku je dán signál  $x(t)$  se spojitým časem. Do stejného obrázku zakreslete signál s modifikací časové osy:  $y(t) = x(-t - 2)$



**Příklad 3** Vynásobte dvě komplexní čísla a výsledek zakreslete do komplexní roviny:

$$z_1 = 2e^{-j\frac{\pi}{2}}, \quad z_2 = 2e^{j\frac{\pi}{2}}$$

viz  $\mathbb{A}$

4

$$z = z_1 z_2 = \dots\dots\dots$$

**Příklad 4** Rozložte kosinusovku s diskrétním časem  $x[n] = 10 \cos(0.1\pi n + \frac{\pi}{2})$  na komplexní exponenciály. Ve výsledném výrazu vyznačte, co jsou konstanty a co jsou funkce diskrétního času  $n$ . viz  $\mathbb{A}$

$$x[n] = \underbrace{5e^{j\frac{\pi}{2}}}_{\text{konstanty}} \underbrace{e^{j0.1\pi n}}_{\text{funkce}} + \underbrace{5e^{-j\frac{\pi}{2}}}_{\text{konstanty}} \underbrace{e^{-j0.1\pi n}}_{\text{funkce}}$$

**Příklad 5** V jazyce C napište funkci realizující filtrování FIR filtrem s diferenční rovnicí  $y[n] = x[n] - 0.2x[n-1] + 0.1x[n-2]$ . Funkce je volána pro každý vzorek  $x[n]$  a vrací hodnotu vzorku  $y[n]$ . Nezapomeňte, že paměti ve funkci musí využívat statické proměnné. Hlavní program nepište.

viz  $\mathbb{A}$

$$y[n] = x[n] - 0.2 * x[n-1] + 0.1 * x[n-2];$$

**Příklad 6** Koeficienty FIR filtru jsou  $b_0 = b_1 = b_2 = b_3 = \frac{1}{4}$ . Určete typ filtru (dolní propuště / horní propuště / pásmová propuště / pásmová zádrž) a velmi krátce zdůvodněte.

viz ~~☒~~

**Příklad 7** Je dán FIR filtr s diferenční rovnicí  $y[n] = x[n] + 0.3x[n-1] + 0.1x[n-2]$ . Určete jeho impulsní odezvu  $h[n]$ .

$n$	0	1	2
$h[n]$	1	0,3	0,1

**Příklad 8** V tabulce je definován neznámý signál  $x[n]$  a analyzační signál  $a[n]$  o délce  $N = 8$ . Určete koeficient  $c$  určující míru podobnosti  $x[n]$  a  $a[n]$ .

$n$	0	1	2	3	4	5	6	7
$x[n]$	1	1	1	1	-1	-1	-1	-1
$a[n]$	1	-1	1	-1	1	-1	1	-1

viz E

1 -1 1 -1 -1 1 -1 1

$c = 0$

**Příklad 9** Pro signál  $x[n]$  z minulého příkladu spočítejte nulový koeficient diskretní Fourierovy transformace (DFT). Pomůcka:  $X[k] = \sum_{n=0}^{N-1} x[n]e^{-j2\pi \frac{k}{N}n}$

viz E

$X[0] = 0$

**Příklad 10** DFT je spočítána na  $N = 256$  vzorcích, výsledkem je tedy 256 koeficientů  $X[k]$ . Které  $k$  odpovídá přirozené frekvenci 1 kHz, víme-li, že vzorkovací frekvence  $F_s = 32$  kHz?

viz E

$$\frac{1}{32} \cdot 256 = 8$$

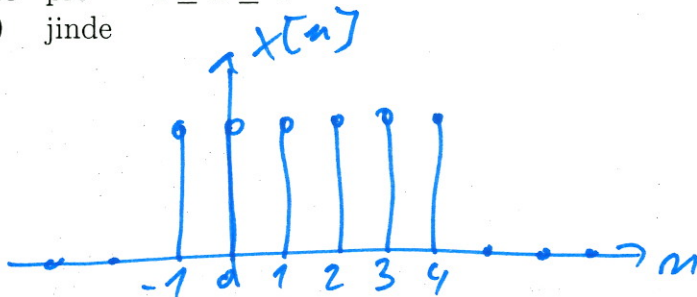
$k = 8$

# Půlsemestrální zkouška ISS, 20.10.2017, BIA, zadání G

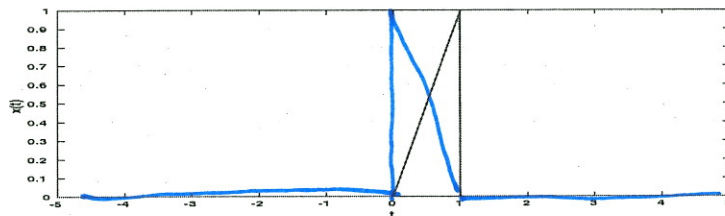
Login: ..... Příjmení a jméno: ..... Podpis: .....  
(čitelně!)

**Příklad 1** Nakreslete deterministický signál  $x[n]$  s diskrétním časem definovaný takto:

$$x[n] = \begin{cases} 10 & \text{pro } -1 \leq n \leq 4 \\ 0 & \text{jinde} \end{cases}$$




**Příklad 2** Na obrázku je dán signál  $x(t)$  se spojitým časem. Do stejného obrázku zakreslete signál s modifikací časové osy:  $y(t) = x(-t + 1)$



**Příklad 3** Vynásobte dvě komplexní čísla a výsledek zakreslete do komplexní roviny:

$$z_1 = 2e^{j\frac{\pi}{4}}, \quad z_2 = 2e^{j\frac{\pi}{4}}$$

$$z_1 z_2 = 4 \cdot e^{j(\frac{\pi}{4} + \frac{\pi}{4})} = 4 \cdot e^{j\frac{\pi}{2}}$$



$$z = z_1 z_2 = 4j$$

**Příklad 4** Rozložte cosinusovku s diskrétním časem  $x[n] = 10 \cos(0.1\pi n - \frac{\pi}{4})$  na komplexní exponenciály. Ve výsledném výrazu vyznačte, co jsou konstanty a co jsou funkce diskrétního času  $n$ .

$$x[n] = 5e^{-j\frac{\pi}{4}} e^{j0.1\pi n} + 5e^{j\frac{\pi}{4}} e^{-j0.1\pi n}$$

konstanty
funkce

**Příklad 5** V jazyce C napište funkci realizující filtrování FIR filtrem s diferenční rovnicí  $y[n] = x[n] - 0.2x[n-1] + 0.1x[n-2]$ . Funkce je volána pro každý vzorek  $x[n]$  a vrací hodnotu vzorku  $y[n]$ . Nezapomeňte, že paměti ve funkci musí využívat statické proměnné. Hlavní program nepište.

$$y[n] = x[n] - 0.2 * x[n-1] + 0.1 * x[n-2];$$

**Příklad 6** Koeficienty FIR filtru jsou  $b_0 = b_1 = b_2 = b_3 = \frac{1}{4}$ . Určete typ filtru (dolní propuště / horní propuště / pásmová propuště / pásmová zádrž) a velmi krátce zdůvodněte.

viž #

**Příklad 7** Je dán FIR filtr s diferenční rovnicí  $y[n] = x[n] + 0.1x[n-1] - 0.1x[n-2]$ . Určete jeho impulsní odezvu  $h[n]$ .

$n$	0	1	2
$h[n]$	1	0.1	-0.1

**Příklad 8** V tabulce je definován neznámý signál  $x[n]$  a analyzační signál  $a[n]$  o délce  $N = 8$ . Určete koeficient  $c$  určující míru podobnosti  $x[n]$  a  $a[n]$ .

$n$	0	1	2	3	4	5	6	7
$x[n]$	1	1	-1	1	-1	-1	-1	-1
$a[n]$	1	1	-1	-1	1	1	-1	-1

viž E

1 1 -1 -1 1 -1 1 1

0

$c = \dots\dots\dots$

**Příklad 9** Pro signál  $x[n]$  z minulého příkladu spočítejte nultý koeficient diskrétní Fourierovy transformace (DFT). Pomůcka:  $X[k] = \sum_{n=0}^{N-1} x[n]e^{-j2\pi \frac{k}{N}n}$

viž E

$X[0] = \dots\dots\dots$

**Příklad 10** DFT je spočítána na  $N = 256$  vzorcích, výsledkem je tedy 256 koeficientů  $X[k]$ . Které  $k$  odpovídá přirozené frekvenci 1 kHz, víme-li, že vzorkovací frekvence  $F_s = 16$  kHz?

viž E

$$\frac{1}{16} \cdot 256 = 16$$

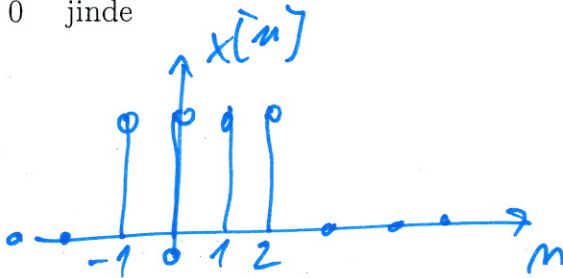
$k = \dots\dots\dots$

# Půlsemestrální zkouška ISS, 20.10.2017, BIA, zadání H

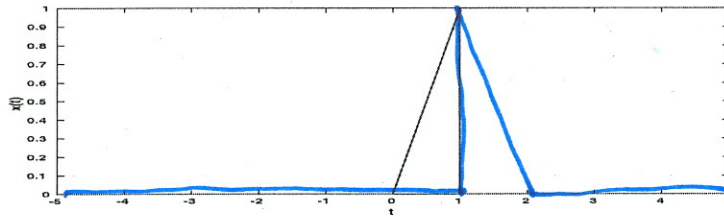
Login: ..... Příjmení a jméno: ..... Podpis: .....  
(čitelně!)

**Příklad 1** Nakreslete deterministický signál  $x[n]$  s diskretním časem definovaný takto:

$$x[n] = \begin{cases} 10 & \text{pro } -1 \leq n \leq 2 \\ 0 & \text{jinde} \end{cases}$$




**Příklad 2** Na obrázku je dán signál  $x(t)$  se spojitým časem. Do stejného obrázku zakreslete signál s modifikací časové osy:  $y(t) = x(-t + 2)$



**Příklad 3** Vynásobte dvě komplexní čísla a výsledek zakreslete do komplexní roviny:

$$z_1 = 2e^{j\frac{\pi}{4}}, \quad z_2 = 4e^{j\frac{\pi}{4}}$$

$$z_1 z_2 = 8 e^{j(\frac{\pi}{4} + \frac{\pi}{4})} = 8 e^{j\frac{\pi}{2}}$$



$$z = z_1 z_2 = 8j$$

**Příklad 4** Rozložte cosinusovku s diskretním časem  $x[n] = 10 \cos(0.1\pi n + \frac{\pi}{4})$  na komplexní exponenciály. Ve výsledném výrazu vyznačte, co jsou konstanty a co jsou funkce diskretního času  $n$ .

$$x[n] = \underbrace{5e^{j\frac{\pi}{4}}}_{\text{constant}} \underbrace{e^{j0.1\pi n}}_{\text{function}} + \underbrace{5e^{-j\frac{\pi}{4}}}_{\text{constant}} \underbrace{e^{-j0.1\pi n}}_{\text{function}}$$

**Příklad 5** V jazyce C napište funkci realizující filtrování FIR filtrem s diferenční rovnicí

$y[n] = x[n] - 0.2x[n-1] + 0.1x[n-2]$ . Funkce je volána pro každý vzorek  $x[n]$  a vrací hodnotu vzorku  $y[n]$ . Nezapomeňte, že paměti ve funkci musí využívat statické proměnné. Hlavní program nepište.

viz #

$$y_m = x_m - 0.2 * x_{m-1} + 0.1 * x_{m-2};$$

**Příklad 6** Koeficienty FIR filtru jsou  $b_0 = b_1 = b_2 = b_3 = \frac{1}{4}$ . Určete typ filtru (dolní propuště / horní propuště / pásmová propuště / pásmová zádrž) a velmi krátce zdůvodněte.

viz ~~A~~

**Příklad 7** Je dán FIR filtr s diferenční rovnicí  $y[n] = x[n] - 0.3x[n-1] - 0.1x[n-2]$ . Určete jeho impulsní odezvu  $h[n]$ .

$n$	0	1	2
$h[n]$	1	-0,3	-0,1

**Příklad 8** V tabulce je definován neznámý signál  $x[n]$  a analyzační signál  $a[n]$  o délce  $N = 8$ . Určete koeficient  $c$  určující míru podobnosti  $x[n]$  a  $a[n]$ .

$n$	0	1	2	3	4	5	6	7
$x[n]$	1	1	1	1	-1	-1	-1	-1
$a[n]$	1	1	1	1	-1	-1	-1	-1

viz E

$c = \dots\dots\dots 8$

**Příklad 9** Pro signál  $x[n]$  z minulého příkladu spočítejte nulový koeficient diskretní Fourierovy transformace (DFT). Pomůcka:  $X[k] = \sum_{n=0}^{N-1} x[n]e^{-j2\pi \frac{k}{N}n}$

viz E

$X[0] = \dots\dots\dots 0$

**Příklad 10** DFT je spočítána na  $N = 256$  vzorcích, výsledkem je tedy 256 koeficientů  $X[k]$ . Které  $k$  odpovídá přirozené frekvenci 1 kHz, víme-li, že vzorkovací frekvence  $F_s = 8$  kHz?

viz E

$$\frac{1}{8} \cdot 256 = 32$$

$k = \dots\dots\dots 32$